



LÊ ANH VINH (Chủ biên)
NGUYỄN ÁNG - VŨ VĂN DƯƠNG - NGUYỄN MINH HẢI
HOÀNG QUẾ HƯỜNG - BÙI BÁ MẠNH

Vở bài tập TOÁN 2

TẬP HAI



NHÀ XUẤT BẢN GIÁO DỤC VIỆT NAM

LÊ ANH VINH (Chủ biên)
NGUYỄN ÁNG – VŨ VĂN DƯƠNG – NGUYỄN MINH HẢI
HOÀNG QUẾ HƯỜNG – BÙI BÁ MẠNH

Vở bài tập TOÁN 2

TẬP HAI

KẾT NỐI TRI THỨC
VỚI CUỘC SỐNG

NHÀ XUẤT BẢN GIÁO DỤC VIỆT NAM

MỤC LỤC

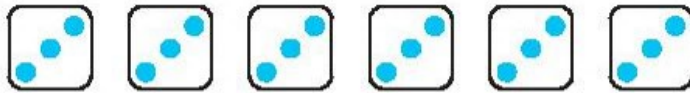
	Trang		Trang
Bài 37. Phép nhân	3	Bài 59. Phép cộng (không nhớ) trong phạm vi 1 000	70
Bài 38. Thừa số, tích	6	Bài 60. Phép cộng (có nhớ) trong phạm vi 1 000	74
Bài 39. Bảng nhân 2	9	Bài 61. Phép trừ (không nhớ) trong phạm vi 1 000	78
Bài 40. Bảng nhân 5	12	Bài 62. Phép trừ (có nhớ) trong phạm vi 1 000	82
Bài 41. Phép chia.....	14	Bài 63. Luyện tập chung	88
Bài 42. Số bị chia, số chia, thương.....	17	Bài 64. Thu thập, phân loại, kiểm đếm số liệu	91
Bài 43. Bảng chia 2.....	20	Bài 65. Biểu đồ tranh.....	93
Bài 44. Bảng chia 5.....	22	Bài 66. Chắc chắn, có thể, không thể	96
Bài 45. Luyện tập chung	24	Bài 67. Thực hành và trải nghiệm thu thập, phân loại, kiểm đếm số liệu.....	97
Bài 46. Khối trụ, khối cầu	31	Bài 68. Ôn tập các số trong phạm vi 1 000	99
Bài 47. Luyện tập chung	35	Bài 69. Ôn tập phép cộng, phép trừ trong phạm vi 100.....	102
Bài 48. Đơn vị, chục, trăm, nghìn	39	Bài 70. Ôn tập phép cộng, phép trừ trong phạm vi 1 000.....	106
Bài 49. Các số tròn trăm, tròn chục	42	Bài 71. Ôn tập phép nhân, phép chia	111
Bài 50. So sánh các số tròn trăm, tròn chục	45	Bài 72. Ôn tập hình học.....	116
Bài 51. Số có ba chữ số	47	Bài 73. Ôn tập đo lường	120
Bài 52. Viết số thành tổng các trăm, chục, đơn vị	51	Bài 74. Ôn tập kiểm đếm số liệu và lựa chọn khả năng.....	123
Bài 53. So sánh các số có ba chữ số.....	54	Bài 75. Ôn tập chung.....	125
Bài 54. Luyện tập chung	57		
Bài 55. Đề-xi-mét. Mét. Ki-lô-mét.....	60		
Bài 56. Giới thiệu tiền Việt Nam	64		
Bài 57. Thực hành và trải nghiệm đo độ dài	65		
Bài 58. Luyện tập chung	66		

BÀI 37

PHÉP NHÂN

Tiết 1

1



a) Số ?

• $3 + 3 + 3 + 3 = \square$

• $3 + 3 + 3 + 3 + 3 = \square$

$3 \times 4 = \square$

$3 \times \square = \square$

• $3 + 3 + 3 = \square$

• $3 + 3 + 3 + 3 + 3 + 3 = \square$

$3 \times \square = \square$

$3 \times \square = \square$

b) Viết vào chỗ chấm (theo mẫu).

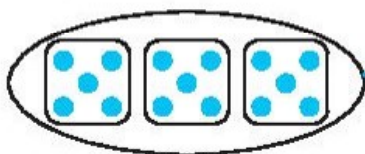
Mẫu: $3 \times 4 = 3 + 3 + 3 + 3 = 12$. Vậy $3 \times 4 = 12$.

• $3 \times 7 = \dots\dots\dots$ Vậy $3 \times 7 = \dots\dots\dots$

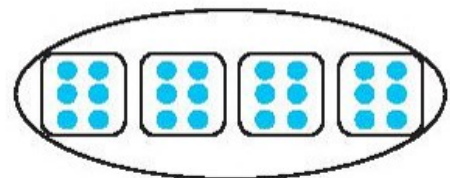
• $3 \times 8 = \dots\dots\dots$ Vậy $3 \times 8 = \dots\dots\dots$

2

Nói (theo mẫu).

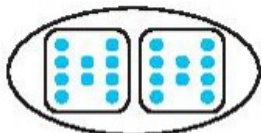


5×6



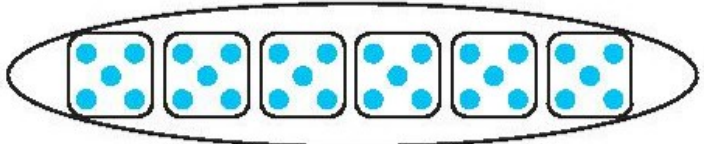

5×3

10×2




6×4

4×3



3 Số ?



Bài giải

Số cánh quạt có tất cả là:

$$3 \times \square = \square \text{ (cánh quạt)}$$

Đáp số: \square cánh quạt.

Tiết 2

- 1 a) Viết phép cộng các số hạng bằng nhau thành phép nhân (theo mẫu).


Phép cộng	Phép nhân
$2 + 2 + 2 + 2 = 8$	$2 \times 4 = 8$
$2 + 2 + 2 + 2 + 2 + 2 = 12$	
$2 + 2 + 2 + 2 + 2 + 2 + 2 + 2 = 16$	

- b) Viết phép nhân thành phép cộng các số hạng bằng nhau (theo mẫu).

Phép nhân	Phép cộng
$2 \times 5 = 10$	$2 + 2 + 2 + 2 + 2 = 10$
$3 \times 6 = 18$	
$4 \times 5 = 20$	

2 ✎ Nói (theo mẫu).

Tìm số chân của mỗi nhóm các con vật.





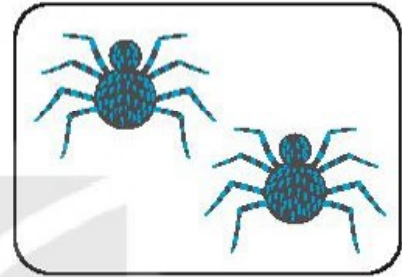

$$6 \times 3 = 18$$

$$8 \times 2 = 16$$

$$6 \times 4 = 24$$

$$4 \times 6 = 24$$

$$2 \times 5 = 10$$



3 ✎ Tính (theo mẫu).

Mẫu: $3 \times 4 = 3 + 3 + 3 + 3 = 12$. Vậy $3 \times 4 = 12$.

a) $5 \times 3 = \dots\dots\dots = \dots\dots$ Vậy $5 \times 3 = \dots\dots$

b) $3 \times 5 = \dots\dots\dots = \dots\dots$ Vậy $3 \times 5 = \dots\dots$

c) $6 \times 3 = \dots\dots\dots = \dots\dots$ Vậy $6 \times 3 = \dots\dots$

4 ✎ Số ?

Mỗi con bọ rùa có 6 chân. Hỏi 3 con bọ rùa có bao nhiêu chân?

Bài giải

Số chân của 3 con bọ rùa có là:

$$\square \times 3 = \square \text{ (chân).}$$

Đáp số: \square chân.

BÀI 38

THỪA SỐ, TÍCH

Tiết 1

1 Số ?

Phép nhân	$3 \times 5 = 15$	$2 \times 5 = 10$	$4 \times 2 = 8$	$6 \times 3 = 18$
Thừa số	3			
Thừa số	5			
Tích	15			

2 a) Nói (theo mẫu).



$$5 \times 3 = 15 \text{ (l)}$$

(A)

$$2 \times 5 = 10 \text{ (l)}$$



(B)

$$2 \times 3 = 6 \text{ (l)}$$

(C)

$$3 \times 4 = 12 \text{ (l)}$$

(D)



b) Số ?

Phép nhân	(A)	(B)	(C)	(D)
Thừa số	5			
Thừa số	3			
Tích	15			

3 Số ?

Từ các thừa số là 5, 4, 3, 2 và các tích là 8, 15, em hãy lập hai phép nhân thích hợp.

$$\square \times \square = \square$$

$$\square \times \square = \square$$

Tiết 2

1 Viết tích thành tổng các số hạng bằng nhau rồi tính (theo mẫu).

Mẫu: $6 \times 3 = 6 + 6 + 6 = 18$. Vậy $6 \times 3 = 18$.

a) $3 \times 4 = \dots\dots\dots = \dots\dots$ Vậy $3 \times 4 = \dots\dots$

b) $4 \times 3 = \dots\dots\dots = \dots\dots$ Vậy $4 \times 3 = \dots\dots$

c) $2 \times 7 = \dots\dots\dots = \dots\dots$ Vậy $2 \times 7 = \dots\dots$

2 Tô màu đỏ vào các thừa số, màu xanh vào tích tương ứng trong mỗi phép nhân sau:


a) $\textcircled{4} \times \textcircled{2} = \textcircled{8}$

b) $\square \times \square = \square$

c) $\triangle 6 \times \triangle 5 = \triangle 30$

d) $\diamond 2 \times \diamond 7 = \diamond 14$

3 Số ?



a) 3 hàng có tất cả bao nhiêu ô tô?

Bài giải

Số ô tô ở cả 3 hàng là:

$$\square \times 3 = \square \text{ (ô tô)}$$

Đáp số: \square ô tô.

b) 4 cột có tất cả bao nhiêu ô tô?

Bài giải

Số ô tô ở cả 4 cột là:

$$\square \times 4 = \square \text{ (ô tô)}$$

Đáp số: \square ô tô.

c) Nhận xét: $3 \times \square = \square \times 3$

4 >; <; = ?



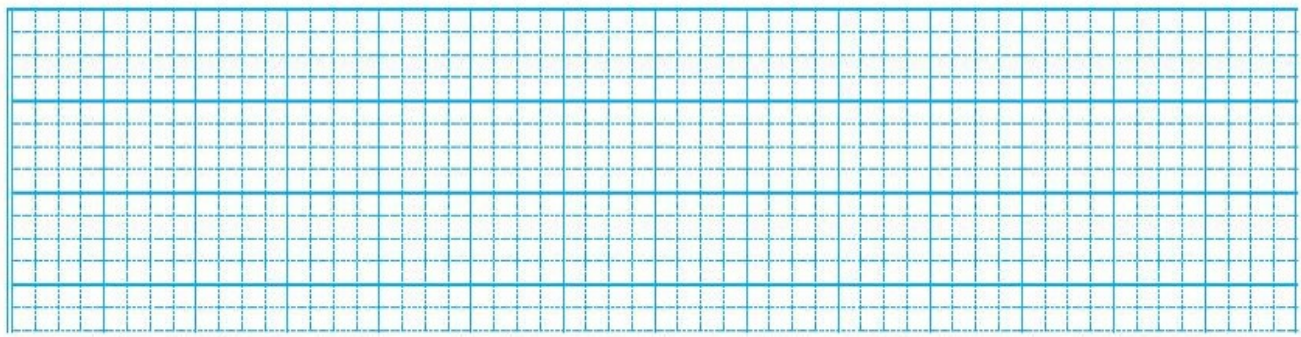
a) 2×5 \square 5×2

b) 5×2 \square 5×3

c) 2×5 \square 2×4

5 Mỗi xe đạp có 2 bánh xe. Hỏi 5 xe đạp như vậy có bao nhiêu bánh xe?

Bài giải



BÀI 39

BẢNG NHÂN 2

Tiết 1

1 ✎ Tính nhẩm.

$2 \times 2 = \dots\dots$

$2 \times 3 = \dots\dots$

$2 \times 4 = \dots\dots$

$2 \times 7 = \dots\dots$

$2 \times 8 = \dots\dots$

$2 \times 6 = \dots\dots$

$2 \times 9 = \dots\dots$

$2 \times 5 = \dots\dots$

$2 \times 10 = \dots\dots$

2 ✎ Số ?

Thừa số	2	2	2	2	2	2
Thừa số	4	5	6	7	8	9
Tích	8					

3 ✎



A




B



C



D



E



G



H



I

a) Số ?

Bông hoa	A	B	C	D	E	G	H	I
Tích	16							

b) Viết tiếp vào chỗ chấm cho thích hợp.

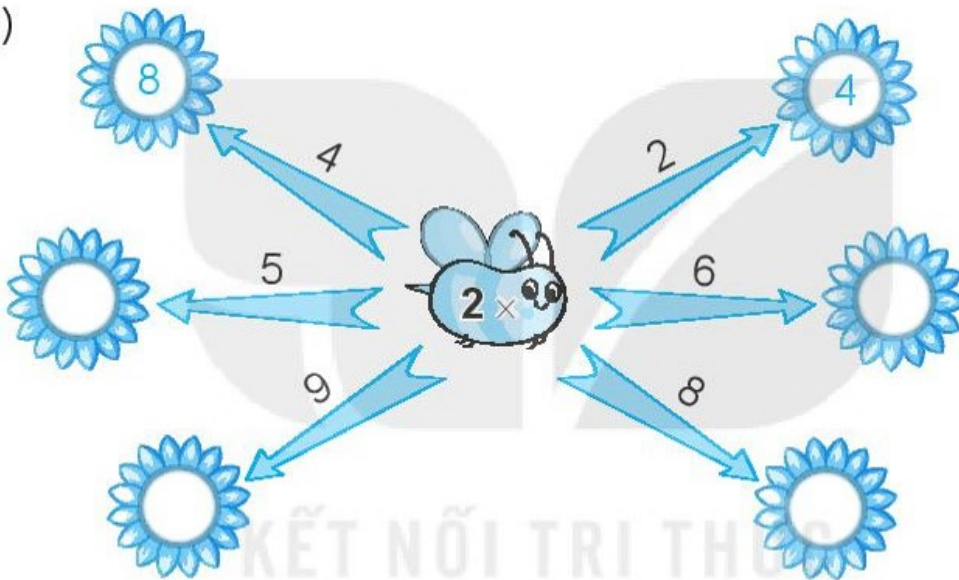
Trong bốn bông hoa C, D, E, G:

- Bông hoa ghi tích lớn nhất.
- Bông hoa ghi tích bé nhất.

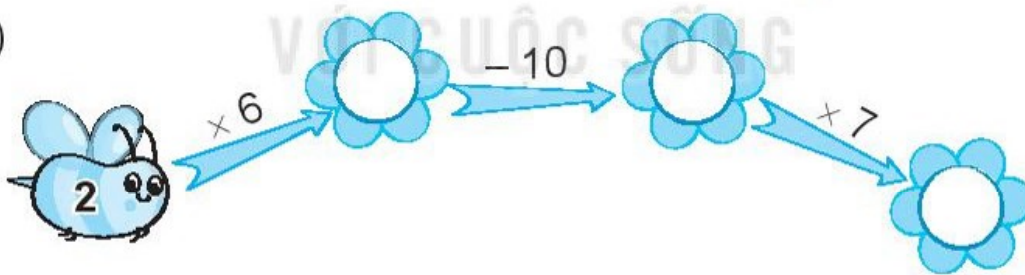
Tiết 2

1 ✎ Số ?


a)



b)



2 ✎ Đếm thêm 2 rồi viết số thích hợp vào ô trống.



3 Số ?

Lập ba phép nhân thích hợp từ các thừa số và tích trong bảng.

Thừa số	Thừa số	Tích
2	4	14
2	7	16
2	8	8

Các phép nhân lập được là:

$$\square \times \square = \square \quad \square \times \square = \square \quad \square \times \square = \square$$

4 Số ?



a) Có \square con thỏ, \square con gà, \square con vịt.

b) Số chân vịt có là:

$$\square \times \square = \square \text{ (cái chân)}$$

c) Số chân cả đàn gà có là:

$$\square \times \square = \square \text{ (cái chân)}$$

d) Số tai thỏ có là:

$$\square \times \square = \square \text{ (cái tai)}$$

e) Số chân gà con có là:

$$\square \times \square = \square \text{ (cái chân)}$$

Tiết 1

1 Số ?

a) $5 \times 3 \rightarrow \square$ $5 \times 7 \rightarrow \square$ $5 \times 4 \rightarrow \square$

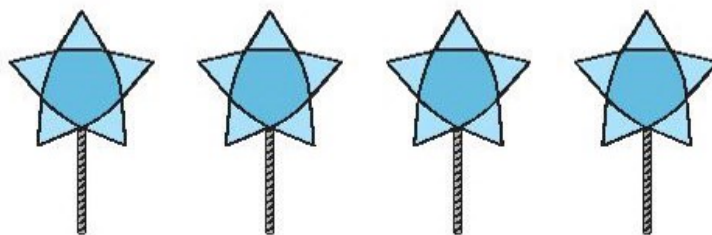
b) $5 \times 2 \rightarrow \square$ $5 \times 5 \rightarrow \square$ $5 \times 9 \rightarrow \square$

2 Nói (theo mẫu).

20 15 14 18 30

2×9 5×4 5×6 5×3 2×7

3 Số ?



Mỗi đèn ông sao có 5 cánh.
Hỏi 4 đèn ông sao như vậy
có bao nhiêu cánh?

Bài giải

Số cánh của 4 đèn ông sao là:

$\square \times \square = \square$ (cánh)

Đáp số: \square cánh sao.

BÀI 41

PHÉP CHIA

Tiết 1

1 Nói (theo mẫu).



Có 3 đèn ông sao, mỗi đèn có 5 cánh sao. Hỏi có tất cả bao nhiêu cánh sao?

$$15 : 5 = 3$$

Đếm được 15 cánh sao. Hỏi có bao nhiêu đèn ông sao 5 cánh?

$$15 : 3 = 5$$

Có 15 bông hoa dán đều vào 3 đèn ông sao. Hỏi mỗi đèn ông sao có mấy bông hoa?

$$5 \times 3 = 15$$

2 Số ?

Mẫu:

$$2 \times 5 = 10 \begin{cases} \rightarrow 10 : 2 = 5 \\ \rightarrow 10 : 5 = 2 \end{cases}$$

$$a) 5 \times 4 = 20 \begin{cases} \rightarrow 20 : 5 = \square \\ \rightarrow 20 : 4 = \square \end{cases}$$

$$b) 5 \times 3 = 15 \begin{cases} \rightarrow 15 : \square = 3 \\ \rightarrow 15 : \square = 5 \end{cases}$$

$$c) 2 \times 3 = 6 \begin{cases} \rightarrow 6 : \square = \square \\ \rightarrow \square : \square = \square \end{cases}$$

3 Số ?

Từ ba thẻ số **2**, **6**, **3**, em lập được hai phép chia là:

$$\square 6 : \square = \square ; \quad \square : \square = \square$$

Tiết 2

1 Số ?

a)

×	2	2	2	2	2
	6	7	8	9	10
	12				

b)

:	12	14	16	18	20
	2	2	2	2	2
	6				

2 Số ?

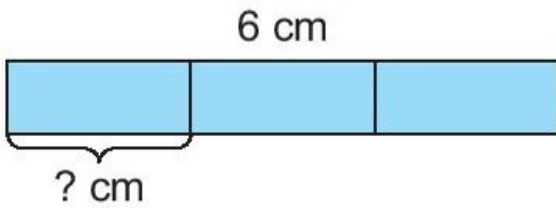
$$a) 2 \text{ cm} \times 6 = \square \text{ cm} \quad 12 \text{ cm} : 2 = \square \text{ cm} \quad 18 \text{ cm} : 2 = \square \text{ cm}$$

$$b) 2 \text{ kg} \times 5 = \square \text{ kg} \quad 10 \text{ kg} : 2 = \square \text{ kg} \quad 16 \text{ kg} : 2 = \square \text{ kg}$$

$$c) 2 \text{ l} \times 7 = \square \text{ l} \quad 14 \text{ l} : 2 = \square \text{ l} \quad 20 \text{ l} : 2 = \square \text{ l}$$

3 **Số ?**

a) Chia băng giấy dài 6 cm thành 3 phần bằng nhau. Hỏi mỗi phần dài bao nhiêu xăng-ti-mét?



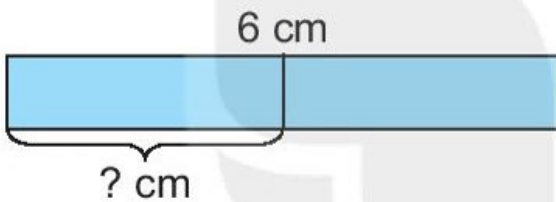
Bài giải

Chiều dài mỗi phần là:

$$\square : \square = \square \text{ (cm)}$$

Đáp số: \square cm.

b) Chia băng giấy dài 6 cm thành 2 phần bằng nhau. Hỏi mỗi phần dài bao nhiêu xăng-ti-mét?



Bài giải

Chiều dài mỗi phần là:

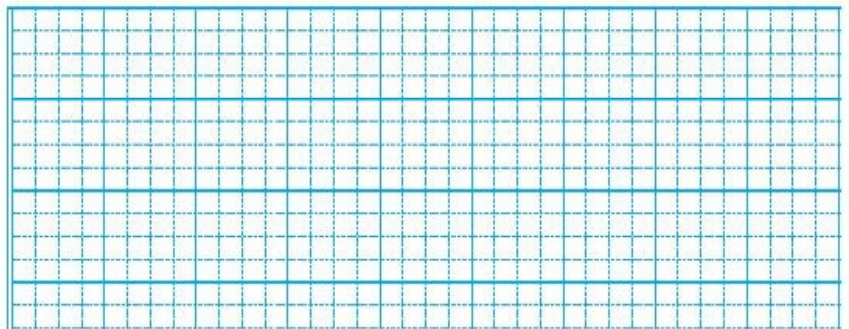
$$\square : \square = \square \text{ (cm)}$$

Đáp số: \square cm.

4 **Số ?** Rô-bốt chia 15 l nước mắm vào các can, mỗi can 5 l. Hỏi được bao nhiêu can nước mắm như vậy?



Bài giải



BÀI 42

SỐ BỊ CHIA, SỐ CHIA, THƯƠNG

Tiết 1

1 Nói (theo mẫu).

$$14 : 2 = 7$$

$$15 : 3 = 5$$

$$8 : 2 = 4$$

Số bị chia

Số chia

Thương

$$10 : 5 = 2$$

$$15 : 5 = 3$$

$$8 : 4 = 2$$

2 a) Nói mỗi bài toán với bài giải rồi viết số thích hợp vào ô trống.

Chia 15 bạn thành các nhóm, mỗi nhóm 5 bạn. Hỏi có mấy nhóm như vậy?

Chia đều 15 cái bánh vào 3 hộp. Hỏi mỗi hộp có mấy cái bánh?

Bài giải

Số nhóm có là:

$$15 : 5 = \square \text{ (nhóm)}$$

Đáp số: \square nhóm.

Bài giải

Số cái bánh ở mỗi hộp là:

$$15 : 3 = \square \text{ (cái)}$$

Đáp số: \square cái bánh.

b) **Số ?**

Phép chia	$15 : 3 = 5$	$15 : 5 = 3$
Số bị chia		
Số chia		
Thương		

3 Chia 8 bạn thành các cặp để đấu cờ. Hỏi có mấy cặp đấu cờ như vậy?

Bài giải

Tiết 2

1 **Số ?**

a)

Phép nhân	Thừa số	Thừa số	Tích
$2 \times 7 = 14$	2	7	14
$2 \times 6 = 12$			
$5 \times 8 = 40$			

b)

Phép chia	Số bị chia	Số chia	Thương
$14 : 2 = 7$	14	2	7
$12 : 6 = 2$			
$40 : 5 = 8$			

2 Số ?

Tìm thương trong phép chia, biết:

a) Số bị chia là 16, số chia là 2.

$$\square : \square = \square$$

Vậy thương là \square .

b) Số bị chia là 18, số chia là 2.

$$\square : \square = \square$$

Vậy thương là \square .

3 Số ?

a) Từ ba số 2, 4, 8, em lập được hai phép chia là:

(A) $\square : \square = \square$


(B) $\square : \square = \square$

b) Từ hai phép chia lập được ở câu a, hãy viết các số bị chia, số chia và thương tương ứng vào bảng sau:

Phép chia	Số bị chia	Số chia	Thương
(A)			
(B)			

4 Số ?

Quan sát tranh rồi lập hai phép chia thích hợp.



$$15 : \square = \square$$

$$15 : \square = \square$$

Tiết 1

1 Số ?

a) $10 : 2 \rightarrow \square$

$14 : 2 \rightarrow \square$

$18 : 2 \rightarrow \square$

b) $\square : 2 = 5$

$\square : 2 = 6$

$\square : 2 = 7$

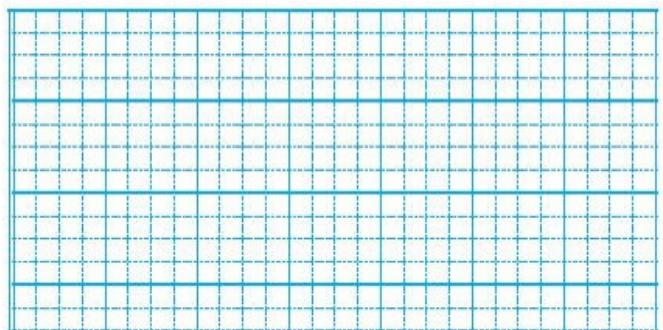
2 Hai đoàn tàu A và B có các toa ghi phép tính như sau:



- a) Tính nhằm các phép tính ở cả hai đoàn tàu.
- b) Ở đoàn tàu A, tô màu đỏ vào phép tính có kết quả bé nhất.
- c) Ở đoàn tàu B, tô màu xanh vào phép tính có kết quả lớn nhất.

3 Mỗi chuồng chim bồ câu có 2 cái cửa. Bạn Việt đếm được có tất cả 12 cái cửa. Hỏi có bao nhiêu chuồng chim bồ câu như vậy?

Bài giải



Tiết 2

1 Số ?

a)

Thừa số	2	2	2	2	2
Thừa số	4	8	6	5	9
Tích					

b)

Số bị chia	8	16	12	10	18
Số chia	2	2	2	2	2
Thương					

2 Số ?

a)

$$14 : 2 \rightarrow \triangle - 2 \rightarrow \square$$

b)

$$18 : 2 \rightarrow \bigcirc + 5 \rightarrow \triangle : 2 \rightarrow \square$$

3 Nói (theo mẫu).

8 : 2

20 : 2

4 × 2

16 : 2

2 × 3

2 × 2

2 × 4

5 × 1

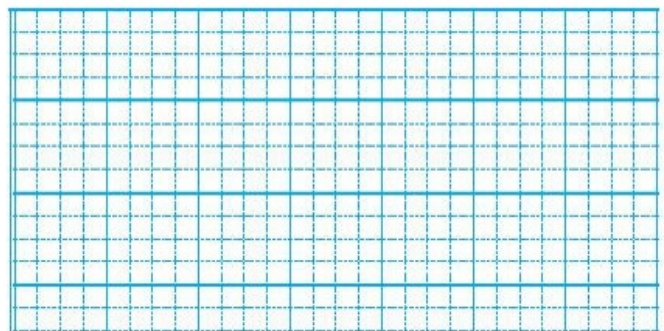
12 : 2

10 : 2

- 4 Chia 12 chiếc tất giống nhau thành các đôi tất. Hỏi có tất cả bao nhiêu đôi tất?



Bài giải



Tiết 2

1 ✎ Số ?

Số bị chia	15	35	10	10	45	50	20	40
Số chia	5	5	5	2	5	5	2	5
Thương	3							

2 ✎ Số ?

Số bị chia	Số chia	Thương
45	5	10
20	2	9
15	5	3

Từ các số bị chia, số chia, thương ở bảng trên, em lập được ba phép chia sau:

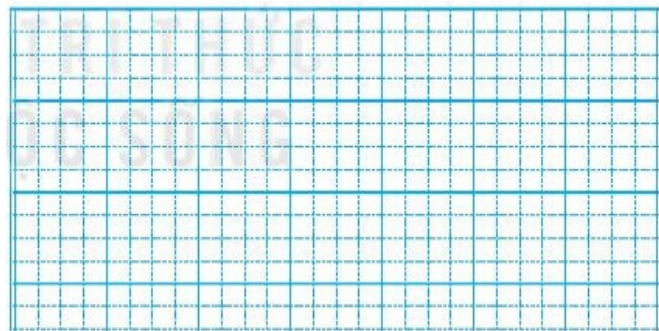
$$\square : \square = \square$$

$$\square : \square = \square$$

$$\square : \square = \square$$

3 ✎ Bác Hoà rót 30 l mật vào các can, mỗi can 5 l. Hỏi bác Hoà rót được bao nhiêu can mật như vậy?

Bài giải



4 ✎ Nói (theo mẫu).

$$2 : 2$$

$$6 : 2$$

$$20 : 5$$

$$2 \times 1$$

$$25 : 5$$

$$2 \times 3$$

$$10 : 2$$

1

2

3

4

5

6

$$5 : 5$$

$$15 : 5$$

$$2 \times 2$$

$$4 : 2$$


$$5 \times 1$$

$$30 : 5$$

$$12 : 2$$

Tiết 1

1 Nối mỗi hình với phép nhân thích hợp (theo mẫu).

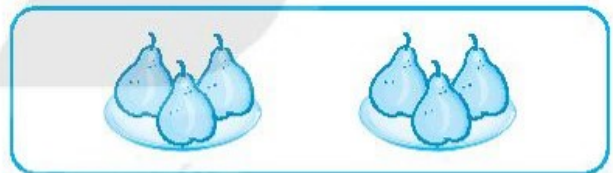


$5 \times 3 = 15$

$3 \times 2 = 6$

$2 \times 4 = 8$

$4 \times 5 = 20$



2 Tính nhẩm.

a) $2 \times 5 = \dots$

$2 \times 3 = \dots$

$5 \times 9 = \dots$

$5 \times 2 = \dots$

$2 \times 6 = \dots$

$2 \times 10 = \dots$

$5 \times 7 = \dots$

$5 \times 10 = \dots$

b) $8 : 2 = \dots$

$16 : 2 = \dots$

$10 : 5 = \dots$

$35 : 5 = \dots$

$10 : 2 = \dots$


$20 : 2 = \dots$

$25 : 5 = \dots$

$50 : 5 = \dots$

3 Mỗi hộp có 5 cái bánh. Hỏi 6 hộp như vậy có bao nhiêu cái bánh?

Bài giải



4 Số ?

a) $10 \xrightarrow{:5} \square \xrightarrow{\times 7} \triangle$

$10 : 5 \times 7 = 14$

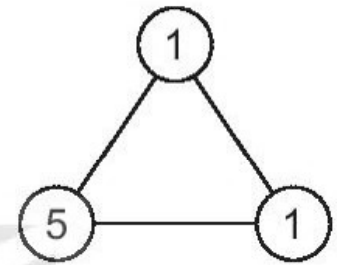
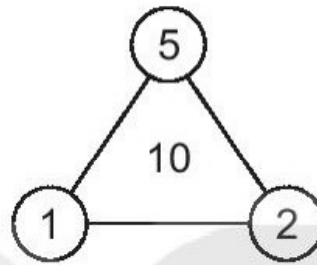
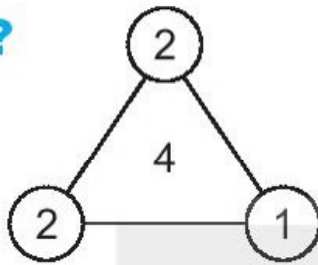
b) $5 \xrightarrow{\times 4} \square \xrightarrow{:2} \triangle$

$5 \times 4 : 2 = \square$

c) $2 \xrightarrow{\times 5} \square \xrightarrow{\times 1} \triangle$

$2 \times 5 \times 1 = \square$

5 Số ?



Tiết 2

1 Số ?

Xuất phát



$5 \times 3 = \square$

$8 : 2 = \square$

$2 \times 4 = \square$

$14 : 2 = \square$

$2 \times 8 = \square$

$25 : 5 = \square$

$5 \times 8 = \square$

$45 : 5 = \square$

$12 : 2 = \square$

$2 \times 9 = \square$

$50 : 5 = \square$

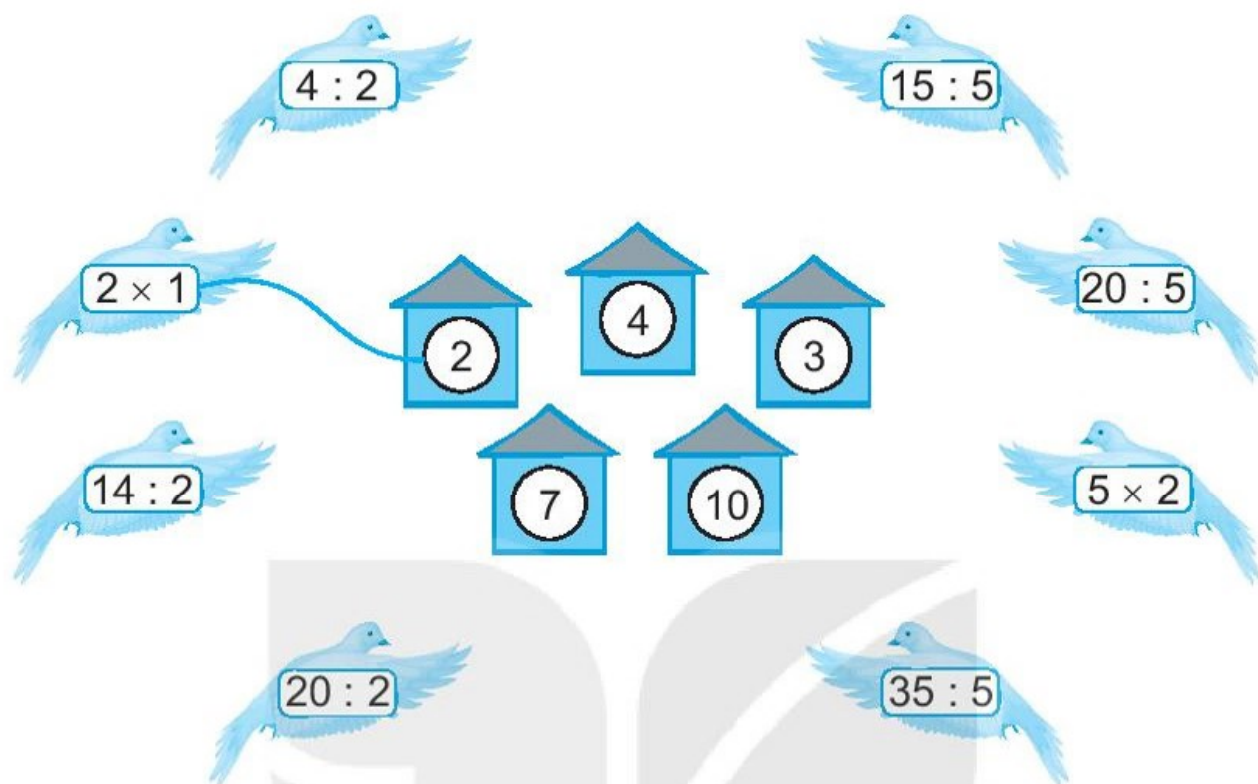
Đích



$5 \times 6 = \square$

$2 \times 7 = \square$

2 a) Nói để tìm chuồng cho mỗi con chim (theo mẫu).

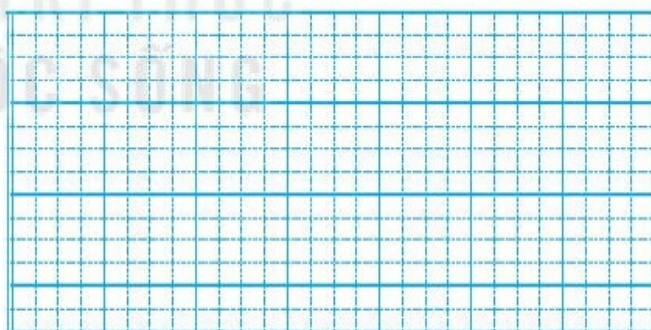


b) Viết tiếp vào chỗ chấm cho thích hợp.

Những chuồng ghi số là chuồng của 2 con chim.

3 Bạn Mai xếp 25 cái bánh vào các hộp, mỗi hộp 5 cái bánh. Hỏi Mai xếp được mấy hộp bánh như vậy?

Bài giải



4 Số ?

a) $(2) \times 10 \rightarrow \square \xrightarrow{:5} \triangle$

b) $(10) : 2 \rightarrow \square \xrightarrow{\times 9} \triangle$

5 >; <; = ?

a) $5 \times 2 \square 9$
 $2 \times 3 \square 7$

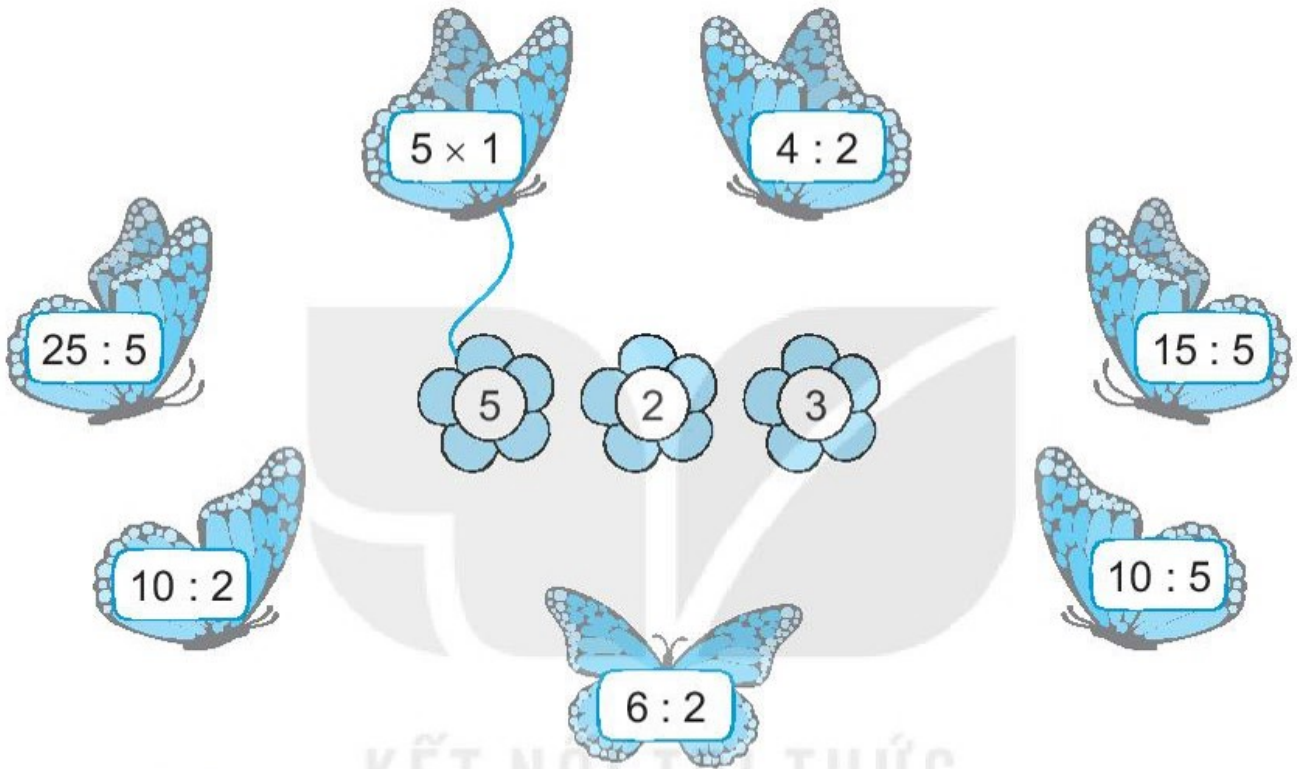
b) $7 \square 12 : 2$
 $4 \square 20 : 5$

c) $2 \times 2 \square 10 : 2$
 $40 : 5 \square 2 \times 6$

Tiết 3

1 Mỗi con bướm sẽ đậu vào bông hoa ghi số là kết quả phép tính trên con bướm đó.

a) Nối mỗi con bướm với bông hoa thích hợp (theo mẫu).



b) Số ?

Bông hoa ghi số có nhiều bướm đậu nhất.

2 Số ?

a) $5 \times \square = 5$; $\square \times 1 = 2$. b) $4 : \square = 2$; $10 : \square = 2$.

3 Số ?

a) $2 \xrightarrow{\times 5} \diamond \xrightarrow{: 2} \triangle \xrightarrow{\times 7} \square$

b) $40 \xrightarrow{: 5} \diamond \xrightarrow{: 2} \triangle \xrightarrow{: 2} \square$

4 >; <; = ?

a) 5×3 15
 $10 : 2$ 6

b) $12 : 2$ $35 : 5$
 2×4 $30 : 5$

5 Số ?

a) $2 \times 5 = 5 \times$

b) $5 \times 2 = 2 \times$

Tiết 4

1 Tính nhẩm.

a) $2 \times 4 = \dots$ b) $5 \times 8 = \dots$ c) $2 \times 7 = \dots$ d) $5 \times 9 = \dots$
 $8 : 2 = \dots$ $40 : 5 = \dots$ $14 : 2 = \dots$ $45 : 5 = \dots$
 $8 : 4 = \dots$ $40 : 8 = \dots$ $14 : 7 = \dots$ $45 : 9 = \dots$

2 Viết tích thành tổng rồi tính (theo mẫu).

Mẫu: $7 \times 4 = 7 + 7 + 7 + 7 = 28$. Vậy $7 \times 4 = 28$.

a) $9 \times 3 = \dots$
b) $4 \times 6 = \dots$
c) $6 \times 4 = \dots$

3 Số ?

a) $5 \xrightarrow{\times 7} \square \xrightarrow{+ 8} \triangle$

$5 \times 7 + 8 = 43$

b) $2 \xrightarrow{\times 8} \square \xrightarrow{- 9} \triangle$

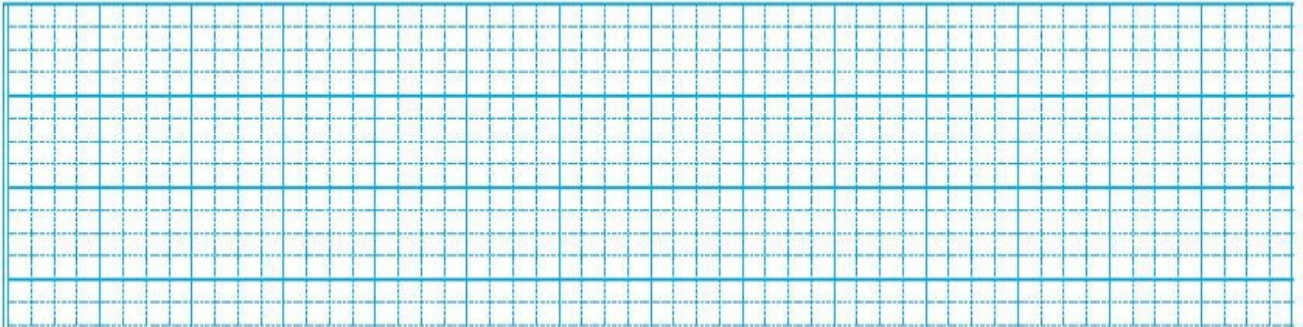
$2 \times 8 - 9 = \square$

c) $25 \xrightarrow{: 5} \square \xrightarrow{+ 6} \triangle$

$25 : 5 + 6 = \square$

- 2 ✓ Mẹ mua về 14 bông hoa, mẹ cắm đều vào 2 bình hoa. Hỏi mỗi bình có mấy bông hoa?

Bài giải



- 3 ✓ Số ?

a) $5 \xrightarrow{\times 4} \square \xrightarrow{: 2} \diamond$ $5 \times 4 : 2 = \square$

b) $10 \xrightarrow{: 5} \square \xrightarrow{\times 9} \diamond$ $10 : 5 \times 9 = \square$

- 4 ✓ Số ?

a) $5 \times \square = 10$ $2 \times \square = 10$ $2 \times \square = 12$

b) $12 : \square = 6$ $10 : \square = 2$ $25 : \square = 5$

- 5 ✓ Nối ô trống với số thích hợp (theo mẫu).

$$10 < 5 \times \square < 46$$

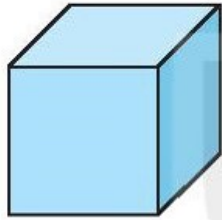


BÀI 46


KHỐI TRỤ, KHỐI CẦU

Tiết 1


1 ✎ Khoanh màu đỏ vào chữ đặt dưới khối trụ, màu xanh vào chữ đặt dưới khối cầu.



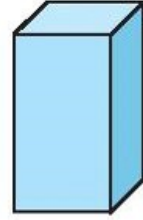
A



B



C



D

2 ✎ Nối (theo mẫu).



Khối cầu




Khối trụ




3 Người ta làm những chú hề bằng gỗ, ở đó có những khối gỗ dạng khối cầu. Em hãy quan sát hình vẽ rồi viết số thích hợp vào ô trống.

a) 1 chú hề như vậy có khối gỗ dạng khối cầu.

b) 5 chú hề như vậy có khối gỗ dạng khối cầu.

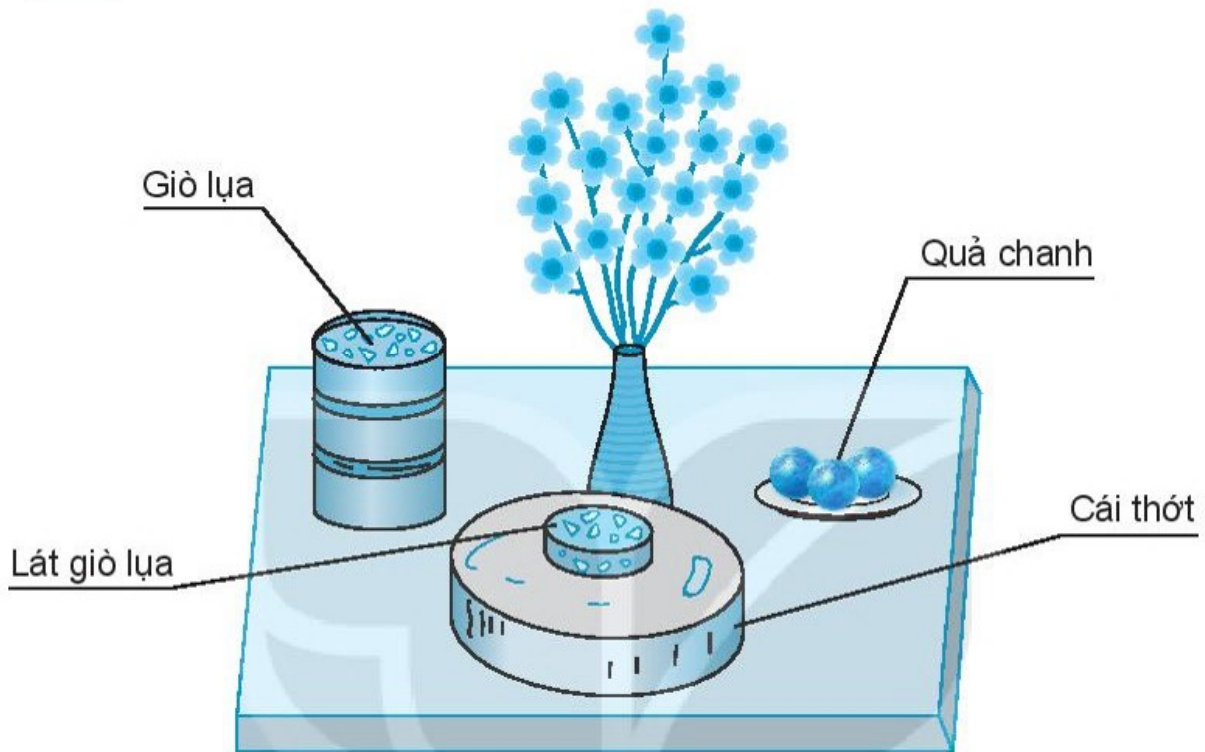


4 Trong bức tranh, tất cả các rô-bốt đều có thân dạng khối cầu hoặc khối trụ. Em hãy tô màu xanh cho rô-bốt có thân dạng khối cầu và màu đỏ cho rô-bốt có thân dạng khối trụ.



Tiết 2

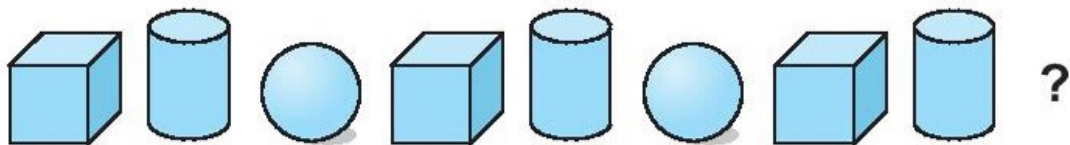
1 Số ?



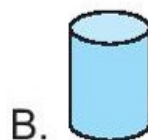
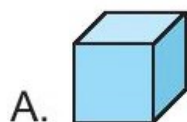
Trong hình trên:

- a) Có vật có dạng khối trụ.
b) Có vật có dạng khối cầu.

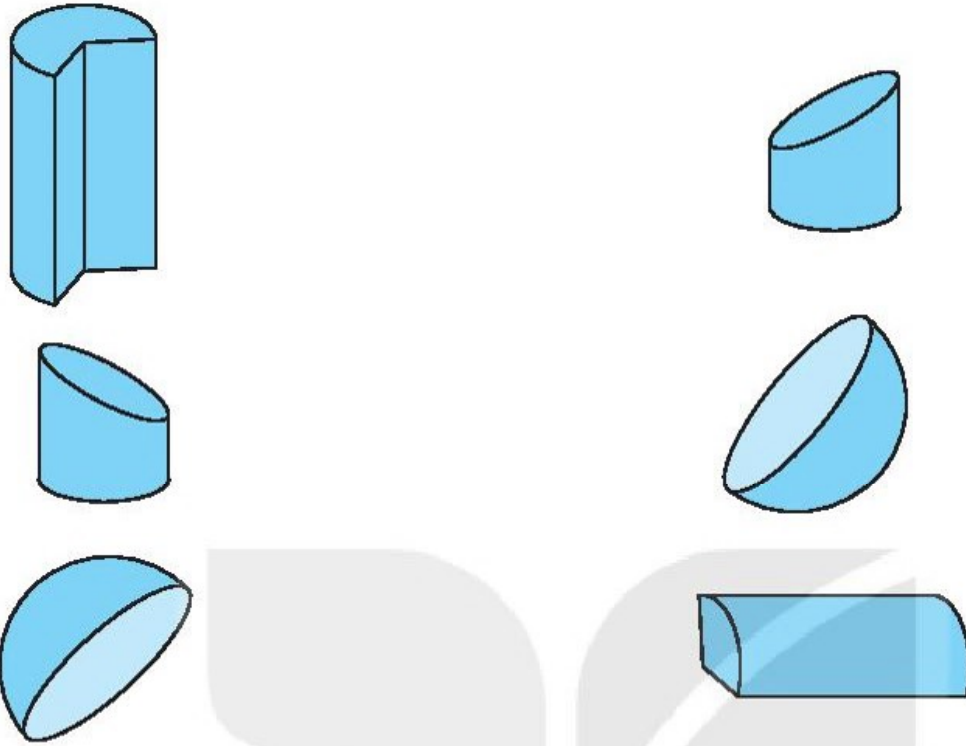
2 Khoanh vào chữ đặt trước câu trả lời đúng.



Hình thích hợp đặt vào dấu "?" là:



3 ✎ Nối hai hình để ghép thành một khối cầu hoặc một khối trụ.



4 ✎ Số ?

Xếp các hộp có dạng khối trụ thành các hình theo cách sau:



Tính từ trái sang phải:


a) • Hình thứ ba có khối trụ;

• Hình thứ tư có khối trụ.

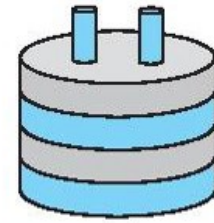
b) Để xếp được hình thứ năm theo cách trên thì cần hộp.

Tiết 1

- 1** Tô màu đỏ vào vật có dạng khối trụ, màu xanh lá cây vào vật có dạng khối cầu, màu vàng vào vật có dạng khối hộp chữ nhật.



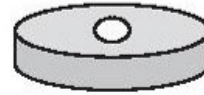
2 Khoanh vào chữ đặt dưới hình thích hợp để xếp vào vị trí trên cùng của hình bên.



A



B




C

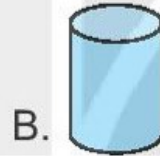


D

3 Khoanh vào chữ đặt trước câu trả lời đúng.



Hình thích hợp đặt vào dấu “?” là:



4 Khoanh vào chữ đặt trước câu trả lời đúng.

Trong hình người tuyết bên, khối tuyết dưới cùng có dạng hình khối gì?

A. Khối trụ

B. Khối lập phương

C. Khối cầu



Tiết 2

1 Nối mỗi đồ vật với dạng hình khối của nó.



Khối trụ


Khối cầu

Khối lập phương

Khối hộp chữ nhật

2 Số ?

Có một loài chim chỉ thích trang trí tổ bằng những đồ vật sắc sỡ.



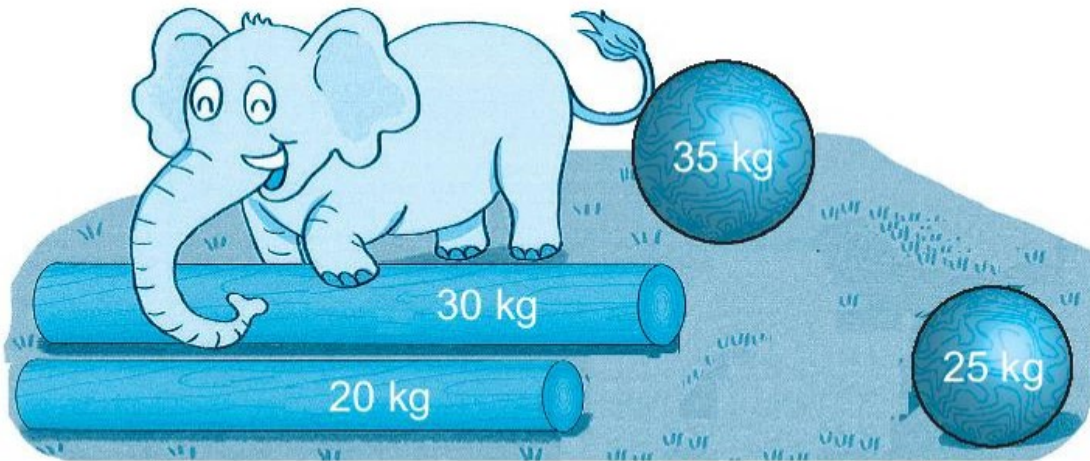
Ở phía trước tổ chim có:

đồ vật dạng khối trụ;

đồ vật dạng khối cầu;

đồ vật dạng khối lập phương.

3/ Bạn voi kéo những khối gỗ như sau:

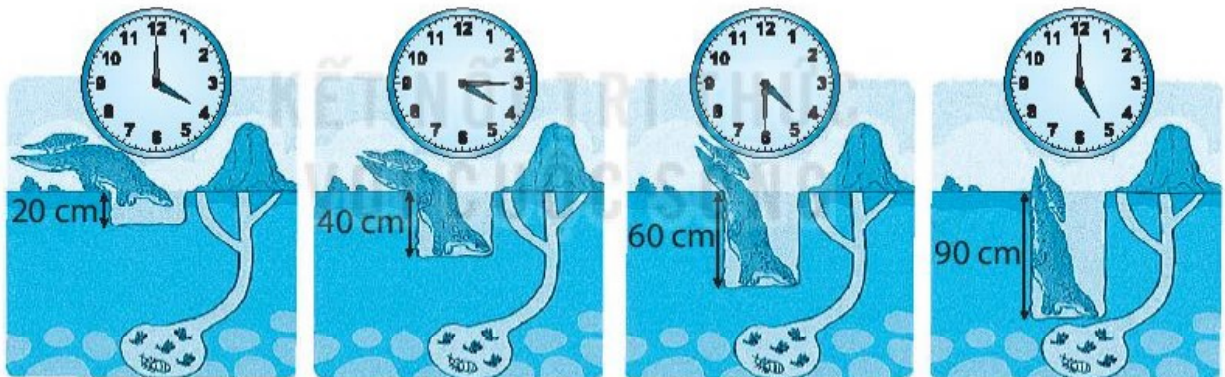


Số ?

a) Hai khúc gỗ dạng khối cầu cân nặng tất cả kg.

b) Bạn voi muốn kéo 1 khối gỗ dạng khối cầu và 1 khối gỗ dạng khối trụ có tổng cân nặng bé nhất. Bạn ấy đã kéo kg gỗ.

4/ Trong bức tranh, tê tê mẹ đang đào một cái hang dạng khối trụ để bắt mồi.



a) Hoàn thành bảng sau (theo mẫu).

Vào lúc	4 giờ	4 giờ 15 phút		5 giờ
Hang sâu	20 cm		60 cm	

b) Số ?

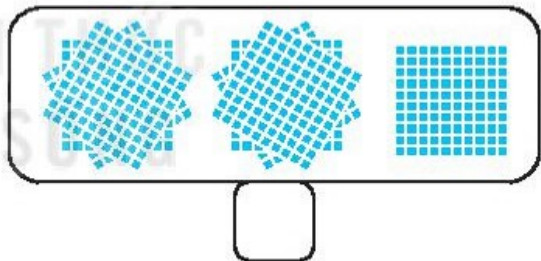
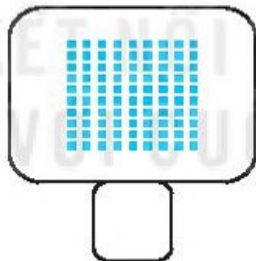
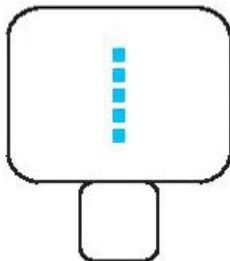
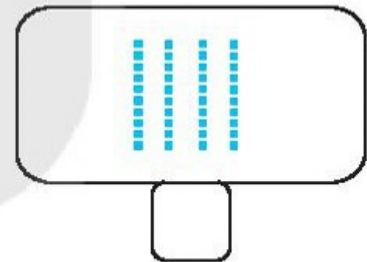
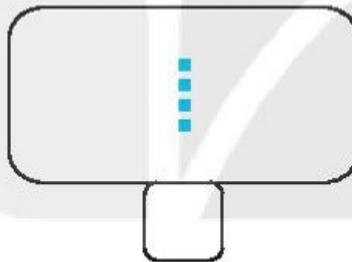
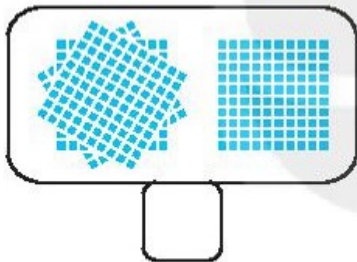
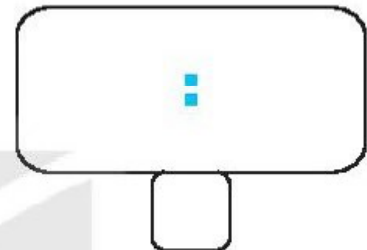
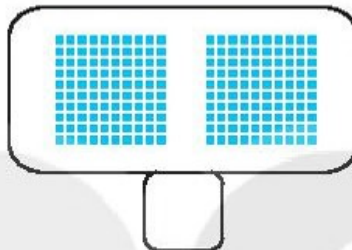
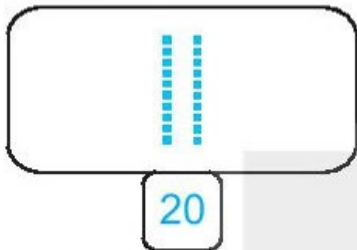
Từ lúc 4 giờ đến 5 giờ, cái hang sâu thêm cm.

BÀI 48

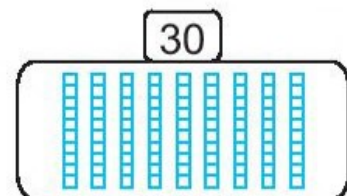
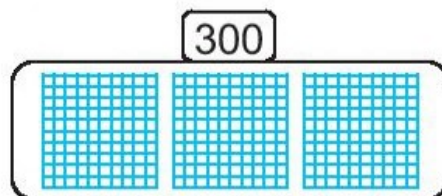
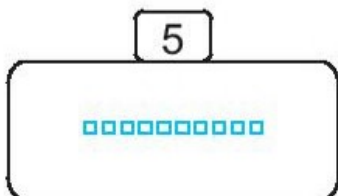
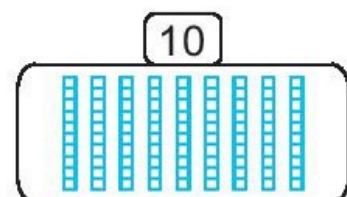
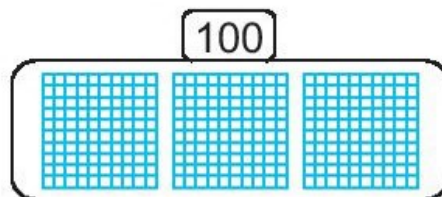
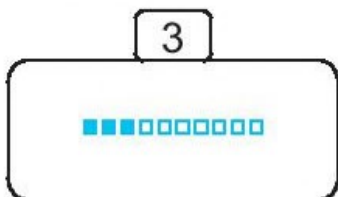
ĐƠN VỊ, CHỤC, TRĂM, NGHÌN

Tiết 1

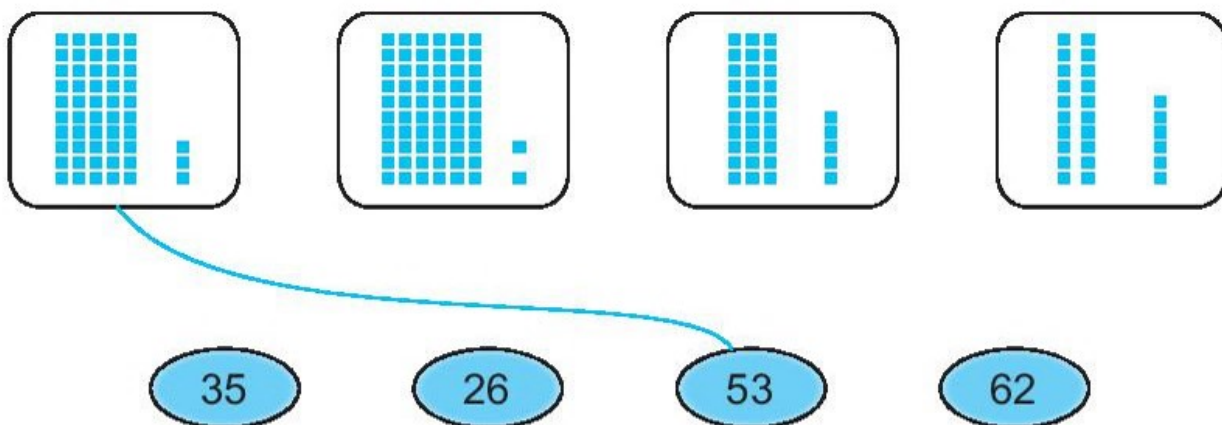
1 Số ?



2 Tô màu các ô vuông (theo mẫu).



3 ✎ Nói (theo mẫu).






Tiết 2

1 ✎ Mỗi khay bánh có 10 chiếc bánh. Vẽ thêm khay và bánh cho đủ:
a) 30 chiếc bánh.



b) 50 chiếc bánh.



2 ✎ Mỗi túi đựng 100 đồng xu. Khoanh vào số túi để được:

a) 500 đồng xu.



b) 1 000 đồng xu.



3 ✎ Số ?

a) Số 20 gồm chục và đơn vị.

b) Số 54 gồm chục và đơn vị.

c) Số 45 gồm chục và đơn vị.

d) Số 100 gồm trăm, chục và đơn vị.

4 ✎ Viết số thích hợp vào chỗ chấm.

Trong siêu thị có bán các thùng táo, mỗi thùng đựng 100 quả táo và các túi táo, mỗi túi đựng 10 quả táo.

a) Buổi sáng, một trường học đã mua 4 thùng táo ở siêu thị. Vậy trường học đã mua quả táo ở siêu thị vào buổi sáng.

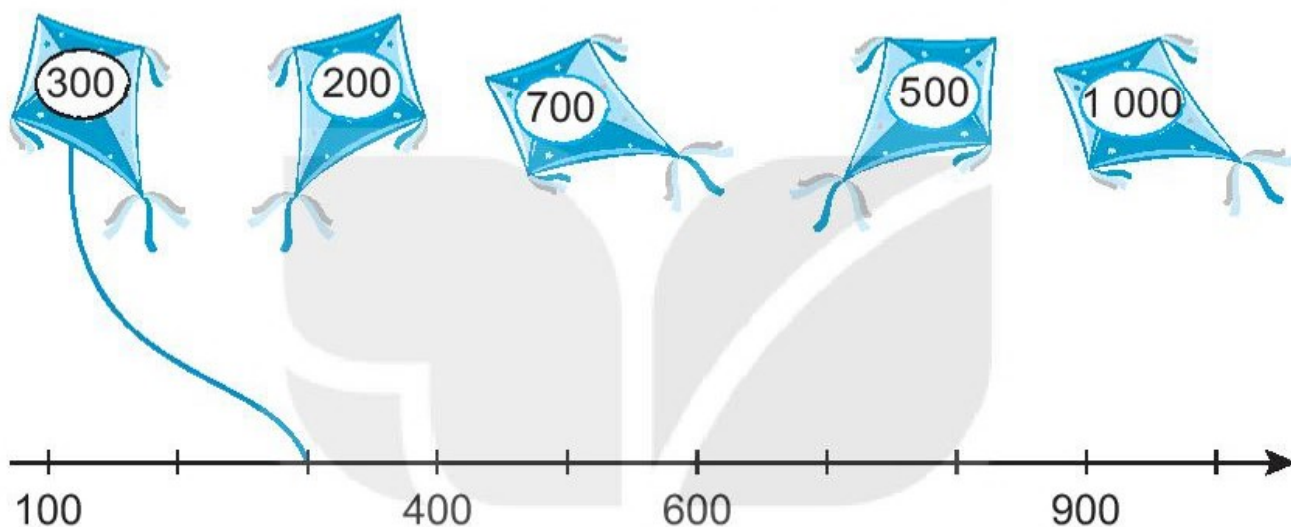
b) Buổi chiều, bố của Nam đã mua 5 túi táo ở siêu thị để làm quà biếu ông bà. Vậy bố của Nam đã mua quả táo ở siêu thị vào buổi chiều.

BÀI 49

CÁC SỐ TRÒN TRĂM, TRÒN CHỤC

Tiết 1

1 Nối mỗi chiếc diều với vạch thích hợp trên tia số (theo mẫu).



2 Hãy viết một số tròn trăm còn thiếu từ 100 đến 1 000 lên mỗi chiếc cốc còn để trống trong hình dưới đây:



3 Viết số thích hợp vào chỗ chấm (theo mẫu).

Một đàn kiến vận chuyển các túi gạo từ tổ cũ sang tổ mới, mỗi túi có 100 hạt gạo.

Mẫu: Thứ Sáu:



Ngày thứ Sáu đàn kiến chuyên được 400 hạt gạo.

a) Thứ Bảy:



Ngày thứ Bảy đàn kiến chuyên được hạt gạo.

b) Chủ nhật:



Ngày Chủ nhật đàn kiến chuyên được hạt gạo.

4 ✎ Viết số thích hợp vào chỗ chấm.

Hôm qua và hôm nay, gia đình sóc nhật được tất cả 5 bao hạt dẻ. Biết mỗi bao có 100 hạt dẻ.

a) Hôm qua gia đình sóc nhật được 2 bao hạt dẻ. Vậy hôm qua gia đình sóc nhật được hạt dẻ.

b) Hôm nay, gia đình sóc nhật được bao hạt dẻ. Vậy hôm nay gia đình sóc nhật được hạt dẻ.



Tiết 2

1 ✎ Số ?

a)

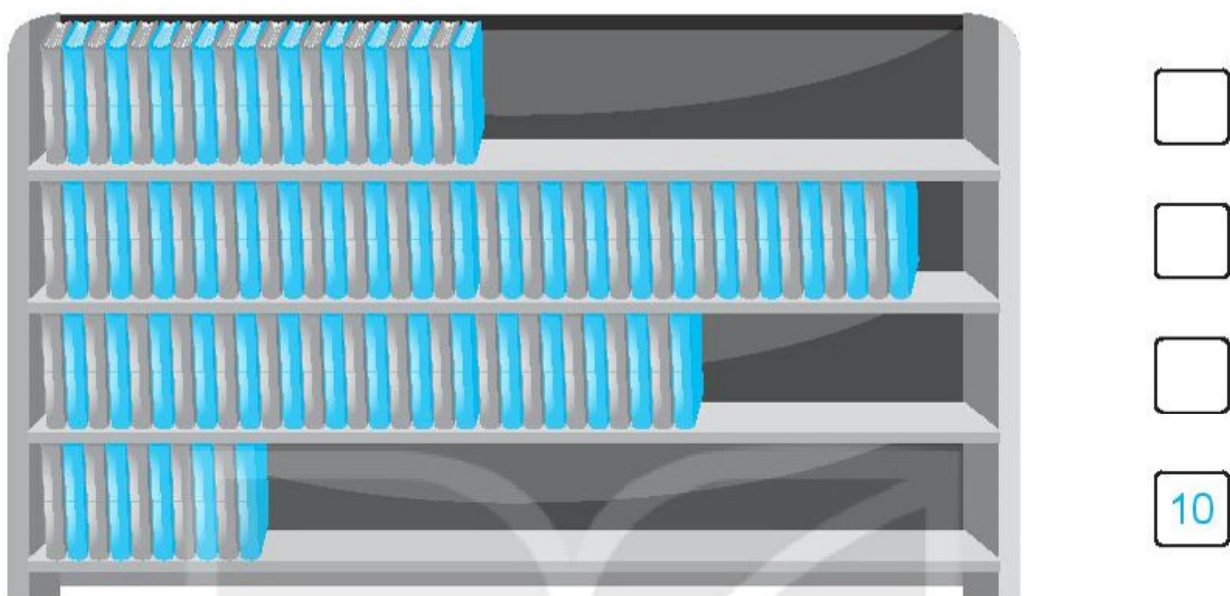


b)



2 Số ?

Hãy ước lượng số sách ở mỗi ngăn theo số tròn chục (theo mẫu).



3 Có 10 chiếc bánh kem ghi các số như sau:



Mai lấy những cái bánh ghi số tròn trăm. Việt lấy những cái bánh ghi số tròn chục. Việt nhường Mai lấy bánh trước.

- a) Viết tiếp vào chỗ chấm cho thích hợp.
- Mai sẽ lấy những cái bánh ghi số:
 - Mai lấy được cái bánh.
 - Việt sẽ lấy những cái bánh ghi số:
 - Việt lấy tất cả cái bánh.
- b) Viết *nhều hơn*, *ít hơn* hoặc *bằng* vào chỗ chấm cho thích hợp.
Số bánh của Mai số bánh của Việt.

Tiết 1**1** $>$; $<$; $=$?

400 450

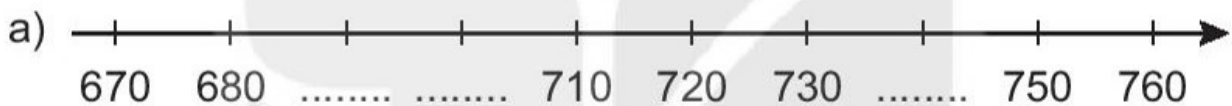
700 300

790 800

370 340

990 1 000

90 40 + 50

2 Viết số thích hợp vào chỗ chấm.

b) Trong các số em vừa viết ở câu a, số lớn nhất là; số bé nhất là

3 Khoanh vào chữ đặt trước câu đúng.

Có hai đội thu hoạch cà chua. Đội Một gồm các bạn Mai, Việt, Nam và Mi, thu hoạch được tất cả 230 quả cà chua. Đội Hai chỉ có Rô-bốt, thu hoạch được 320 quả cà chua.

A. Số quả cà chua đội Một thu hoạch được nhiều hơn đội Hai.

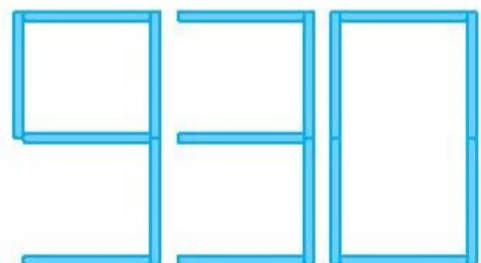
B. Số quả cà chua đội Một thu hoạch được ít hơn đội Hai.

C. Số quả cà chua hai đội thu hoạch được bằng nhau.

4 Viết số thích hợp vào chỗ chấm.

Xếp que tính được số 930 như hình vẽ:

Chuyển chỗ một que tính để được số tròn chục lớn hơn số đã cho. Số tạo được là



Tiết 2

1 ✎ Đ, S ?

a) $400 > 800$

b) $870 = 780$

c) $200 < 210$

d) $560 < 560$

e) $510 > 490$

g) $990 > 1\ 000$

2 ✎ Viết các số 340, 430, 230, 320 theo thứ tự:

a) Từ bé đến lớn:

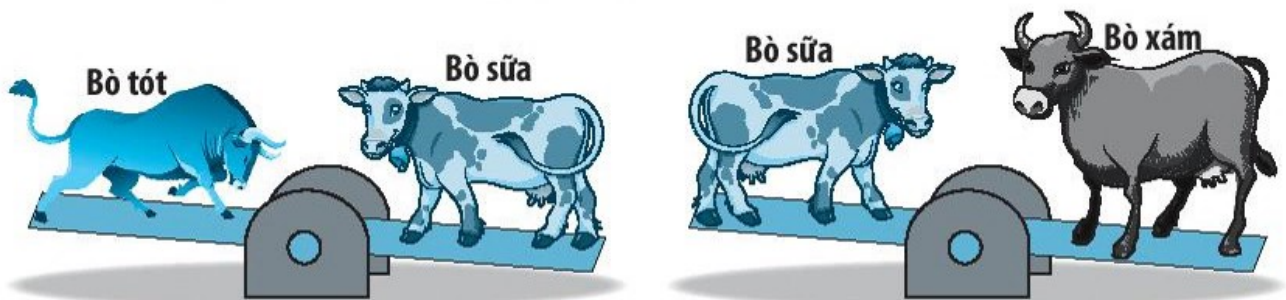
b) Từ lớn đến bé:

3 ✎ Viết số thích hợp vào chỗ chấm.



Đề các toa tàu ghi các số theo thứ tự từ lớn đến bé, em cần đổi chỗ toa tàu ghi số với toa tàu ghi số

4 ✎ Ba con bò có cân nặng là: 800 kg, 550 kg và 680 kg. Quan sát hình rồi viết số thích hợp vào chỗ chấm.



• Bò xám cân nặng kg;

• Bò sữa cân nặng kg;

• Bò tót cân nặng kg.

Tiết 1



1 ✎ Nối cách đọc với cách viết số tương ứng.

Ba trăm sáu mươi một

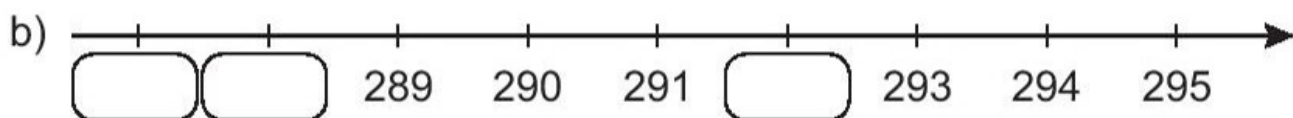
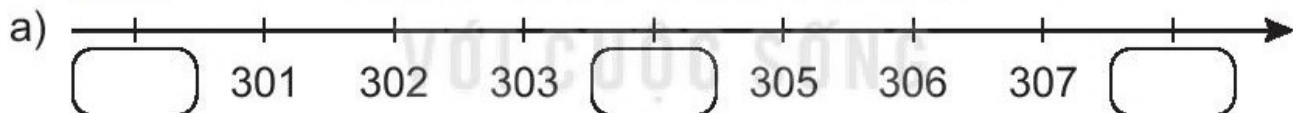
Sáu trăm mười ba

Một trăm ba mươi sáu

Ba trăm mười sáu



2 ✎ Số ?

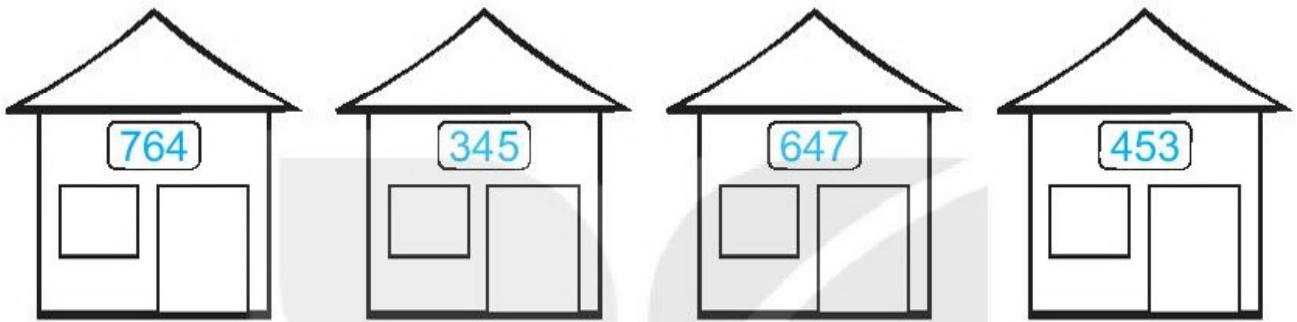


3 ✎ Hoàn thành bảng sau (theo mẫu).

Số gồm	Viết số	Đọc số
3 trăm, 4 chục và 5 đơn vị	345	ba trăm bốn mươi lăm
4 trăm, 5 chục và 3 đơn vị		
7 trăm, 6 chục và 4 đơn vị		
6 trăm, 4 chục và 7 đơn vị		

4 ✎ Tô màu vào mỗi ngôi nhà theo chỉ dẫn.

Ngôi nhà ghi số gồm	Tô màu
3 trăm, 4 chục và 5 đơn vị	Đỏ
4 trăm, 5 chục và 3 đơn vị	Xanh
7 trăm, 6 chục và 4 đơn vị	Vàng
6 trăm, 4 chục và 7 đơn vị	Da cam



Tiết 2

1 ✎ Nói (theo mẫu).

Số 738 gồm

7 trăm, 8 chục và 3 đơn vị.

Số 378 gồm

3 trăm, 8 chục và 7 đơn vị.

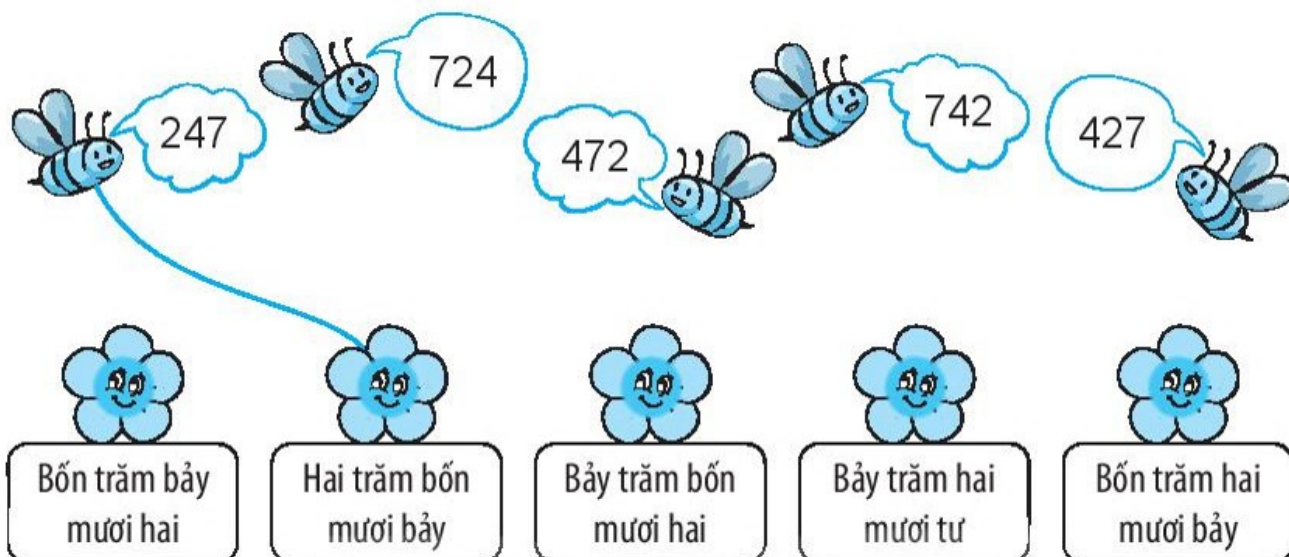
Số 783 gồm

7 trăm, 3 chục và 8 đơn vị.

Số 387 gồm


3 trăm, 7 chục và 8 đơn vị.

2 ✎ Tìm bông hoa cho ong đậu bằng cách nối (theo mẫu).



3 ✎ Tô màu vào những thanh gỗ ở hàng rào theo chỉ dẫn.

Thanh gỗ ghi số gồm	Tô màu
4 trăm, 9 chục và 2 đơn vị	Xanh
2 trăm, 4 chục và 9 đơn vị	Đỏ
9 trăm, 2 chục và 4 đơn vị	Vàng




4 ✎ Viết số thích hợp vào chỗ chấm.

- a) Số liền trước của 599 là b) Số liền sau của 599 là
 c) Số 599 là số liền trước của d) Số 599 là số liền sau của

Tiết 3

1 ✎ Viết số thích hợp vào chỗ chấm (theo mẫu).

Nếu đi theo mỗi chỉ dẫn bên dưới, nhím sẽ đến được khu rừng có bao nhiêu cây nấm?



Mẫu: 672 a) b)

2 ✎ Viết số thích hợp vào chỗ chấm (theo mẫu).

- Số 392 gồm trăm, chục và đơn vị.
- Số 450 gồm trăm, chục và đơn vị.
- Số 500 gồm trăm, chục và đơn vị.
- Số gồm 6 trăm, 0 chục và 7 đơn vị.
- Số gồm 6 trăm, 7 chục và 0 đơn vị.

3 ✎ Viết tiếp vào chỗ chấm cho thích hợp.

- Từ ba thẻ số **6**, **2** và **8**, ta có thể lập được các số có ba chữ số là
- Từ ba thẻ số **4**, **0** và **8**, ta có thể lập được các số có ba chữ số là

BÀI 52

VIẾT SỐ THÀNH TỔNG CÁC TRĂM, CHỤC, ĐƠN VỊ

Tiết 1

1 Nói (theo mẫu).

512	$100 + 20 + 8$	360
128	$200 + 50 + 6$	306
256	$500 + 10 + 2$	408
	$300 + 6$	
	$400 + 8$	
	$300 + 60$	

2 Viết số thành tổng các trăm, chục, đơn vị (theo mẫu).

Mẫu: $239 = 200 + 30 + 9$

a) $392 = \dots\dots\dots$

b) $309 = \dots\dots\dots$

c) $230 = \dots\dots\dots$

3 Viết số thích hợp vào chỗ chấm.

Thỏ và rùa cùng thu hoạch cà rốt. Hai bạn dùng những chiếc bao và giỏ để đựng cà rốt. Mỗi bao đựng 100 củ cà rốt. Mỗi giỏ đựng 10 củ cà rốt. Những củ cà rốt còn lại thỏ và rùa sẽ ăn luôn tại chỗ.

a) Hôm qua, để dựn số cà rốt thu hoạch được, thỏ và rùa đã dùng 1 bao và 4 giỏ, sau đó hai bạn đã ăn 2 củ cà rốt tại chỗ. Như vậy, hôm qua thỏ và rùa đã thu hoạch được củ cà rốt.

b) Hôm nay, hai bạn thu hoạch được 252 củ cà rốt. Vậy để dựn cà rốt, thỏ và rùa cần bao và giỏ. Hai bạn sẽ ăn củ cà rốt tại chỗ.

Tiết 2

1 Số ?

Trăm	Chục	Đơn vị	Viết số	Đọc số
8	2	0		tám trăm hai mươi
			651	sáu trăm năm mươi một
7	4	4		bảy trăm bốn mươi tư
				chín trăm linh một

2 Nói (theo mẫu).

The image shows a matching exercise. At the top, there are four cakes with numbers written on them: 375, 307, 370, and 357. A blue line connects the cake with 375 to the box containing the equation $300 + 70 + 5$. Below the cakes are four boxes containing addition equations: $300 + 50 + 7$, $300 + 70$, $300 + 70 + 5$, and $300 + 7$.

3 Số ?

a) $682 = 600 + \square + 2$

b) $208 = 200 + \square$

c) $820 = \square + 20$

d) $381 = \square + 80 + 1$

e) $610 = 600 + \square$

g) $108 = 100 + \square$

4 Viết số thích hợp vào chỗ chấm.

Sóc dùng những chiếc bao và giỏ để đựng hạt dẻ mà mình nhặt được mỗi ngày như sau:

- Mỗi bao đựng 100 hạt dẻ;
- Mỗi giỏ đựng 10 hạt dẻ.

Tuần này, sóc nhặt được tất cả 3 bao, 8 giỏ và còn thừa 2 hạt dẻ bên ngoài.

Như vậy, tuần này sóc nhặt được tất cả hạt dẻ.



Tiết 1

1 Đ, S ?

a) $256 < 265$

b) $625 = 652$

c) $367 > 387$

d) $899 > 901$

e) $898 = 989$

g) $999 < 1\ 000$

2 >; <; = ?

a) $335 \dots 353$

b) $148 \dots 142$

c) $354 \dots 754$

$510 \dots 501$

$794 \dots 479$

$1\ 000 \dots 988$

3 Viết tiếp vào chỗ chấm cho thích hợp.

Dưới đây là số giờ ngủ đông trong một tháng của một gia đình gấu:

- Gấu bố: 620 giờ
- Gấu mẹ: 715 giờ
- Gấu anh: 672 giờ
- Gấu em: 726 giờ

a) Trong gia đình đó, gấu ngủ đông nhiều nhất, gấu ngủ đông ít nhất.

b) Nêu tên các thành viên của gia đình đó theo thứ tự giờ ngủ đông trong tháng từ nhiều nhất đến ít nhất.

.....

4 Viết tiếp vào chỗ chấm cho thích hợp.

Từ ba thẻ số **5**, **1** và **8**, ta có thể tạo được các số có ba chữ số là:

Trong các số vừa tạo được đó, số bé nhất là và số lớn nhất là

Tiết 2

1 >; <; = ?

a) 620 650

b) 483 433

c) 582 852

d) 714 801

e) 1 000 975

g) 670 600 + 70

2 a) Nối 4 điểm trong hình dưới đây theo thứ tự các số từ lớn đến bé.

573 •

• 375

735 •

• 537

b) Viết tiếp vào chỗ chấm cho thích hợp.

Sau khi nối, em nhận được chữ cái

3 Khoanh vào chữ cái đặt trước câu trả lời đúng.

Ở vườn quốc gia có bốn chú khỉ là: khỉ mốc, khỉ đuôi vàng, khỉ mặt đỏ và khỉ đột. Trong ba tháng đầu năm, bốn chú đó đã ăn số quả chuối như sau:

• Khỉ mốc: 360 quả;

• Khỉ đuôi vàng: 365 quả;

• Khỉ mặt đỏ: 356 quả;

• Khỉ đột: 350 quả.

Trong ba tháng đầu năm:

a) Chú khỉ nào ăn nhiều quả chuối nhất?

A. Khỉ mốc

B. Khỉ đuôi vàng

C. Khỉ mặt đỏ

D. Khỉ đột

b) Chú khỉ nào ăn ít quả chuối nhất?

A. Khỉ mốc

B. Khỉ đuôi vàng

C. Khỉ mặt đỏ

D. Khỉ đột

4 Ở một hiệu sách có bán ba loại sách như sau:

- Sách Toán học có 428 trang;
- Sách Ảo thuật có 1 000 trang;
- Sách Khoa học có 482 trang.

Ba bạn Nam, Việt và Rô-bốt vào hiệu sách mua ba cuốn sách khác nhau. Biết Nam mua cuốn sách có nhiều trang nhất và Việt mua cuốn sách có nhiều trang hơn cuốn sách của Rô-bốt.

Nói tên mỗi bạn với cuốn sách đã mua.

Nam

Sách Toán học

Việt

Sách Ảo thuật

Rô-bốt

Sách Khoa học



Tiết 1

1 Nói cách đọc với cách viết số tương ứng.

Hai trăm năm mươi tư

245

Hai trăm bốn mươi lăm

214

Hai trăm mười bốn

254

2 Viết số thích hợp vào chỗ chấm.

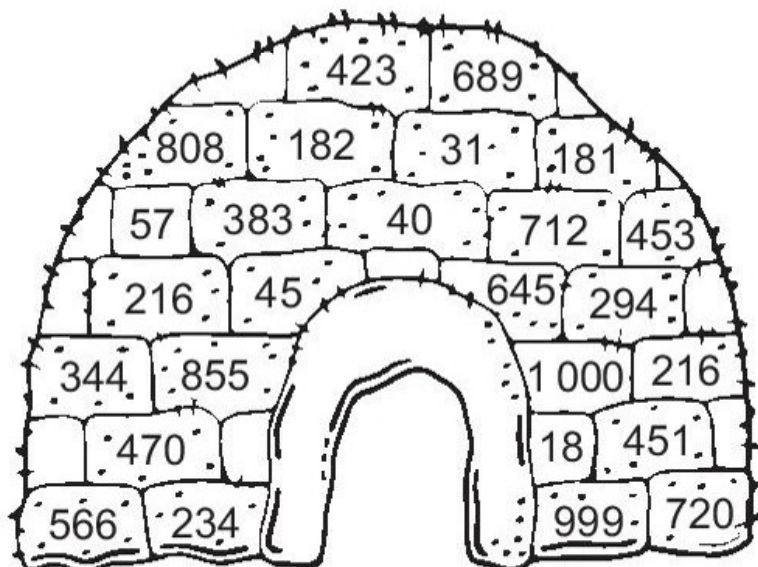
a) Số là số liền trước của số 1 000.

b) Số là số liền sau của số 500.

c) Số là số liền trước của số 500.

3 Các tảng băng được ghi số và xếp thành hình một bức tường như hình vẽ.

a) Em hãy tô màu xanh cho các tảng băng ghi số bé hơn 435, màu đỏ cho các tảng băng ghi số lớn hơn 435.



b) **Số ?**

- Có tầng bằng màu đỏ.
- Có tầng bằng màu xanh.

4 **>; <; = ?**

$267 \square 276$

$354 \square 350$

$920 \square 900 + 20$

$601 \square 599$

$465 \square 564$

$806 \square 800 + 60$

5 **Viết tiếp vào chỗ chấm cho thích hợp.**

Cho 6 tấm thẻ ghi số như sau:

160

610

216

100

600

450

a) Viết lấy tất cả các thẻ có số tròn trăm. Vậy Việt lấy được tấm thẻ, đó là những tấm thẻ ghi các số

b) Sau đó, Nam lấy tất cả các tấm thẻ ghi số tròn chục. Vậy Nam lấy được tấm thẻ, đó là những tấm thẻ ghi các số

c) Sau khi Việt và Nam lấy thẻ thì còn lại tấm thẻ, đó là tấm thẻ ghi số

Tiết 2

1 **Viết mỗi số thành tổng các trăm, chục và đơn vị.**

$638 = \dots\dots\dots$

$360 = \dots\dots\dots$

$580 = \dots\dots\dots$

$406 = \dots\dots\dots$

2 **Đ, S ?**

a) $492 > 429$

b) $615 = 651$

c) $375 > 426$

d) $298 < 298$

e) $350 = 530$

g) $650 = 600 + 50$

3 ✎ Viết tiếp vào chỗ chấm cho thích hợp.

Nam có thể xếp những thẻ ghi chữ số nào vào vị trí dấu “?” để nhận được phép so sánh đúng?



Trả lời: Nam có thể xếp các thẻ ghi chữ số:

4 ✎ Viết số thích hợp vào chỗ chấm.

a) Số tròn chục bé nhất có ba chữ số khác nhau là

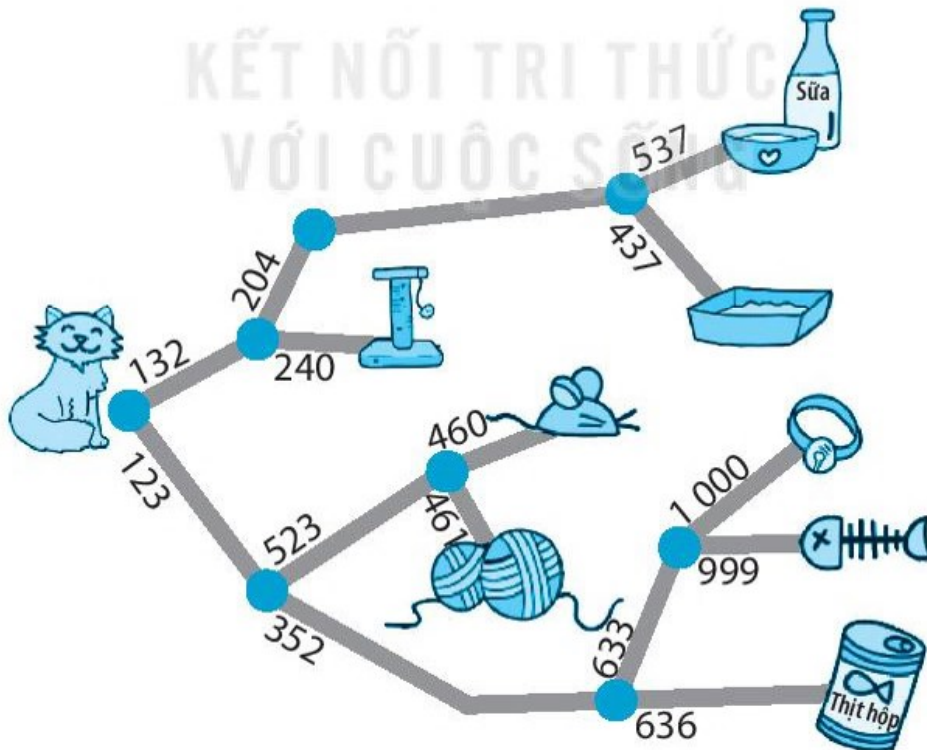
b) Số tròn chục lớn nhất có ba chữ số khác nhau là

c) Số tròn chục bé nhất có ba chữ số là

d) Số tròn chục lớn nhất có ba chữ số là

5 ✎ Khoanh vào đồ vật thích hợp.

Mèo sẽ lấy được đồ vật nào nếu đi theo số bé hơn tại mỗi ngã rẽ?



Tiết 1

1 ✍️ Viết số thích hợp vào chỗ chấm.

a) $2 \text{ dm} = \dots\dots\dots \text{ cm}$ $3 \text{ m} = \dots\dots\dots \text{ dm}$ $7 \text{ m} = \dots\dots\dots \text{ cm}$

$4 \text{ dm} = \dots\dots\dots \text{ cm}$ $6 \text{ m} = \dots\dots\dots \text{ dm}$ $9 \text{ m} = \dots\dots\dots \text{ cm}$

b) $20 \text{ dm} = \dots\dots\dots \text{ m}$ $30 \text{ cm} = \dots\dots\dots \text{ dm}$

$50 \text{ dm} = \dots\dots\dots \text{ m}$ $80 \text{ cm} = \dots\dots\dots \text{ dm}$

$100 \text{ dm} = \dots\dots\dots \text{ m}$ $40 \text{ cm} = \dots\dots\dots \text{ dm}$

2 ✍️ Nối đồ vật với số đo độ dài thích hợp trong thực tế.



3 ✍️ Viết số thích hợp vào chỗ chấm.

Biết 1 sải tay của Việt dài khoảng 1 m. Viết đo chiều dài bảng lớp được 3 sải tay. Vậy:

a) Bảng lớp Việt dài khoảng $\dots\dots\dots \text{ m}$.

b) Bảng lớp Việt dài khoảng $\dots\dots\dots \text{ dm}$.

c) Bảng lớp Việt dài khoảng $\dots\dots\dots \text{ cm}$.

4 ✎ Em hãy đánh dấu × vào ô trống trước câu miêu tả đồ vật dài nhất.
Biết 1 gang tay của Mai dài khoảng 1 dm.

Hộp bánh dài khoảng 4 gang tay của Mai.

Thước kẻ dài 30 cm.

Bàn gấp học sinh dài khoảng 5 dm.

Tiết 2

1 ✎ Viết số thích hợp vào chỗ chấm.

$5\text{ m} + 9\text{ m} = \dots\dots\text{ m}$

$15\text{ m} + 35\text{ m} = \dots\dots\text{ m}$

$43\text{ dm} + 15\text{ dm} = \dots\dots\text{ dm}$

$40\text{ dm} - 12\text{ dm} = \dots\dots\text{ dm}$

2 ✎ Số ?



Viết và Mai chạy tiếp sức. Viết chạy đoạn đường dài 60 m từ vạch xuất phát đến vị trí của Mai. Mai chạy đoạn đường còn lại về đích dài 40 m. Hỏi đoạn đường chạy tiếp sức dài bao nhiêu mét?

Bài giải

Đoạn đường chạy tiếp sức dài số mét là:

$\square + \square = \square \text{ (m)}$

Đáp số: \square m.

3 ✎ Chiều cao của một số công trình kiến trúc như sau:

Công trình kiến trúc	Chiều cao
Cột cờ Hà Nội	33 m
Tháp Rùa	9 m
Tháp chùa Thiên Mụ	21 m
Dinh Độc Lập	26 m

a) Khoanh vào chữ đặt trước câu trả lời đúng.

Trong các công trình kiến trúc đã cho:

• Công trình cao nhất là:

A. Cột cờ Hà Nội

B. Tháp Rùa

C. Tháp chùa Thiên Mụ

D. Dinh Độc Lập

• Công trình thấp nhất là:

A. Cột cờ Hà Nội

B. Tháp Rùa

C. Tháp chùa Thiên Mụ

D. Dinh Độc Lập

b) Đánh dấu × vào ô trống trước những công trình kiến trúc cao hơn 25 m.

Cột cờ Hà Nội

Tháp Rùa

Tháp chùa Thiên Mụ

Dinh Độc Lập

c) Số ?

Cột cờ Hà Nội cao hơn Tháp Rùa m.

4 Số ?

Biết chiều cao cột cờ của trường Rô-bốt học lớn hơn 10 m nhưng bé hơn 15 m và chiều cao đó là kết quả của một trong ba phép trừ sau:

$23\text{ m} - 13\text{ m}$; $30\text{ m} - 14\text{ m}$; $27\text{ m} - 15\text{ m}$.

Vậy chiều cao của cột cờ đó là m.

Tiết 3

1 Viết số thích hợp vào chỗ chấm.

1 km = m

..... m = 1 km

2 Viết số thích hợp vào chỗ chấm.

6 km + 9 km = km

25 km + 35 km = km

21 km - 10 km = km

42 km - 27 km = km

3 ✎ Viết tiếp vào chỗ chấm cho thích hợp.

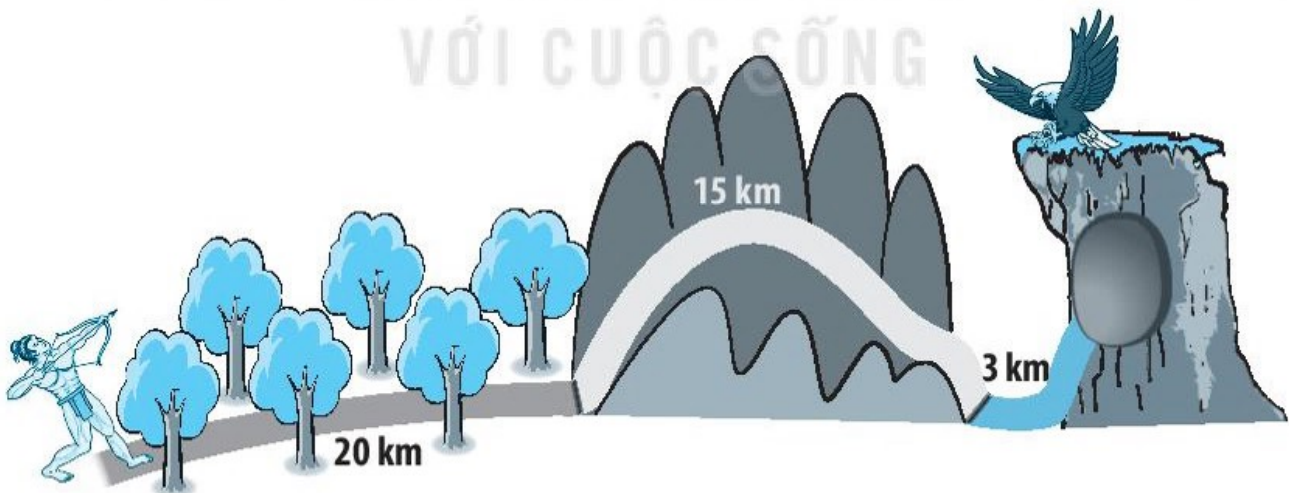
Độ dài đường bộ từ Hà Nội đi đến một số tỉnh thành như sau:

Đường bộ	Độ dài
Hà Nội – Thái Nguyên	75 km
Hà Nội – Nam Định	110 km
Hà Nội – Hải Dương	60 km
Hà Nội – Hải Phòng	100 km

- Tỉnh thành xa Hà Nội nhất là
- Tỉnh thành gần Hà Nội nhất là
- Tỉnh thành xa Hà Nội hơn 100 km là
- Trong hai tỉnh Thái Nguyên và Hải Dương, tỉnh gần Hà Nội hơn là và gần hơn km.

4 ✎ Viết số thích hợp vào chỗ chấm.

Để cứu công chúa bị giữ trong hang đại bàng, Thạch Sanh cần đi qua một khu rừng, một dãy núi sau đó phải leo qua vách đá (như hình vẽ).



Tính từ vị trí đang đứng:

- Để đi qua dãy núi, Thạch Sanh cần đi km.
- Để đi đến hang cứu công chúa, Thạch Sanh cần đi km.

BÀI 56

GIỚI THIỆU TIỀN VIỆT NAM

1 Số ?



7

2 Khoanh vào chữ đặt trước câu trả lời đúng.

Mẹ đi chợ mua hàng hết 500 đồng. Hỏi mẹ chọn một đồng tiền nào sau đây để trả người bán hàng?



3 Đ, S ?

Mai và Mi tiết kiệm được số tiền như sau:

Mai					
Mi					

- a) Mai có nhiều tờ 200 đồng hơn Mi. b) Mai có ít tờ 100 đồng hơn Mi.
 c) Mi có nhiều tờ 500 đồng hơn Mai. d) Mai và Mi có số tờ tiền bằng nhau.

BÀI 57

THỰC HÀNH VÀ TRẢI NGHIỆM ĐO ĐỘ DÀI

Tiết 1

1 Em hãy ước lượng độ dài các đồ vật theo yêu cầu rồi dùng thước kẻ đo lại. Ghi kết quả vào bảng.

Yêu cầu	Em ước lượng	Em đo được
Tìm độ dài một cạnh bàn học của em.	Khoảng dm dm
Tìm chiều cao chiếc ghế em ngồi.	Khoảng dm dm
Tìm chiều dài cặp sách của em.	Khoảng dm dm

2 Em hãy tìm ba đồ vật trong nhà để đo chiều cao (theo đơn vị đề-xi-mét) rồi ghi lại vào bảng.

Tên đồ vật	Em đo được

Tiết 2

1 Em hãy tìm hiểu rồi viết tên và chiều dài của một cây cầu gần nơi ở có độ dài không quá 1 000 m.

.....

2 Em hãy tìm 3 cái cây cao hơn 1 m gần nơi ở, thử ước lượng xem mỗi cây đó cao khoảng bao nhiêu mét rồi ghi lại vào bảng.

Tên cây	Em ước lượng

BÀI 58

LUYỆN TẬP CHUNG

Tiết 1

1 ✎ Viết số thích hợp vào chỗ chấm.

a) $5 \text{ dm} = \dots\dots\dots \text{ cm}$

$4 \text{ m} = \dots\dots\dots \text{ dm}$

$4 \text{ dm} = \dots\dots\dots \text{ cm}$

$2 \text{ m} = \dots\dots\dots \text{ cm}$

$7 \text{ m} = \dots\dots\dots \text{ dm}$

$9 \text{ m} = \dots\dots\dots \text{ cm}$

b) $100 \text{ cm} = 1 \text{ m}$

$10 \text{ dm} = 1 \text{ m}$

$800 \text{ cm} = \dots\dots\dots \text{ m}$

$30 \text{ dm} = \dots\dots\dots \text{ m}$

$400 \text{ cm} = \dots\dots\dots \text{ m}$

$60 \text{ dm} = \dots\dots\dots \text{ m}$

2 ✎ Khoanh vào chữ đặt trước câu trả lời đúng.

Có 3 hòn đảo V, N, I ở vị trí như hình vẽ. Một cây cầu dài 12 km nối đảo V với đảo N và một cây cầu dài 8 km nối đảo N với đảo I.



a) Đi theo các cây cầu từ đảo N đến đảo nào gần hơn?

A. Đảo V

B. Đảo I

b) Đi qua các cây cầu từ đảo V đến đảo I hết bao nhiêu ki-lô-mét?

A. 8 km

B. 20 km

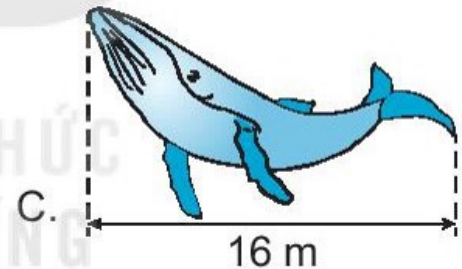
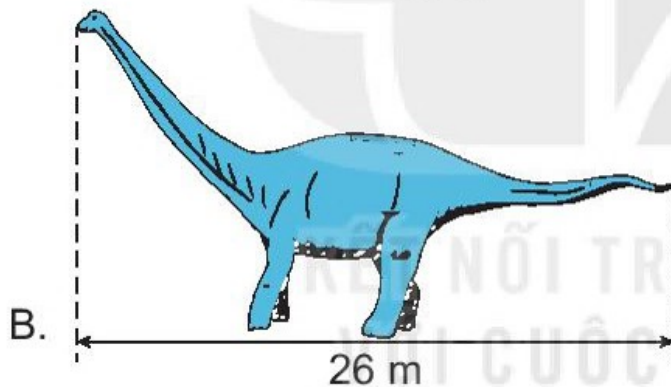
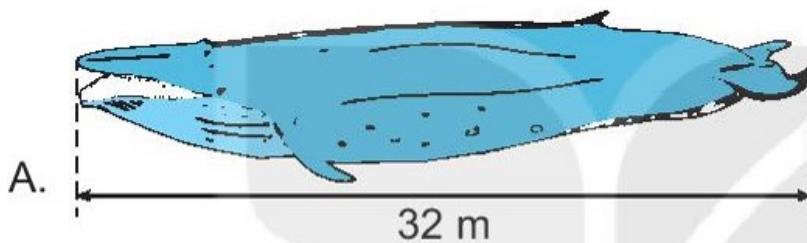
C. 12 km

3 ✎ Khoanh vào chữ đặt trước câu trả lời đúng.

Chiếc thước 1 m bị gãy mất một đoạn. Hỏi trong hai đoạn A và B, đâu là đoạn bị gãy khỏi chiếc thước?



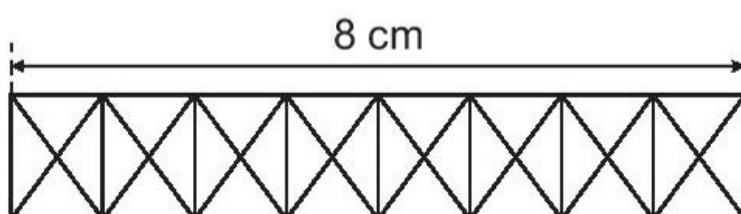
4 ✎ a) Khoanh vào chữ đặt trước con vật dài nhất.



b) Viết số thích hợp vào chỗ chấm.

Trong các con vật ở câu a, con vật B dài hơn con vật C là m.

5 ✎ Bạn Nam định vẽ một hàng rào dài 1 dm. Bạn ấy đã vẽ được 8 cm. Em hãy vẽ thêm để được hàng rào dài đúng 1 dm nhé.



Tiết 2

1 a) Viết số thích hợp vào chỗ chấm.

$9 \text{ dm} = \dots\dots\dots \text{ cm}$

$2 \text{ m} = \dots\dots\dots \text{ dm}$

$7 \text{ m} = \dots\dots\dots \text{ cm}$

$500 \text{ cm} = \dots\dots\dots \text{ m}$

$80 \text{ dm} = \dots\dots\dots \text{ m}$

b) $>$; $<$; $=$?

$1 \text{ km} \square 980 \text{ m}$

$1 \text{ km} \square 1\,000 \text{ m}$

2 Viết số thích hợp vào chỗ chấm.

$29 \text{ dm} + 37 \text{ dm} = \dots\dots\dots \text{ dm}$

$85 \text{ dm} + 5 \text{ dm} = \dots\dots\dots \text{ dm}$

$54 \text{ m} - 19 \text{ m} = \dots\dots\dots \text{ m}$

$90 \text{ m} - 10 \text{ m} = \dots\dots\dots \text{ m}$

3 Đ, S ?

Hai con chim sẽ đang bay có thể nhìn thấy nhau nếu chúng cách nhau không quá 2 km. Có 6 con chim sẽ đang ở các vị trí A, B, C, D, E, G như hình vẽ.

a) Con chim C có thể nhìn thấy

con chim E.

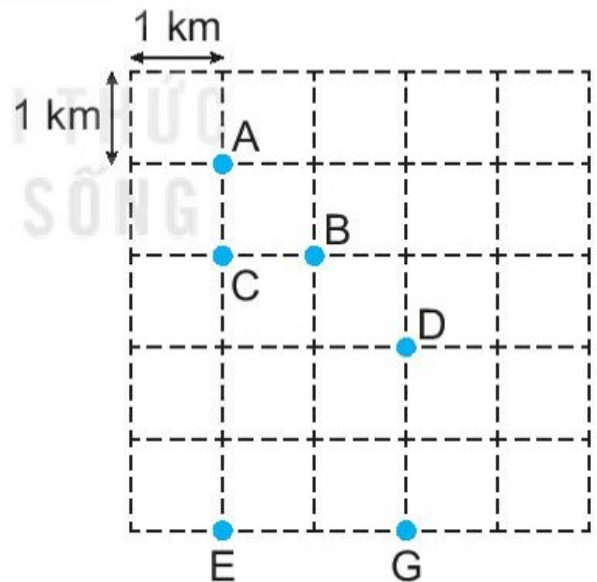
b) Con chim E không nhìn thấy

con chim nào khác.

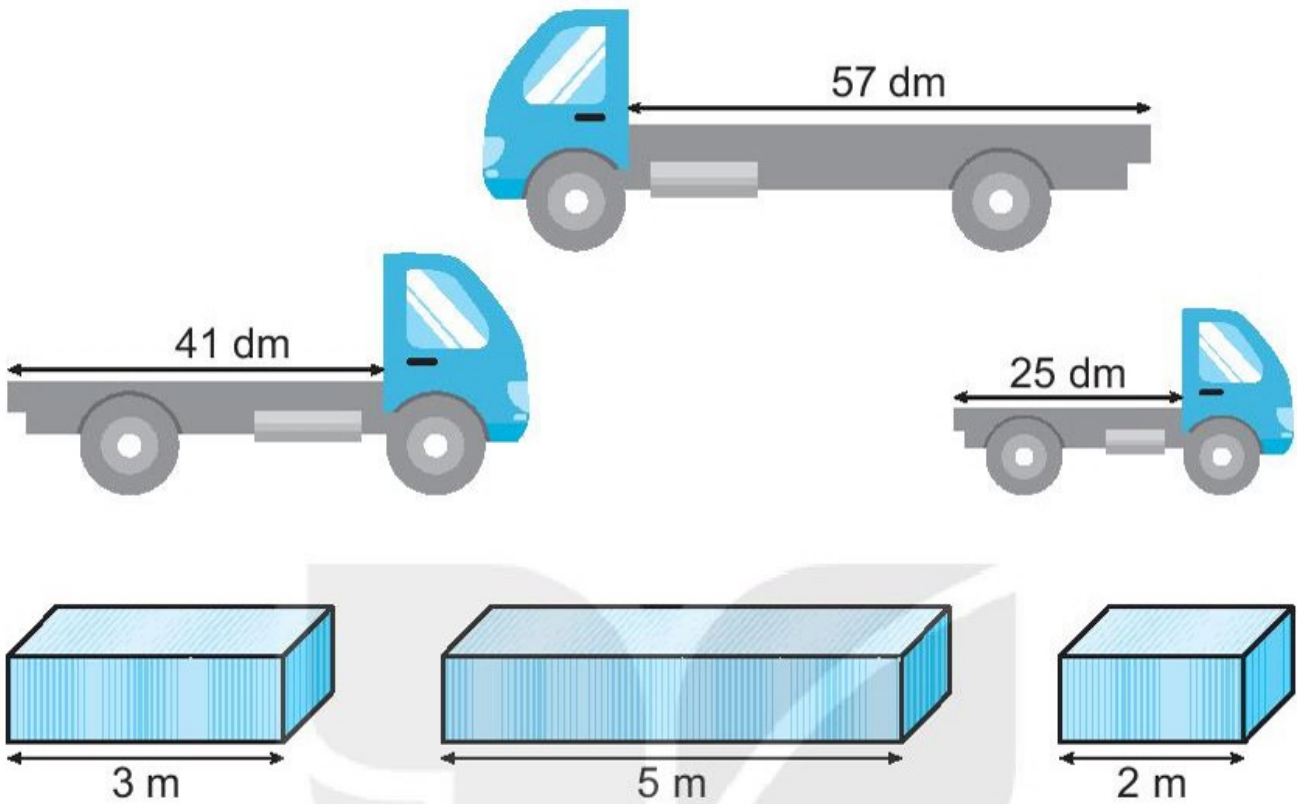
c) Con chim A có thể nhìn thấy

3 con chim khác.

d) Khoảng cách từ con chim C đến hai con chim A và B bằng nhau.



4 ✎ Nối mỗi thùng hàng với xe tải thích hợp.



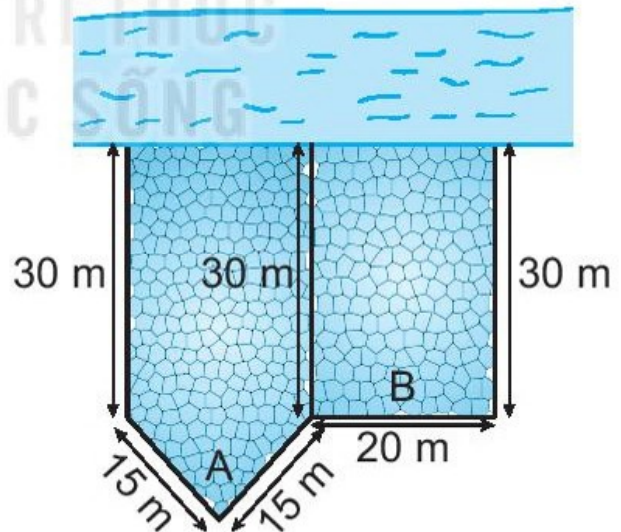
5 ✎ Viết tiếp vào chỗ chấm cho thích hợp.

Có hai miếng đất A và B như hình vẽ.

Biết rằng miếng đất của bác Nam có dạng hình tứ giác.

a) Miếng đất là của bác Nam.

b) Bác Nam muốn rào xung quanh miếng đất của mình nhưng không rào ở mặt cạnh sông. Vậy bác Nam cần dùng m hàng rào.



BÀI 59

PHÉP CỘNG (không nhớ) TRONG PHẠM VI 1 000

Tiết 1

1 ✎ Tính.

$$\begin{array}{r} 364 \\ + 215 \\ \hline \end{array}$$

.....

$$\begin{array}{r} 643 \\ + 106 \\ \hline \end{array}$$

.....

$$\begin{array}{r} 102 \\ + 95 \\ \hline \end{array}$$

.....

$$\begin{array}{r} 923 \\ + 50 \\ \hline \end{array}$$

.....

2 ✎ Đặt tính rồi tính.

$$550 + 145$$

.....

.....

.....

$$287 + 102$$

.....

.....

.....

$$804 + 73$$

.....

.....

.....

$$418 + 80$$

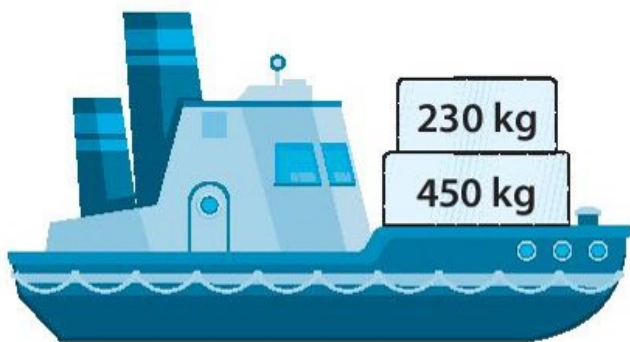
.....

.....

.....

3 ✎ Khoanh vào chữ đặt dưới câu trả lời đúng.

Con tàu nào chở nặng hơn?




A




B

4 Nói mỗi phép tính với kết quả của phép tính đó.



$615 + 104$

769



$378 + 20$

719



$440 + 329$

398



Tiết 2

1 Đặt tính rồi tính.

$156 + 240$

.....

.....

.....

$900 + 78$

.....

.....

.....

$803 + 170$

.....

.....

.....

$623 + 44$

.....

.....

.....

$545 + 212$

.....

.....

.....

$312 + 80$

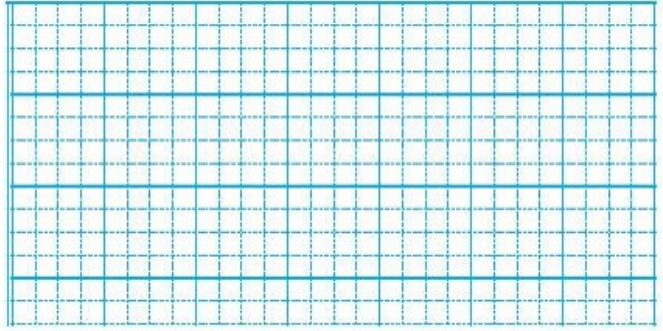
.....

.....

.....


- 2 ✎ Buổi sáng voi em uống 105 l nước, voi anh uống nhiều hơn voi em 20 l nước. Hỏi voi anh uống bao nhiêu lít nước vào buổi sáng?

Bài giải



- 3 ✎ Vườn thuốc của ông nội bạn Nam trồng 131 cây thuốc. Vườn bên cạnh của bác sĩ Hùng trồng 142 cây thuốc. Hỏi cả hai vườn trồng tất cả bao nhiêu cây thuốc?

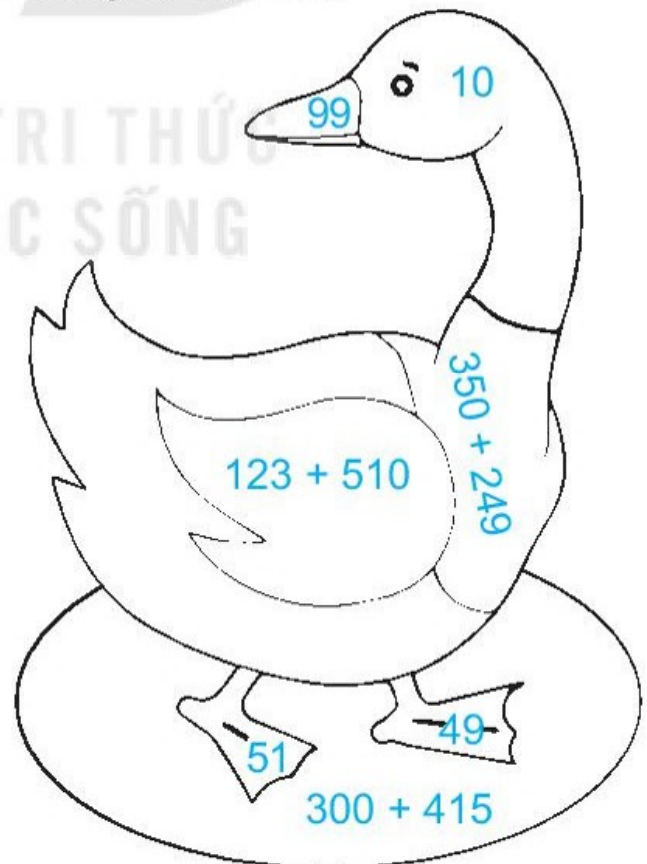
Bài giải



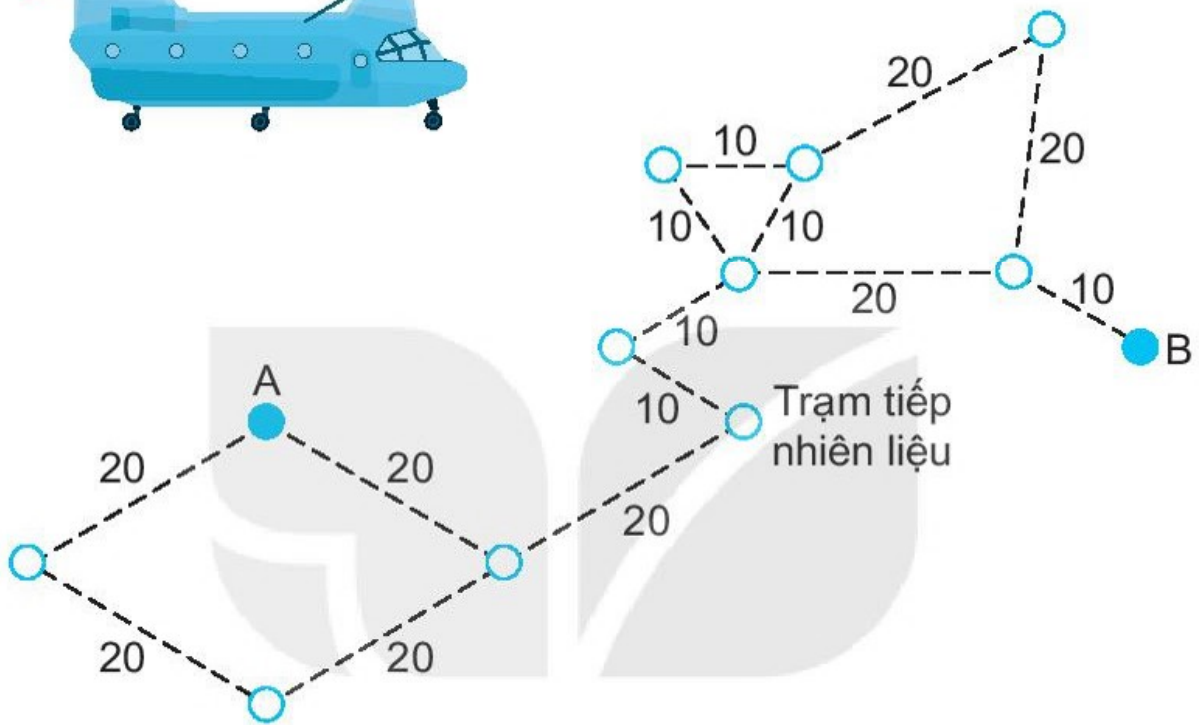
- 4 ✎ Em hãy tô màu giúp bé Mi theo các yêu cầu sau:

– Với các số bé hơn 100: Tô màu tím vào nơi chứa số bé nhất, màu vàng vào nơi chứa số lớn nhất và màu da cam vào nơi chứa hai số còn lại.

– Với các phép tính: Tô màu đen vào nơi chứa phép tính có kết quả bé nhất, tô màu xanh vào nơi chứa phép tính có kết quả lớn nhất.



- 5 ✎ Trực thăng cần bay từ A đến B qua tất cả các điểm màu trắng, theo những đường nối, nhưng không điểm nào được đi qua quá một lần.





- a) Em hãy tô đậm đường đi của trực thăng.
 b) Viết số thích hợp vào chỗ chấm.

Trên đường kẻ ghi số là số đo chiều dài các đoạn đường theo ki-lô-mét.

Trực thăng bay từ A đến trạm tiếp nhiên liệu hết tất cả km.

4 ✎ Nói mỗi phép tính với kết quả của phép tính đó.



Tiết 2

KẾT NỐI TRI THỨC
VỚI CUỘC SỐNG

1 ✎ Đặt tính rồi tính.

$374 + 534$

$619 + 4$

$570 + 150$

$23 + 286$

.....

.....

.....

.....

.....

.....

.....

.....

.....

.....

.....

.....

2 ✎ Tính nhẩm.

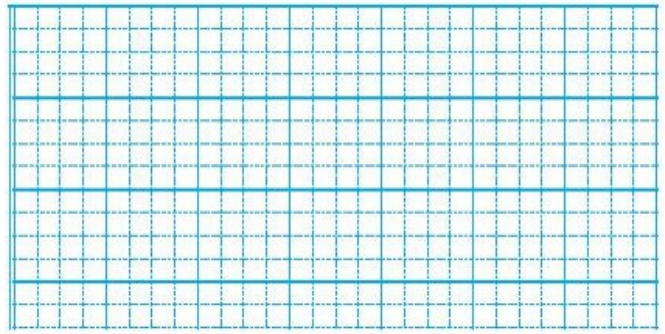
$100 + 900 = \dots\dots\dots$

$700 + 300 = \dots\dots\dots$

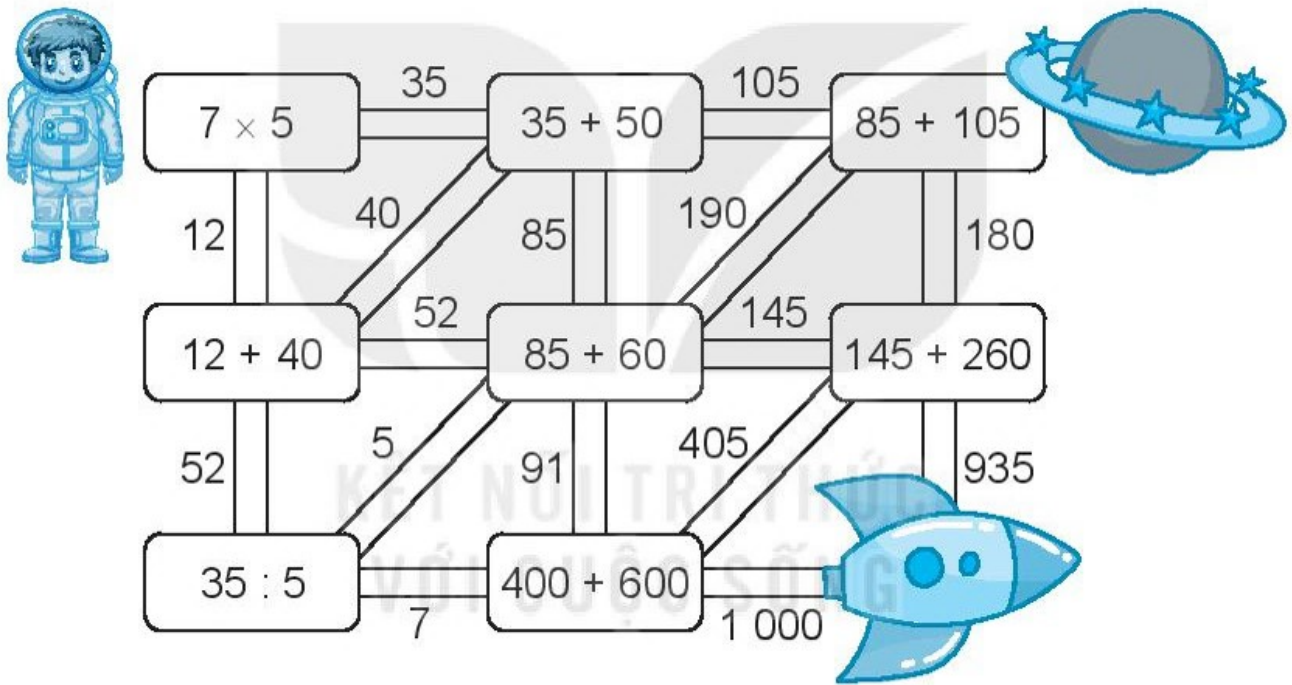
$600 + 400 = \dots\dots\dots$

3 Để ngăn quân giặc, nhà vua cho đóng những bãi cọc gỗ ở đáy sông. Một bãi cọc có 225 chiếc cọc. Bãi cọc bên cạnh có 256 chiếc cọc. Hỏi cả hai bãi cọc có bao nhiêu chiếc cọc?

Bài giải



4 Em hãy tô màu đường đi của bạn Dũng từ vị trí đang đứng đến chỗ phi thuyền. Biết từ mỗi ô, bạn Dũng đi theo con đường ghi kết quả của phép tính trên ô đó.



Tiết 3

1 Đặt tính rồi tính.

$$635 + 245$$

.....

.....

.....

$$482 + 391$$

.....

.....

.....

$$720 + 97$$

.....

.....

.....

$$518 + 159$$

.....

.....

.....

2 ✎ Viết số thích hợp vào chỗ chấm.

a) $9 \times 5 + 235 = \dots\dots\dots$

b) $97 - 27 + 630 = \dots\dots\dots$

c) $30 + 70 + 831 = \dots\dots\dots$

3 ✎ Khoanh vào chữ đặt trước câu trả lời đúng.

Hai máy bay V và N cùng bay đến một sân bay. Máy bay V đã bay 326 km. Máy bay N đã bay quãng đường nhiều hơn máy bay V là 124 km. Hỏi máy bay N đã bay bao nhiêu ki-lô-mét?

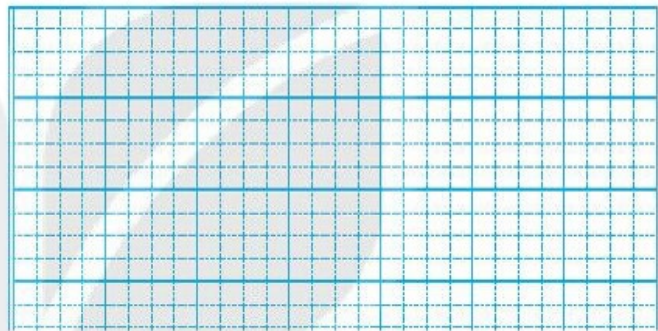
A. 202 km

B. 430 km

C. 450 km

4 ✎ Bể A chứa 90 l nước, bể B chứa 165 l nước. Hỏi cả hai bể chứa bao nhiêu lít nước?

Bài giải



5 ✎ Số ?

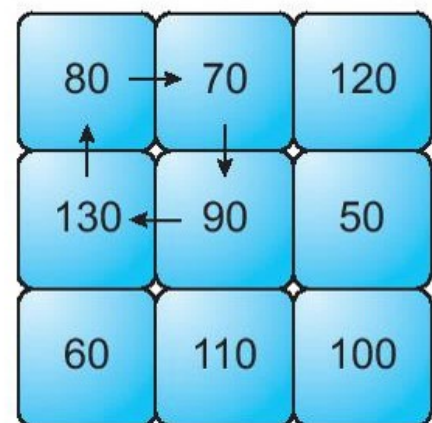
Một rô-bốt di chuyển theo các lệnh đã được lập trình như sau:

←: Sang trái 1 ô	→: Sang phải 1 ô
↑: Đi lên 1 ô	↓: Đi xuống 1 ô

Ví dụ: Ban đầu, rô-bốt đứng ở ô 90. Đi theo lệnh “← ↑ → ↓”, rô-bốt quay về chính ô 90 (như hình vẽ).

a) Từ ô ghi số 130, rô-bốt đi theo lệnh “↓ → ↑” thì sẽ đi đến ô ghi số

b) Tổng của số bé nhất và số lớn nhất trong các số mà rô-bốt gặp ở câu a bằng



BÀI 61

PHÉP TRỪ (không nhớ) TRONG PHẠM VI 1 000

Tiết 1

1 ✎ Tính.

$$\begin{array}{r} 468 \\ - 247 \\ \hline \end{array}$$

.....

$$\begin{array}{r} 729 \\ - 607 \\ \hline \end{array}$$

.....

$$\begin{array}{r} 283 \\ - 270 \\ \hline \end{array}$$

.....

$$\begin{array}{r} 926 \\ - 525 \\ \hline \end{array}$$

.....

2 ✎ Đặt tính rồi tính.

$$683 - 473$$

.....

.....

.....

$$628 - 517$$

.....

.....

.....

$$785 - 772$$

.....

.....

.....

$$349 - 135$$

.....

.....

.....

3 ✎ Tính nhẩm.

$$700 - 500 = \dots\dots\dots$$

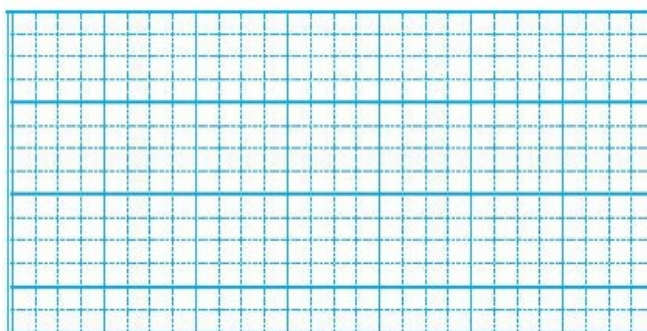
$$800 - 200 = \dots\dots\dots$$

$$900 - 600 = \dots\dots\dots$$

$$500 - 400 = \dots\dots\dots$$

4 ✎ Con trâu rừng cân nặng 480 kg. Con sư tử nhẹ hơn con trâu rừng 250 kg. Hỏi con sư tử cân nặng bao nhiêu ki-lô-gam?

Bài giải



Tiết 2




1 ✎ Viết chữ số thích hợp vào ô trống.

$$\begin{array}{r} \square 6 8 \\ - 2 4 \square \\ \hline 5 \square 5 \end{array}$$

$$\begin{array}{r} 8 \square 9 \\ - \square 4 5 \\ \hline 7 5 \square \end{array}$$

$$\begin{array}{r} 9 7 \square \\ - 3 \square 2 \\ \hline \square 1 6 \end{array}$$

2 ✎ Số ?



a)	Bông hoa	4 cánh	5 cánh	6 cánh
	Kết quả của phép tính			

b) Phép tính có kết quả lớn nhất ghi ở bông hoa có cánh.

c) Phép tính có kết quả bé nhất ghi ở bông hoa có cánh.

3 ✎ Mỗi con ếch sẽ nhảy lên lá sen ghi phép tính có kết quả là số trên con ếch đó. Em hãy nói để tìm lá sen cho mỗi con ếch nhảy lên.



4 ✓ Viết chữ số thích hợp vào ô trống.

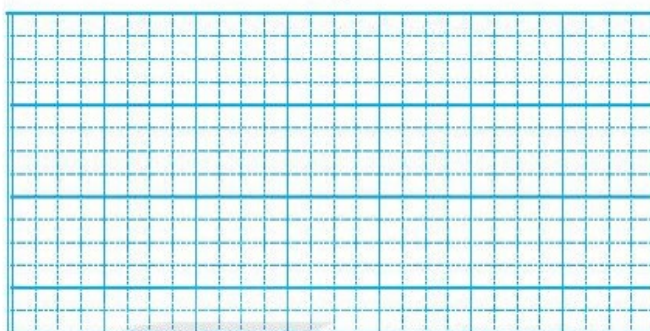
a) $324 - 223 = 10\boxed{}$

b) $992 - 170 < \boxed{}18$

c) $758 - 446 > 3\boxed{}2$

5 ✓ Một công ty có 325 công nhân, trong đó có 225 công nhân nữ. Hỏi công ty có bao nhiêu công nhân nam?

Bài giải



Tiết 3

1 ✓ Bạn chó sẽ tìm đến khúc xương ghi phép tính có kết quả lớn nhất. Khoanh vào khúc xương mà bạn chó sẽ tìm đến.



$430 - 310$

$892 - 780$

$564 - 550$

2 ✓ Khoanh vào chữ đặt trước câu trả lời đúng.

a) Kết quả tính $321 - 220 + 437$ bằng:

A. 438

B. 538

C. 638

b) Kết quả tính $362 - 320 + 526$ bằng:

A. 568

B. 668

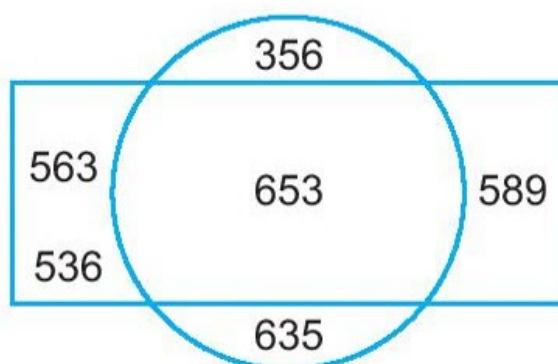
C. 536

3 ✎ Viết số thích hợp vào chỗ chấm.

a) Số lớn nhất nằm ngoài hình tròn là

b) Số bé nhất nằm trong hình chữ nhật là

c) Hiệu của số lớn nhất nằm ngoài hình tròn và số bé nhất nằm trong hình chữ nhật là: - =



4 ✎ Đ, S ?

Biết chiều dài một số quốc lộ như sau:

Quốc lộ	2A	3A	4A	5A
Chiều dài	300 km	330 km	128 km	116 km

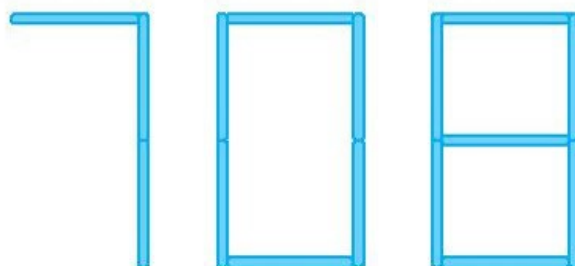
Trong các quốc lộ trên:

a) Quốc lộ dài nhất có chiều dài lớn hơn 300 km.

b) Quốc lộ 3A dài hơn quốc lộ 2A là 130 km.

c) Tên các quốc lộ viết theo thứ tự từ dài nhất đến ngắn nhất là: 3A, 2A, 5A, 4A.

5 ✎ Cho số 708 được xếp bởi các que tính như sau:



Viết số thích hợp vào chỗ chấm.

a) Số lớn nhất có thể tạo thành khi chuyển chỗ 1 que tính là số

b) Số bé nhất có thể tạo thành khi chuyển chỗ 1 que tính là số

c) Hiệu của hai số thu được ở câu a và câu b bằng

BÀI 62

PHÉP TRỪ (có nhớ) TRONG PHẠM VI 1 000

Tiết 1

1 ✎ Tính.

$$\begin{array}{r} 533 \\ - 204 \\ \hline \end{array}$$

.....

$$\begin{array}{r} 672 \\ - 637 \\ \hline \end{array}$$

.....

$$\begin{array}{r} 488 \\ - 209 \\ \hline \end{array}$$

.....

$$\begin{array}{r} 930 \\ - 225 \\ \hline \end{array}$$

.....

2 ✎ Đặt tính rồi tính.

$$622 - 13$$

.....

.....

.....

$$381 - 128$$

.....

.....

.....

$$792 - 56$$

.....

.....

.....

$$830 - 812$$

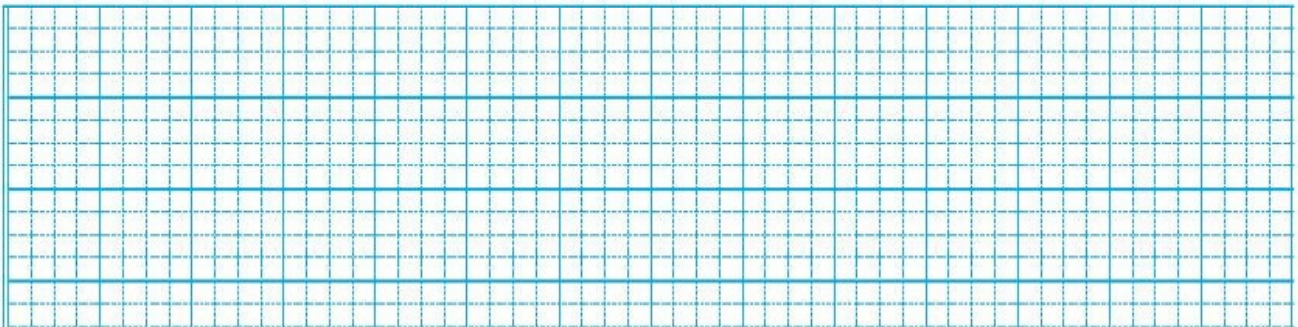
.....

.....

.....

3 ✎ Một hội trường có 450 ghế ngồi. Trong hội trường đã có 235 người, mỗi người ngồi một ghế. Hỏi trong hội trường còn lại bao nhiêu ghế trống?

Bài giải



4 ✎ Trong hình sau đây, rô-bốt sẽ đi theo đường qua các phép tính đúng. Hãy tô màu vào các phép tính đúng và khoanh vào địa điểm mà rô-bốt sẽ đến.

$$\begin{array}{r} 372 \\ - 124 \\ \hline 158 \end{array}$$

$$\begin{array}{r} 420 \\ - 207 \\ \hline 213 \end{array}$$

$$\begin{array}{r} 372 \\ - 124 \\ \hline 158 \end{array}$$

$$\begin{array}{r} 783 \\ - 282 \\ \hline 501 \end{array}$$

$$\begin{array}{r} 983 \\ - 309 \\ \hline 674 \end{array}$$

$$\begin{array}{r} 628 \\ - 470 \\ \hline 258 \end{array}$$

$$\begin{array}{r} 420 \\ - 216 \\ \hline 204 \end{array}$$

$$\begin{array}{r} 627 \\ - 326 \\ \hline 301 \end{array}$$

$$\begin{array}{r} 491 \\ - 380 \\ \hline 111 \end{array}$$

Tiết 2

1 Tính.

a)
$$\begin{array}{r} 235 \\ - 160 \\ \hline \end{array}$$

b)
$$\begin{array}{r} 617 \\ - 525 \\ \hline \end{array}$$

2 Số ?


Số bị trừ	642	250	248	439	700
Số trừ	261	160	50	258	200
Hiệu					

3 Nói mỗi phép tính với kết quả của phép tính đó.



- 4/ Hiện nay, một chiếc máy bay của một hãng có thể chở được 890 hành khách. Trước kia, chiếc máy bay đầu tiên của hãng đó chỉ có thể chở được 285 hành khách. Hỏi so với chiếc máy bay đầu tiên, chiếc máy bay hiện nay của hãng có thể chở được nhiều hơn bao nhiêu hành khách?

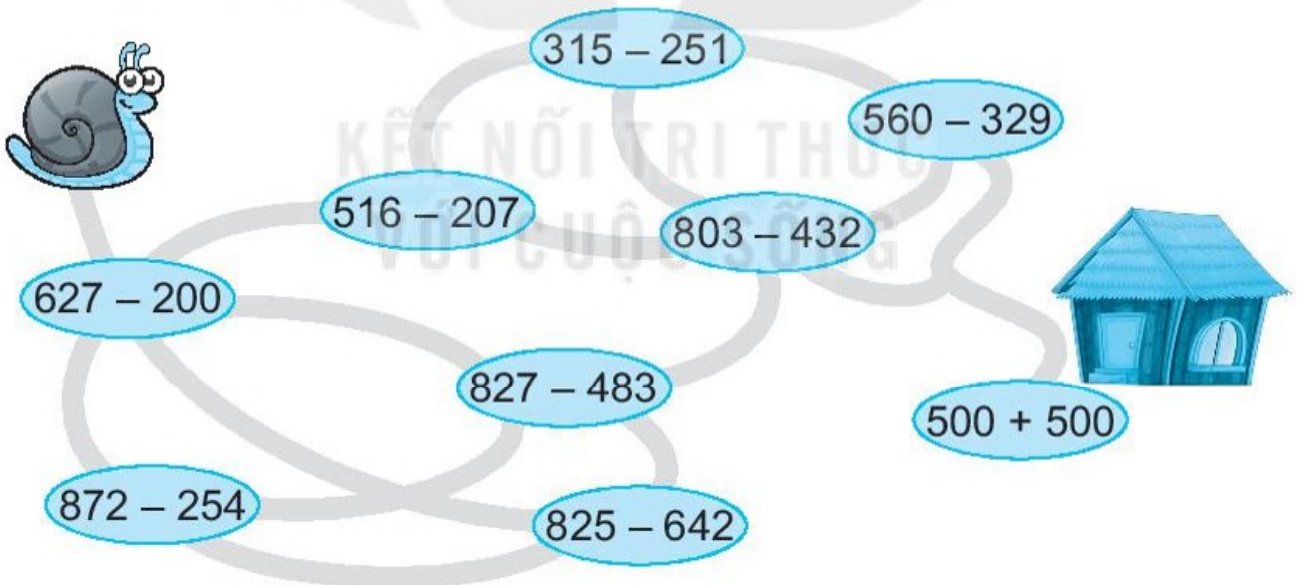
Bài giải



- 5/ Ốc sên bò qua các phép tính có kết quả theo thứ tự như sau:

$427 \rightarrow 344 \rightarrow 371 \rightarrow 231 \rightarrow 1\ 000$

Em hãy tô màu các con đường mà bạn ốc sên đã đi qua để tìm đường về nhà cho bạn ốc sên.



Tiết 3

- 1/ Tính nhẩm.

a) $100 + 900 = \dots\dots\dots$ $1\ 000 - 100 = \dots\dots\dots$ $1\ 000 - 900 = \dots\dots\dots$

b) $400 + 600 = \dots\dots\dots$ $1\ 000 - 400 = \dots\dots\dots$ $1\ 000 - 600 = \dots\dots\dots$

2 **Số ?**

a) $351 \xrightarrow{+ 228} \triangle \xrightarrow{- 382} \square$

b) $\square 462 \xrightarrow{- 180} \diamond \xrightarrow{+ 70} \circ$

3 Tính đến năm 2020, trên thế giới có 204 quốc gia và vùng lãnh thổ, trong đó có 193 quốc gia được công nhận là thành viên chính thức của Liên Hợp Quốc. Hỏi tính đến năm 2020 có bao nhiêu quốc gia chưa được công nhận là thành viên của Liên Hợp Quốc?

Bài giải

4 Kết quả của mỗi phép tính dưới đây là cân nặng của một con vật có trong hình. Biết hươu cao cổ nặng nhất, hổ nhẹ nhất. Em hãy nối mỗi con vật với cân nặng của con vật đó.



900 kg – 110 kg

525 kg – 235 kg

671 kg – 126 kg

5 ✎ Đ, S ?

a) $368 - 270 = 198$

b) $825 - 207 = 618$

c) $415 - 90 = 325$

d) $567 - 428 = 149$

Tiết 4

1 ✎ Đặt tính rồi tính.

$365 - 128$

$642 - 290$

$520 - 90$

$175 - 68$

.....
.....
.....

2 ✎ Viết chữ số thích hợp vào ô trống.

a)
$$\begin{array}{r} _ 5 6 4 \\ _ \square 0 7 \\ \hline 2 5 \square \end{array}$$

b)
$$\begin{array}{r} _ 7 2 8 \\ _ \square 9 7 \\ \hline 2 3 \square \end{array}$$

c)
$$\begin{array}{r} _ 9 8 0 \\ _ \square 1 9 \\ \hline 1 \square 1 \end{array}$$

d)
$$\begin{array}{r} _ 8 2 1 \\ _ \square 0 3 \\ \hline 5 \square 8 \end{array}$$

3 ✎ Giải ô chữ.

Kết quả của mỗi phép tính tương ứng với một chữ cái như bảng bên:

A	$534 - 250$
E	$321 + 70$
H	$1\ 000 - 400$


O	$352 + 215$
N	$600 - 300$
S	$372 - 213$

a) Viết chữ cái thích hợp vào ô trống (theo mẫu).

600	567	284	159	391	300
H					

b) Ô chữ em giải được là:

- 4 ✎ Mỗi con gà ghi phép tính có kết quả là số ghi trên ổ rơm.
Em hãy nói để tìm ổ rơm thích hợp cho mỗi con gà.



- 5 ✎ Rô-bốt tra cứu được chiều dài chảy qua lãnh thổ Việt Nam của một số con sông như bảng bên:

Tên sông	Chiều dài
Sông Thái Bình	411 km
Sông Hồng	551 km
Sông Đà	543 km
Sông Bé	385 km

- a) Viết các số đo độ dài đã cho theo thứ tự từ bé đến lớn.

.....

b) Khoanh vào chữ đặt trước câu trả lời đúng.

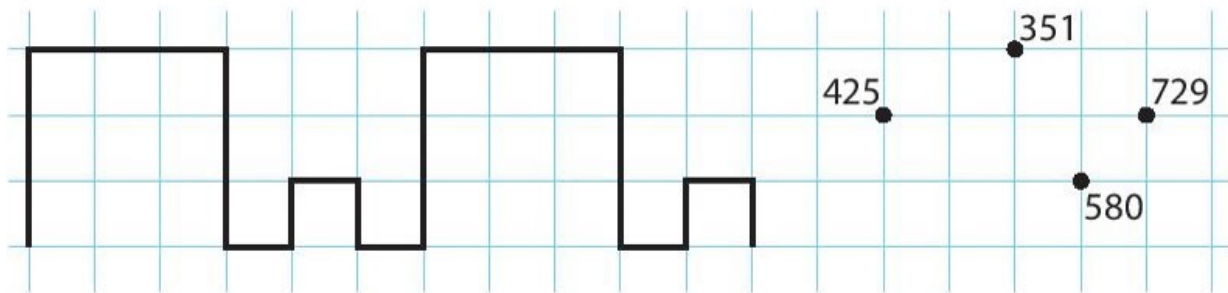
Con sông nào có chiều dài bé hơn 500 km nhưng lớn hơn 400 km?

- A. Sông Thái Bình B. Sông Hồng
C. Sông Đà D. Sông Bé

c) Viết số thích hợp vào chỗ chấm.

Sông Hồng dài hơn sông Đà km.

4 a) Vẽ tiếp hình (theo mẫu).



b) Viết số thích hợp vào chỗ chấm.

- Hình vừa vẽ đi qua hai số là và
- Hiệu hai số đó bằng

Tiết 2

1 Đ, S ?

a)
$$\begin{array}{r} 536 \\ - 28 \\ \hline 518 \end{array}$$

b)
$$\begin{array}{r} 727 \\ + 33 \\ \hline 750 \end{array}$$

c)
$$\begin{array}{r} 340 \\ + 159 \\ \hline 499 \end{array}$$

d)
$$\begin{array}{r} 329 \\ - 138 \\ \hline 291 \end{array}$$

2 Khoanh vào chữ đặt trước câu trả lời đúng.

a) Kết quả tính $356 + 320 - 280$ bằng:

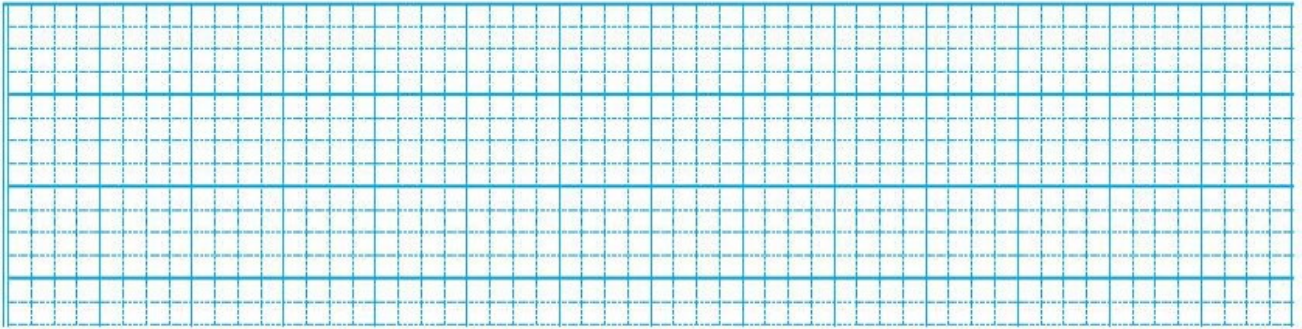
- A. 296 B. 395 C. 396

b) Kết quả tính $520 - 318 + 407$ bằng:

- A. 609 B. 519 C. 619

- 3 ✓ Trường Hoà Bình có 425 học sinh. Trường Thành Công có ít hơn trường Hoà Bình là 70 học sinh. Hỏi trường Thành Công có bao nhiêu học sinh?

Bài giải



- 4 ✓ Tính nhẩm.

$500 - 300 = \dots\dots\dots$

$800 + 200 = \dots\dots\dots$

$200 + 30 = \dots\dots\dots$

$400 + 500 = \dots\dots\dots$

$600 - 200 = \dots\dots\dots$

$300 + 80 = \dots\dots\dots$

$400 - 100 = \dots\dots\dots$

$1\ 000 - 500 = \dots\dots\dots$

- 5 ✓ Cho các số:

629

362

372

257

- a) Nối các số đã cho theo thứ tự từ bé đến lớn.
- b) Viết số thích hợp vào chỗ chấm.
- Tổng của số lớn nhất và số bé nhất trong các số đã cho bằng
 - Hiệu của số lớn nhất và số bé nhất trong các số đã cho bằng


BÀI 64

THU THẬP, PHÂN LOẠI, KIỂM Đếm SỐ LIỆU

1 Số ?

Trên giá sách có bao nhiêu cuốn sách mỗi loại?

- a) Toán 2: quyển.
 b) Tiếng Việt 2: quyển.
 c) Tự nhiên và Xã hội 2: quyển.



2 Cho biết lịch làm việc nhà hằng tuần của Rô-bốt như sau:

Thứ Hai	Thứ Ba	Thứ Tư	Thứ Năm	Thứ Sáu	Thứ Bảy	Chủ nhật
Nấu cơm		Nấu cơm	Rửa bát		Rửa bát	Nấu cơm
Giặt quần áo	Rửa bát	Lau nhà	Giặt quần áo	Nấu cơm	Giặt quần áo	Lau nhà

a) Số ?

Rô-bốt làm mỗi việc đó vào mấy ngày trong tuần?

- Nấu cơm: ngày;
- Rửa bát: ngày;
- Giặt quần áo: ngày;
- Lau nhà: ngày.

b) Khoanh vào chữ đặt trước câu trả lời đúng.

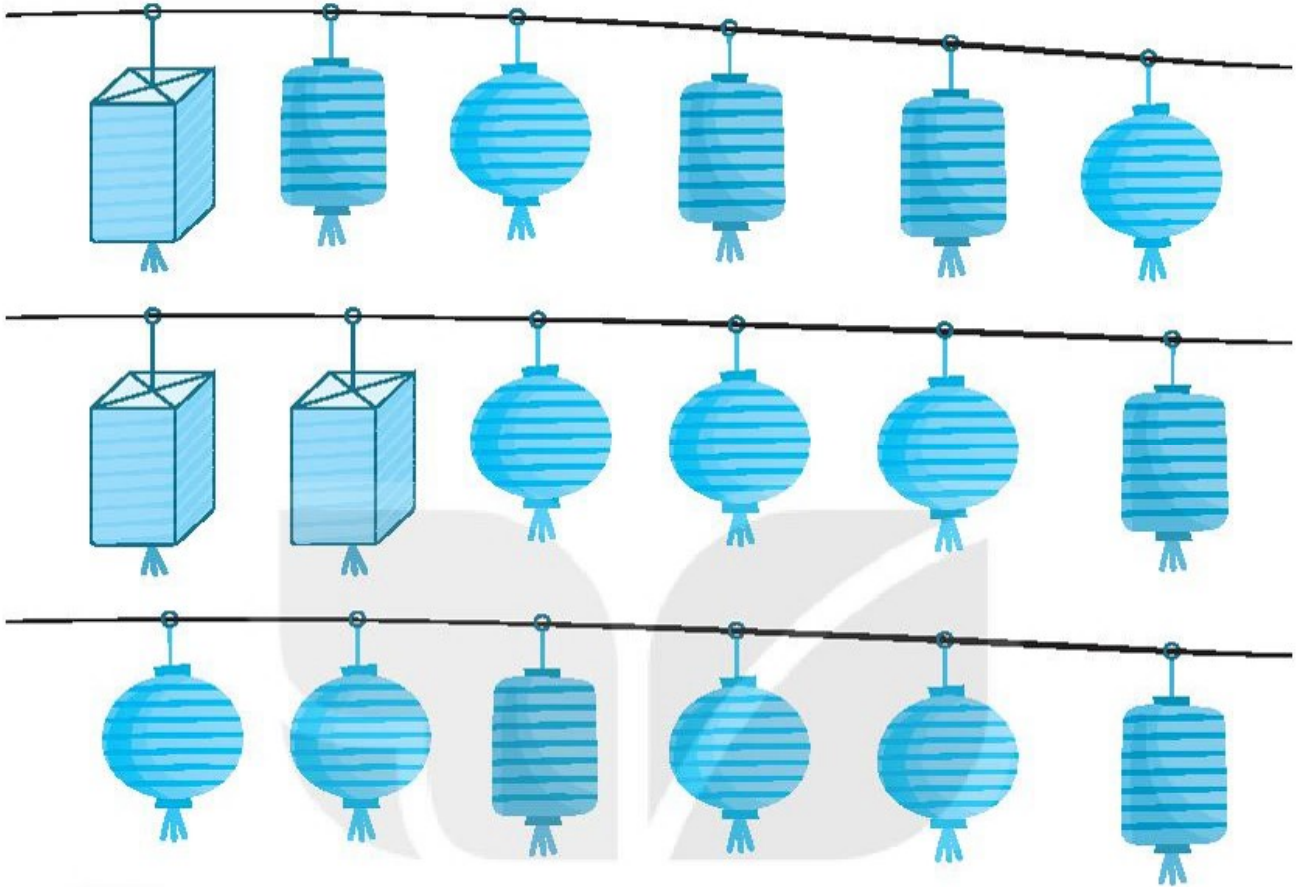
• Rô-bốt làm việc gì trong nhiều ngày nhất?

- A. Nấu cơm B. Giặt quần áo C. Rửa bát D. Lau nhà

• Rô-bốt làm việc gì trong ít ngày nhất?

- A. Nấu cơm B. Giặt quần áo C. Rửa bát D. Lau nhà

3 Rô-bốt đã làm những đèn lồng sau đây để bán lấy tiền quyên góp cho quỹ khuyến học:



a) Số ?

Rô-bốt đã làm được:

- đèn lồng dạng khối hộp chữ nhật;
- đèn lồng dạng khối trụ;
- đèn lồng dạng khối cầu.

b) Đ, S ?

- Đèn lồng dạng khối cầu có nhiều nhất.
- Đèn lồng dạng khối trụ có ít nhất.

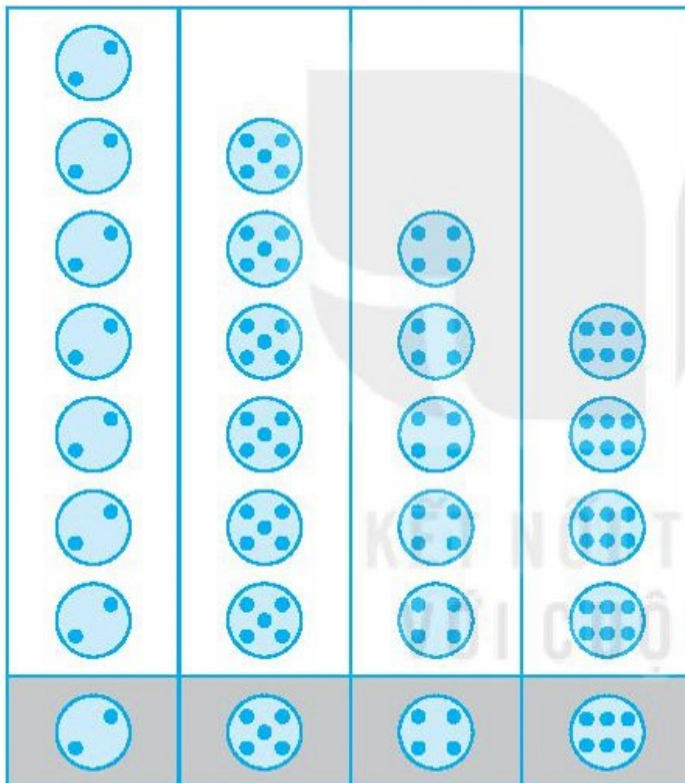
BÀI 65

BIỂU ĐỒ TRANH

Tiết 1

1 Cho biểu đồ:

SỐ HÌNH BẠN NAM VẼ ĐƯỢC



Số ?

a) Mỗi loại có bao nhiêu hình?

có 7 hình

có hình

có hình

có hình

b) Số hình Nam vẽ được tất cả là hình.

2 Cho biểu đồ:

SỐ HÌNH BẠN MAI CẮT ĐƯỢC

Hình tròn								
Hình tam giác								
Hình vuông								

a) Số ?

- Số hình của ba loại có tất cả là hình.
- Số hình tròn nhiều hơn số hình tam giác là hình.

b) Khoanh vào chữ đặt trước câu trả lời đúng.

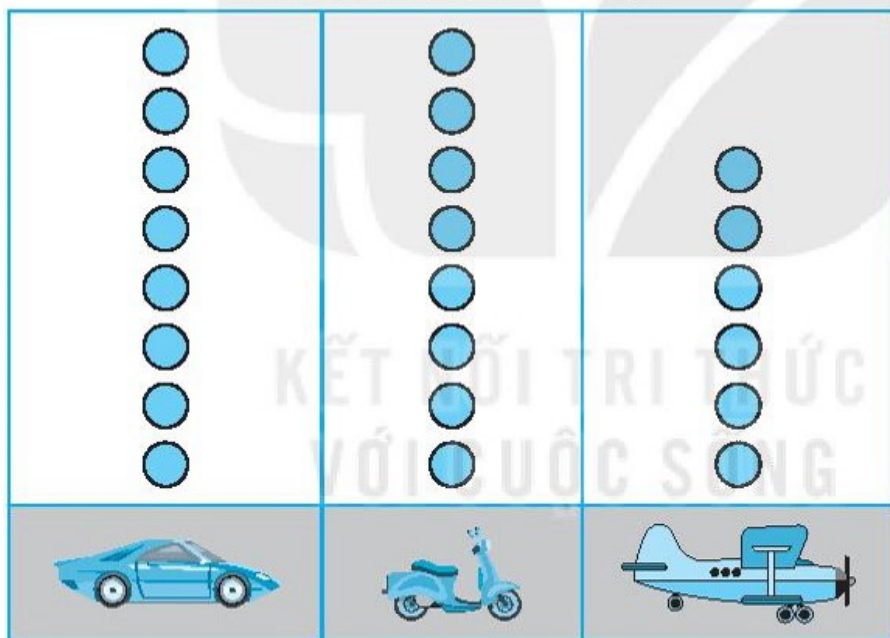
Trong các hình Mai cắt được, hình nào có số lượng ít nhất?

- A. Hình tròn B. Hình vuông C. Hình tam giác

Tiết 2

1 Cho biểu đồ:




SỐ ĐỒ CHƠI CỦA VIỆT



Mỗi  biểu thị cho 1 đồ vật.

a) Số ?

Việt có bao nhiêu đồ chơi mỗi loại?

 : chiếc  : chiếc  : chiếc

b) Khoanh vào chữ đặt trước câu trả lời đúng.




Đồ chơi nào có ít nhất?

- A.  B.  C. 

2 Mỗi con thỏ, rùa, sóc biểu thị bằng một chấm tròn (●). Trong khu rừng có 8 con thỏ, 6 con sóc, 5 con rùa.

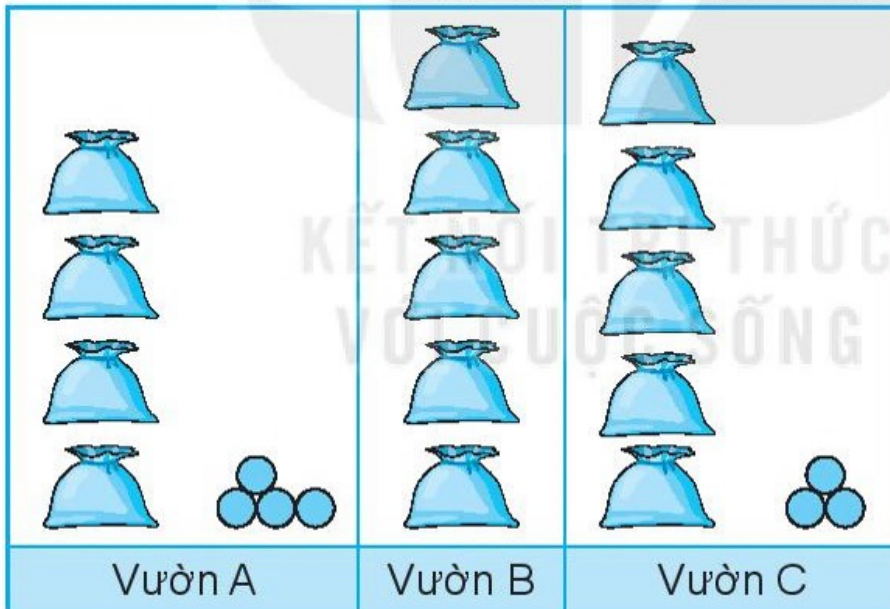
Em hãy vẽ thêm số chấm tròn vào biểu đồ sao cho đủ số các con thỏ, sóc, rùa có trong khu rừng.

SỐ THỎ, RÙA, SÓC TRONG KHU RỪNG

	●	●	●	●	●	●		
	●	●	●	●	●			
	●	●	●	●	●			

3 Cho biểu đồ:

SỐ CÀ CHUA THU HOẠCH ĐƯỢC Ở BA KHU VƯỜN



Mỗi ● biểu thị 1 quả cà chua.

Mỗi  gồm 10 quả cà chua.

Số ?

a) Số quả cà chua thu hoạch được ở mỗi vườn là:

• Vườn A: quả; • Vườn B: quả; • Vườn C: quả.

b) Số quả cà chua ở vườn B nhiều hơn vườn A là quả.

c) Số quả cà chua ở cả ba khu vườn là quả.

1 ✎ Chọn từ *chắc chắn*, *có thể* hoặc *không thể* để điền vào chỗ chấm cho thích hợp.

Trong hộp bút của Mai có 2 bút chì và 2 bút mực. Trong hộp bút của Việt có 3 bút chì. Trong hộp bút của Nam có 2 bút mực.

Nếu mỗi bạn lấy 1 cái bút ra khỏi hộp bút của mình thì:

- a) Mai lấy được bút chì.
- b) Việt lấy được bút chì.
- c) Nam lấy được bút chì.

2 ✎ Khoanh vào chữ đặt trước câu trả lời đúng.

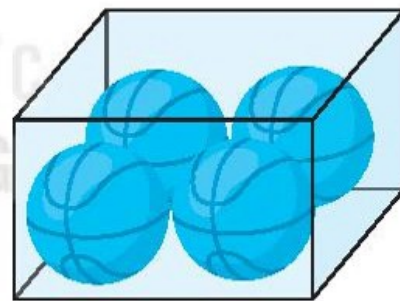
Trong hộp có 4 quả bóng màu xanh. Không nhìn vào hộp, Nam lấy 1 quả bóng từ bên trong chiếc hộp đó.

a) Khả năng để Nam lấy được 1 quả bóng màu xanh là:

- A. Chắc chắn B. Có thể C. Không thể

b) Khả năng để Nam lấy được 1 quả bóng màu trắng là:

- A. Chắc chắn B. Có thể C. Không thể



3 ✎ Chọn từ *chắc chắn*, *có thể* hoặc *không thể* để điền vào chỗ chấm cho thích hợp.

Trên đĩa có 2 chiếc bánh hình tròn và 3 chiếc bánh hình vuông. Rô-bốt cho Mai và Mi, mỗi bạn 2 chiếc bánh. Như vậy:

- a) Trên đĩa còn lại 1 chiếc bánh.
- b) Trên đĩa còn lại 1 chiếc bánh hình vuông.
- c) Trên đĩa còn lại 2 chiếc bánh.

BÀI 67

THỰC HÀNH VÀ TRẢI NGHIỆM THU THẬP, PHÂN LOẠI, KIỂM Đếm SỐ LIỆU

1 Số ?



Trên chiếc kệ đồ chơi có:

khối ru-bích;

cái đàn;

quyển sách;

con búp bê;

cái ô tô;

con gấu bông.

2 ✎ Quan sát lớp em học rồi viết tiếp vào chỗ chấm cho thích hợp.

a) Lớp em có bạn nam và bạn nữ.

b) Trong lớp em, số bạn nam hay số bạn nữ nhiều hơn?

.....

3 ✎ Xem số trang của mỗi chủ đề trong sách Toán 2 tập hai rồi thực hiện các yêu cầu.

a) Số ?

Mỗi chủ đề có bao nhiêu trang?

Chủ đề	Chủ đề 10	Chủ đề 11	Chủ đề 12	Chủ đề 13
Số trang				

b) Khoanh vào chữ đặt trước câu trả lời đúng.

• Chủ đề nào có nhiều trang nhất?

A. Chủ đề 10

B. Chủ đề 11

C. Chủ đề 12

D. Chủ đề 13

• Chủ đề nào có ít trang nhất?

A. Chủ đề 10

B. Chủ đề 11

C. Chủ đề 12

D. Chủ đề 13

4 ✎ Hỏi các bạn trong tổ em rồi viết số thích hợp vào chỗ chấm.

Trong tổ em:

• Có bạn đi bộ đến trường.

• Có bạn được bố mẹ đưa đến trường bằng xe đạp.

• Có bạn được bố mẹ đưa đến trường bằng xe máy.

• Có bạn đến trường bằng phương tiện khác.

BÀI 68

ÔN TẬP CÁC SỐ TRONG PHẠM VI 1 000

Tiết 1

1 Nói (theo mẫu).

Hai trăm linh năm	257	Bảy trăm bốn mười lăm
Hai trăm năm mười bảy	880	Bốn trăm ba mười tư
Tám trăm tám mươi	205	Sáu trăm chín mười một
	434	
	691	
	745	

2 Số ?

a)

534	535		537		539		541
-----	-----	--	-----	--	-----	--	-----

b)

321	323	325		329		333	
-----	-----	-----	--	-----	--	-----	--

c)

842	844	846		850			856
-----	-----	-----	--	-----	--	--	-----

3 >; <; = ?

542 539

657 700

986 800 + 98

856 865

349 345

99 100 + 2

780 784

189 201

280 200 + 80

4 ✎ a) Viết các số 796; 887; 769; 901 theo thứ tự từ bé đến lớn:

.....

b) Khoanh vào số lớn nhất trong các số sau:

534

589

499

515

5 ✎ Viết chữ số thích hợp vào ô trống.

a) $4\boxed{}5 > 489$

b) $6\boxed{}9 < 611$

c) $57\boxed{} < 57\boxed{} < 572$

d) $9\boxed{}8 > \boxed{}97 > 898$

Tiết 2

1 ✎ Cho biết số học sinh ở bốn trường như sau:

- Trường Lê Lợi: 756 học sinh;
- Trường Quang Trung: 819 học sinh;
- Trường Nguyễn Trãi: 831 học sinh;
- Trường Nguyễn Siêu: 745 học sinh.

Viết tiếp vào chỗ chấm cho thích hợp.

a) Trường có ít học sinh nhất.

b) Trường có nhiều học sinh nhất.

c) Tên các trường viết theo thứ tự số học sinh từ bé đến lớn là:

trường → trường

→ trường → trường

2 ✎ Viết số thành tổng (theo mẫu).

Mẫu: $257 = 200 + 50 + 7$.

$374 = \dots\dots\dots$

$405 = \dots\dots\dots$





$822 = \dots\dots\dots$

$680 = \dots\dots\dots$

$555 = \dots\dots\dots$

$996 = \dots\dots\dots$

3 ✎ Nói con voi với thùng nước thích hợp (theo mẫu).



4 ✎ Số ?

a) $300 + \square = 350$

b) $800 + 40 + \square = 843$

5 ✎ Viết tiếp vào chỗ chấm cho thích hợp.



a) Các số có ba chữ số lập được từ ba thẻ số trên là:

.....

b) Tổng của số lớn nhất và số bé nhất trong các số lập được ở câu a là:

BÀI 69

ÔN TẬP PHÉP CỘNG, PHÉP TRỪ TRONG PHẠM VI 100

Tiết 1

1 ✎ Tính nhẩm.

a) $50 + 30 = \dots$

$80 - 50 = \dots$

$80 - 30 = \dots$

b) $70 + 30 = \dots$

$100 - 70 = \dots$

$100 - 30 = \dots$

c) $50 + 50 = \dots$

$90 - 30 = \dots$

$100 - 60 = \dots$

2 ✎ Đặt tính rồi tính.

a) $48 + 6$

.....

.....

.....

$25 + 69$

.....

.....

.....

$56 + 37$

.....

.....

.....

b) $62 - 8$

.....

.....

.....

$73 - 46$

.....

.....

.....

$80 - 59$

.....

.....

.....

3 ✎ Tô màu đỏ vào những đám mây ghi phép tính có kết quả bé hơn 56, màu xanh vào những đám mây ghi phép tính có kết quả lớn hơn 75.

$50 + 4$

$88 - 40$

$57 + 20$

$82 - 2$

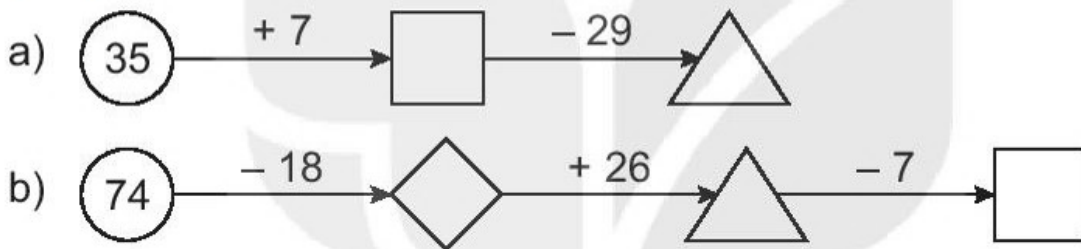
$60 + 24$

$91 - 21$

- 4 ✎ Quãng đường Hà Nội – Ninh Bình dài 80 km. Quãng đường Hà Nội – Bắc Giang dài 62 km. Hỏi quãng đường Hà Nội – Ninh Bình dài hơn quãng đường Hà Nội – Bắc Giang bao nhiêu ki-lô-mét?

Bài giải

- 5 ✎ Số ?



Tiết 2

- 1 ✎ Đ, S ?

a)
$$\begin{array}{r} 27 \\ + 6 \\ \hline 87 \end{array} \square$$

b)
$$\begin{array}{r} 81 \\ - 7 \\ \hline 74 \end{array} \square$$

c)
$$\begin{array}{r} 36 \\ + 48 \\ \hline 84 \end{array} \square$$

d)
$$\begin{array}{r} 75 \\ - 39 \\ \hline 46 \end{array} \square$$

- 2 ✎ Đặt tính rồi tính.

a) $39 + 36$

.....
.....
.....

$66 + 28$

.....
.....
.....

$7 + 85$

.....
.....
.....

b) $85 - 56$

.....
.....
.....



$93 - 88$

.....
.....
.....

$52 - 9$


.....
.....
.....

3 ✎ Tô màu vàng vào quả bóng ghi phép tính có kết quả bé nhất, màu tím vào quả bóng ghi phép tính có kết quả lớn nhất.



4 ✎ Trong ngày sinh nhật bà, Việt hỏi: “Bà ơi, năm nay bà bao nhiêu tuổi?”. Bà nói: “Cháu tính nhé! Năm nay ông 65 tuổi, bà kém ông 6 tuổi.” Em hãy cùng Việt tính tuổi của bà.

Bài giải



5 ✎ a) Tính.

$76 + 18 - 9 = \dots\dots\dots$

$81 - 54 + 8 = \dots\dots\dots$

b) Viết tiếp vào chỗ chấm cho thích hợp.

Tìm hiệu của số tròn chục lớn nhất có hai chữ số và số bé nhất có hai chữ số giống nhau.

- Số tròn chục lớn nhất có hai chữ số là:
- Số bé nhất có hai chữ số giống nhau là:
- Hiệu của hai số trên là:

Tiết 3

1 ✎ Khoanh vào chữ đặt trước câu trả lời đúng.

a) Tổng của 46 và 38 là:

A. 84 B. 85 C. 74

b) Hiệu của 81 và 57 là:

A. 34 B. 24 C. 42

c) Kết quả tính $58 + 5 - 29$ là:

A. 63 B. 44 C. 34

d) Kết quả tính $44 - 6 + 46$ là:

A. 38 B. 84 C. 85

2 ✎ Viết chữ số thích hợp vào ô trống.

a)
$$\begin{array}{r} + 48 \\ \square \\ \hline \square 2 \end{array}$$

b)
$$\begin{array}{r} - 62 \\ \square \\ \hline \square 7 \end{array}$$

c)
$$\begin{array}{r} + 5\square \\ \square 8 \\ \hline 96 \end{array}$$

d)
$$\begin{array}{r} - 8\square \\ \square 9 \\ \hline 54 \end{array}$$

3 ✎ $>$; $<$; $=$?

$56 \square 34 + 19$

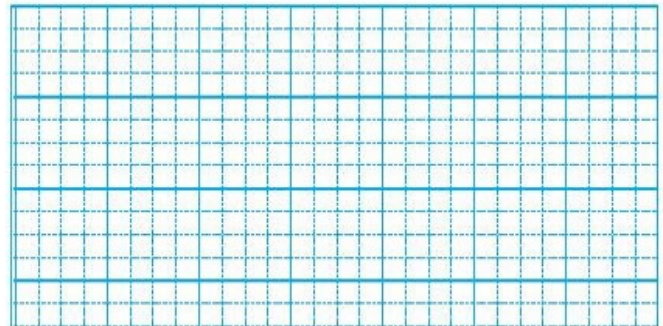
$94 - 27 \square 48 + 25$

$36 \square 82 - 46$

$48 + 45 \square 94 - 5$

4 ✎ Mai cân nặng 25 kg, Mi cân nặng 16 kg. Hỏi Mai cân nặng hơn Mi bao nhiêu ki-lô-gam?

Bài giải



5 ✎ Số ?

a) $66 \xrightarrow{+8} \diamond \xrightarrow{-35} \triangle \xrightarrow{+47} \square$

b) $50 \xrightarrow{-20} \square \xrightarrow{+\square} 39$

BÀI 70

ÔN TẬP PHÉP CỘNG, PHÉP TRỪ TRONG PHẠM VI 1 000

Tiết 1

1 ✎ Tính nhẩm.

a) $400 + 500 = \dots\dots\dots$ $700 + 300 = \dots\dots\dots$ $800 + 80 = \dots\dots\dots$

b) $600 + 400 = \dots\dots\dots$ $1\ 000 - 600 = \dots\dots\dots$ $1\ 000 - 400 = \dots\dots\dots$

c) $900 - 300 = \dots\dots\dots$ $1\ 000 - 500 = \dots\dots\dots$ $740 - 40 = \dots\dots\dots$

2 ✎ Đặt tính rồi tính.

a) $243 + 535$ $327 + 456$ $864 + 72$
.....
.....
.....

b) $878 - 642$ $961 - 725$ $609 - 57$
.....
.....
.....

3 ✎ Nối ô trống với phép tính thích hợp (theo mẫu).

$475 + 200$

$193 + 300$

$890 - 420$

> 650

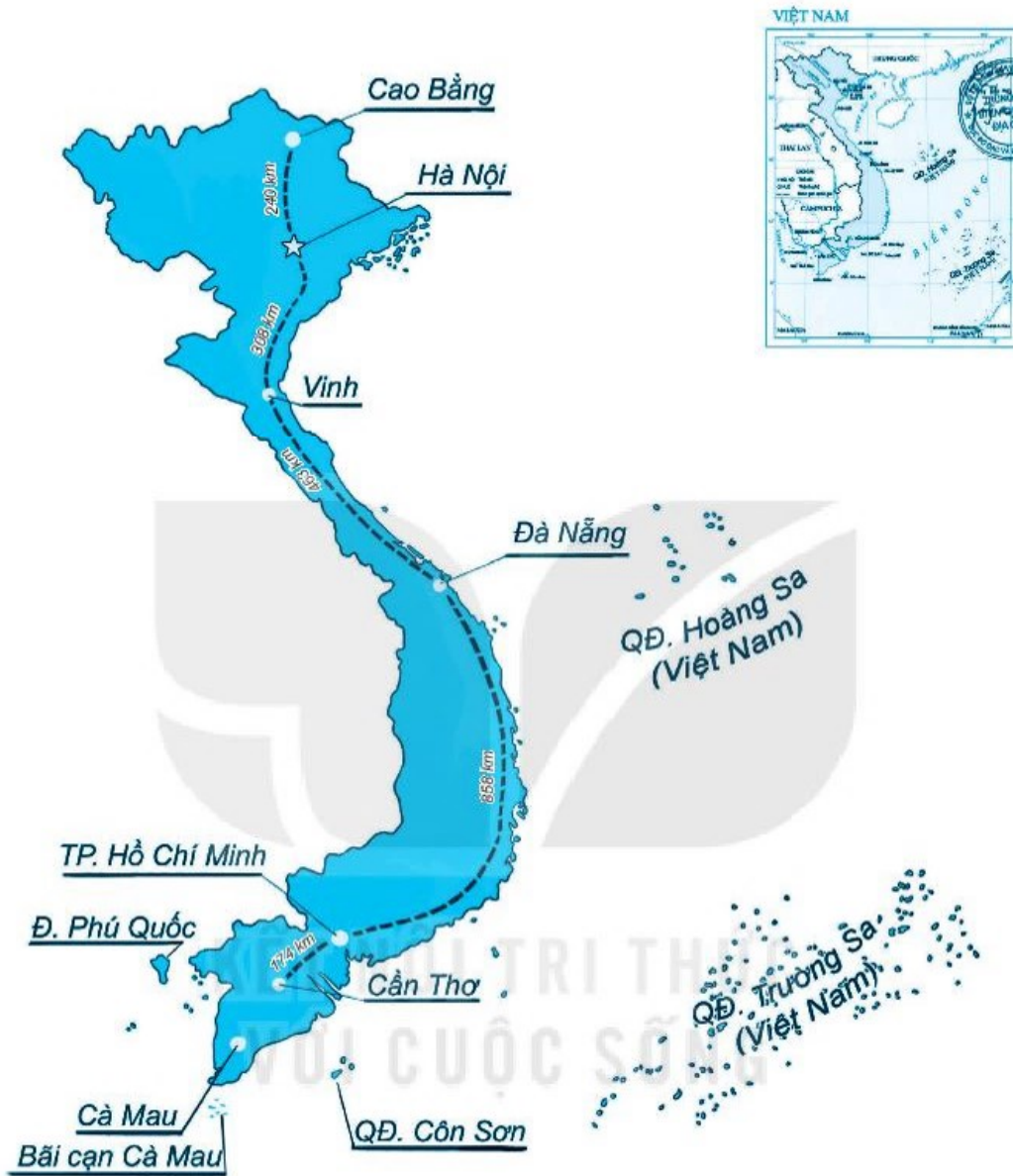
< 500

$954 - 254$

$615 + 45$

$730 - 300$

4 Quan sát một số tuyến đường bộ trong hình rồi viết tiếp vào chỗ chấm cho thích hợp.



a) Trong hai địa điểm Cao Bằng và Vinh thì gần Hà Nội hơn.

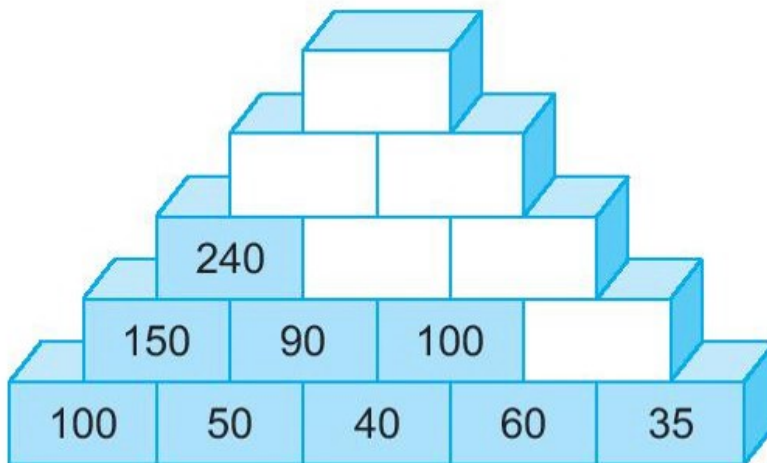
b) Quãng đường Đà Nẵng – Cần Thơ (qua Thành phố Hồ Chí Minh) dài:

.....

c) Quãng đường Đà Nẵng – Thành phố Hồ Chí Minh dài hơn quãng đường Đà Nẵng – Vinh là:

.....

5 SỐ ?



Tiết 2

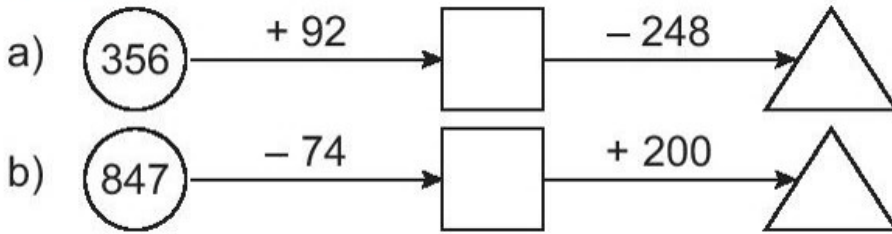
1 Đ, S ?

- | | | | |
|--|--|---|---|
| a) $\begin{array}{r} 367 \\ + 25 \\ \hline 392 \end{array}$ <input type="checkbox"/> | b) $\begin{array}{r} 572 \\ - 38 \\ \hline 192 \end{array}$ <input type="checkbox"/> | c) $\begin{array}{r} 451 \\ + 465 \\ \hline 816 \end{array}$ <input type="checkbox"/> | d) $\begin{array}{r} 784 \\ - 629 \\ \hline 155 \end{array}$ <input type="checkbox"/> |
|--|--|---|---|

2 Đặt tính rồi tính.

- | | | |
|--------------|------------|-------------|
| a) $9 + 582$ | $56 + 763$ | $358 + 425$ |
| | | |
| | | |
| | | |
| b) $434 - 8$ | $692 - 86$ | $937 - 561$ |
| | | |
| | | |
| | | |

3 Số ?



4 a) Tính.

$$425 + 248 - 56 = \dots\dots\dots$$

$$967 - 674 + 80 = \dots\dots\dots$$

b) >; <; = ?

$$400 + 30 \square 450$$

$$790 - 400 \square 600 - 200$$

5 Để ủng hộ các bạn vùng bị lũ lụt, trường Thăng Lợi quyên góp được 325 bộ quần áo. Trường Hoà Bình quyên góp được nhiều hơn trường Thăng Lợi 28 bộ quần áo. Hỏi trường Hoà Bình quyên góp được bao nhiêu bộ quần áo?

Bài giải

Tiết 3

1 Khoanh vào chữ đặt trước câu trả lời đúng.

a) Tổng của 567 và 329 là:

A. 886

B. 896

C. 986

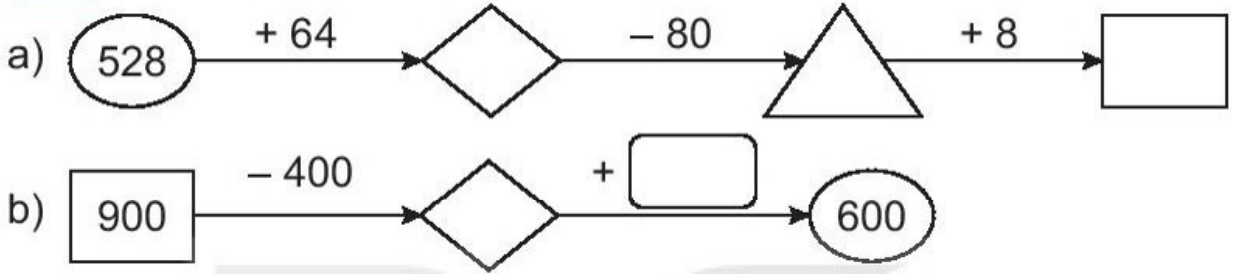
b) Hiệu của 783 và 65 là:

- A. 718 B. 728 C. 133

c) Kết quả tính $653 + 74 - 60$ là:

- A. 727 B. 767 C. 667

2 Số ?



3 Giải bài toán theo tóm tắt sau:

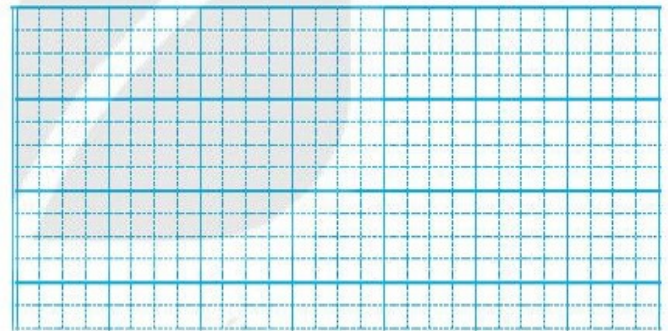
Bài giải

Tóm tắt

Nam cao: 121 cm

Việt cao: 117 cm

Nam cao hơn Việt: ... cm?



4 Viết chữ số thích hợp vào ô trống.

a)
$$\begin{array}{r} + \quad 4 \quad 2 \quad 7 \\ \quad \quad 4 \quad \square \\ \hline \square \square 3 \end{array}$$

b)
$$\begin{array}{r} - \quad 6 \quad 4 \quad 9 \\ \quad \quad 9 \quad \square \\ \hline \square \square 5 \end{array}$$

c)
$$\begin{array}{r} - \quad 9 \square 1 \\ \quad 6 \quad 5 \quad 6 \\ \hline \square 2 \square \end{array}$$

5 Viết tiếp vào chỗ chấm cho thích hợp.


Tìm tổng của số bé nhất có ba chữ số khác nhau và số bé nhất có ba chữ số.

- Số bé nhất có ba chữ số khác nhau là:
- Số bé nhất có ba chữ số là:
- Tổng của hai số trên là:


Tiết 1

1 Nói (theo mẫu).

Mỗi nhóm con vật có bao nhiêu cái chân?




$6 \times 4 = 24$



$4 \times 3 = 12$



$8 \times 3 = 24$



$2 \times 5 = 10$

2 Viết tích thành tổng các số hạng bằng nhau rồi tính (theo mẫu).

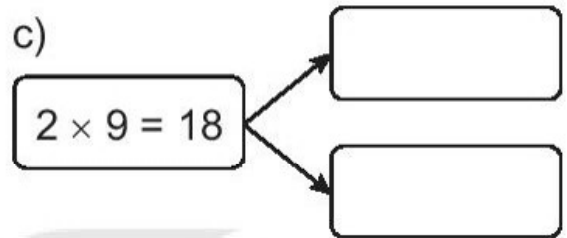
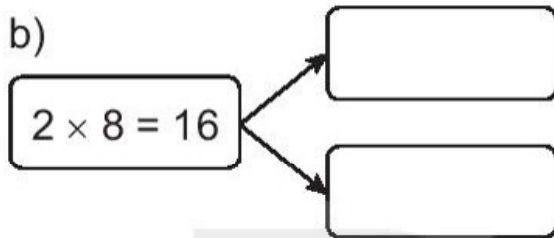
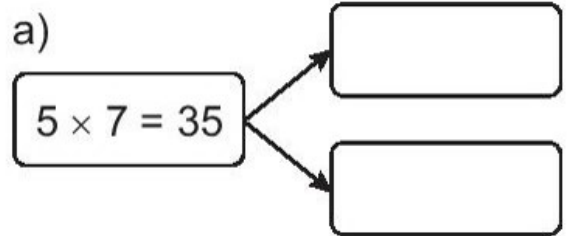
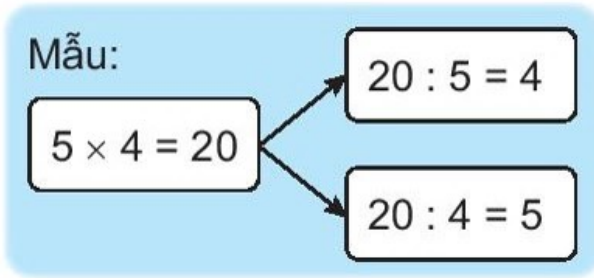
Mẫu: $6 \times 4 = 6 + 6 + 6 + 6 = 24$. Vậy $6 \times 4 = 24$.

a) $4 \times 5 = \dots = \dots$ Vậy $4 \times 5 = \dots$

b) $4 \times 6 = \dots = \dots$ Vậy $4 \times 6 = \dots$

c) $10 \times 3 = \dots = \dots$ Vậy $10 \times 3 = \dots$

3 ✎ Viết phép chia thích hợp vào ô trống (theo mẫu).



4 ✎ Có 12 kg đường chia đều vào 2 túi. Hỏi mỗi túi có mấy ki-lô-gam đường?

Bài giải

5 ✎ Khoanh vào chữ đặt trước câu trả lời đúng.

Mỗi lọ hoa có 5 bông hồng và 2 bông cúc. Hỏi 6 lọ hoa như vậy có:

a) Bao nhiêu bông hoa hồng?

A. 25 bông

B. 30 bông

C. 35 bông

b) Bao nhiêu bông hoa cúc?

A. 14 bông

B. 12 bông

C. 10 bông

Tiết 2

1 Số ?

a)

Thừa số	2	2	2	5	5	5
Thừa số	6	7	8	4	5	9
Tích						

b)

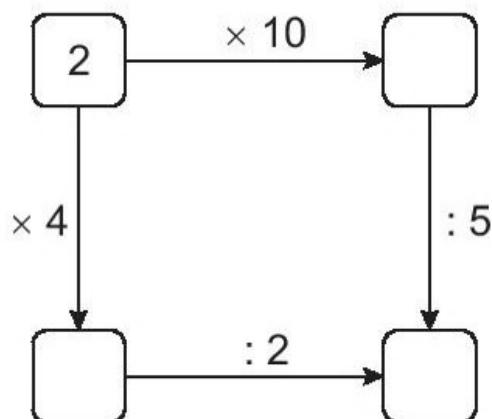
Số bị chia	12	14	16	15	30	45
Số chia	2	2	2	5	5	5
Thương						

2 Nói (theo mẫu).

Mỗi chìa khoá mở được ổ khoá nào?

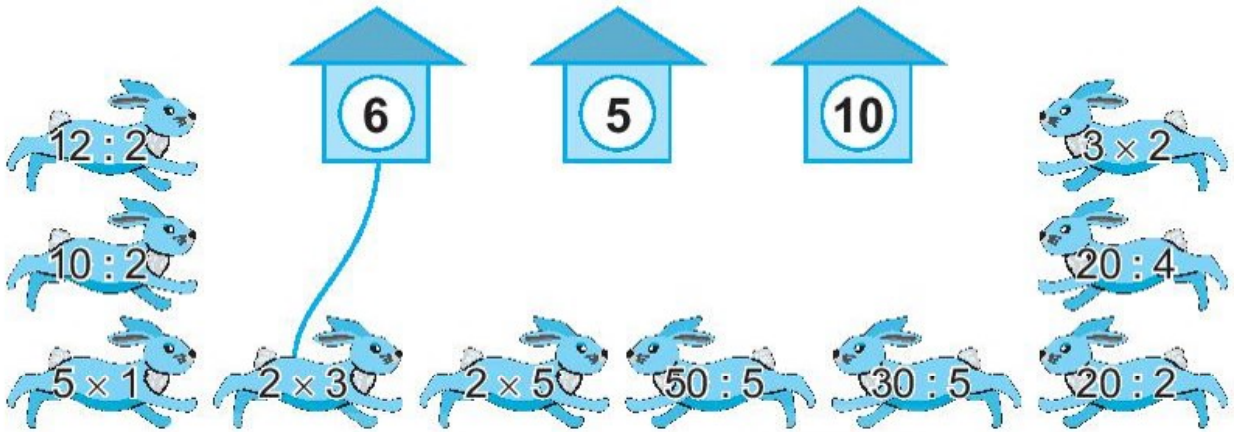


3 Số ?



2 ✎ Thỏ vào được chuồng khi kết quả của phép tính ghi trên thỏ bằng số ghi ở chuồng đó.

a) Nối mỗi con thỏ với chuồng nó được vào (theo mẫu).



b) Khoanh vào chữ đặt trước câu trả lời đúng.

Chuồng nào có nhiều thỏ được vào nhất?

A. Chuồng số 6

B. Chuồng số 5

C. Chuồng số 10


3 ✎ Số ?

a) $5 \times 4 \rightarrow \square \rightarrow : 2 \rightarrow \triangle$

b) $2 \times 9 \rightarrow \square \rightarrow + 17 \rightarrow \triangle \rightarrow : 5 \rightarrow \square$

4 ✎ Trong nhà để xe có 10 xe máy. Hỏi có tất cả bao nhiêu bánh xe máy?

Bài giải



5 ✎ Khoanh vào chữ đặt trước câu trả lời đúng.

Trong chuồng có cả gà và thỏ. Biết cả gà và thỏ có 10 cái chân và số gà nhiều hơn số thỏ. Hỏi trong chuồng có bao nhiêu con gà?

A. 6 con gà

B. 3 con gà

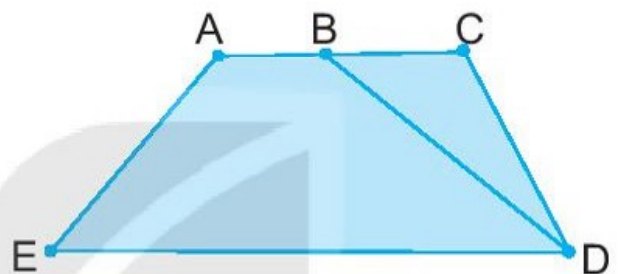
C. 2 con gà

Tiết 1

1 Số ?

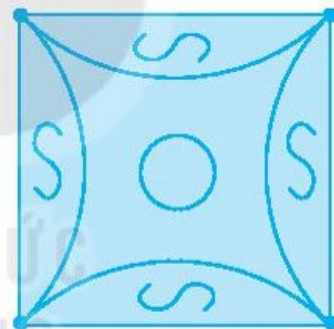
a) Trong hình bên:

- Có đoạn thẳng;
- Có hình tam giác;
- Có hình tứ giác.



b) Trong hình bên:

- Có đoạn thẳng;
- Có đường cong.



2 Cho các hình A, B, C, D, E như sau:



A



B



C



D



E

Viết tiếp vào chỗ chấm cho thích hợp (theo mẫu).

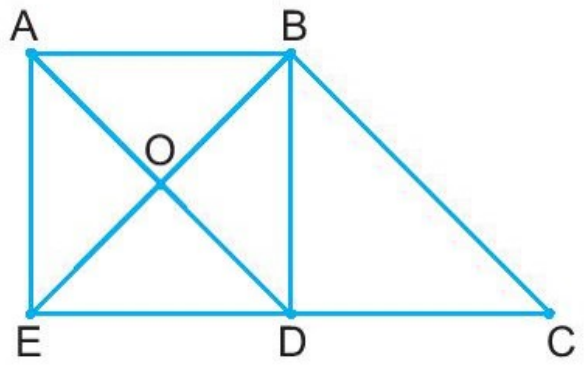
a) Những hình không là khối trụ: A,

b) Những hình không là khối cầu:

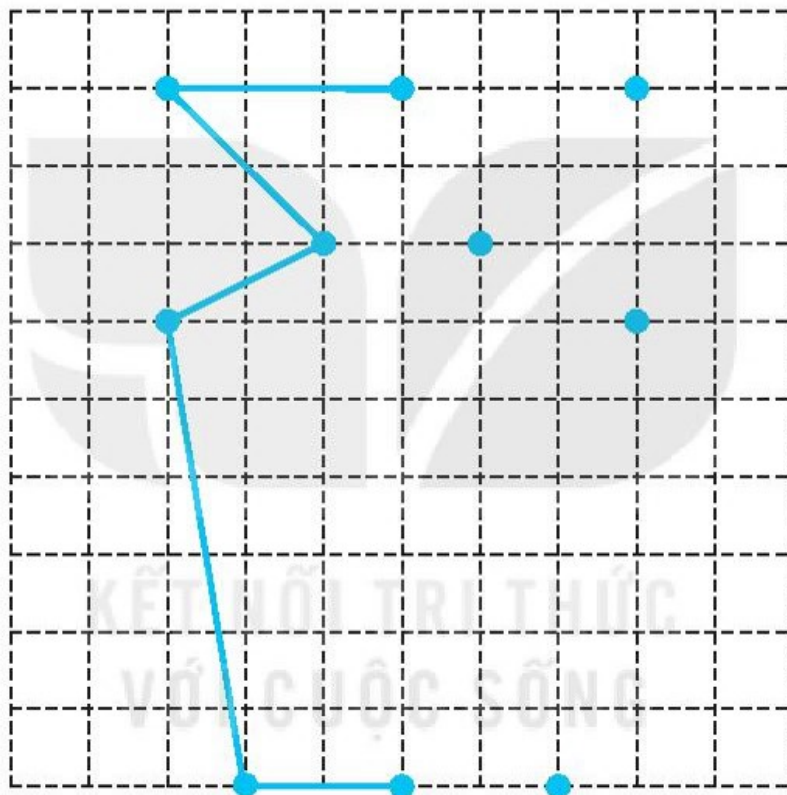
3 ✎ Viết tiếp vào chỗ chấm cho thích hợp (theo mẫu).

Ba điểm thẳng hàng trong hình vẽ là:

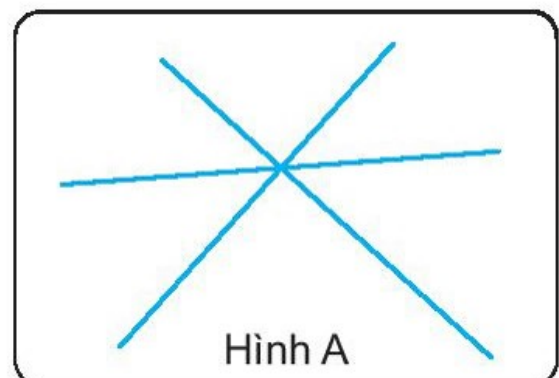
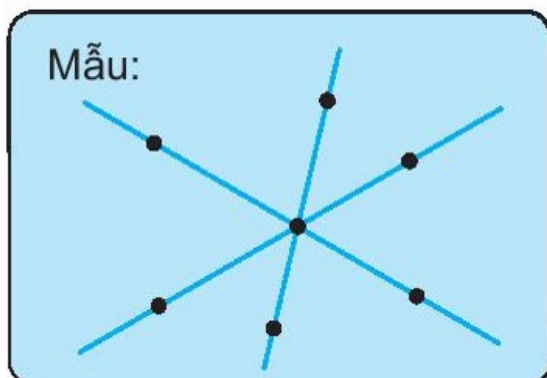
- Điểm A, điểm O và điểm D;
- Điểm, điểm và điểm
- Điểm, điểm và điểm



4 ✎ Em hãy vẽ tiếp hình chiếc lọ hoa (theo mẫu) rồi tô màu trang trí.



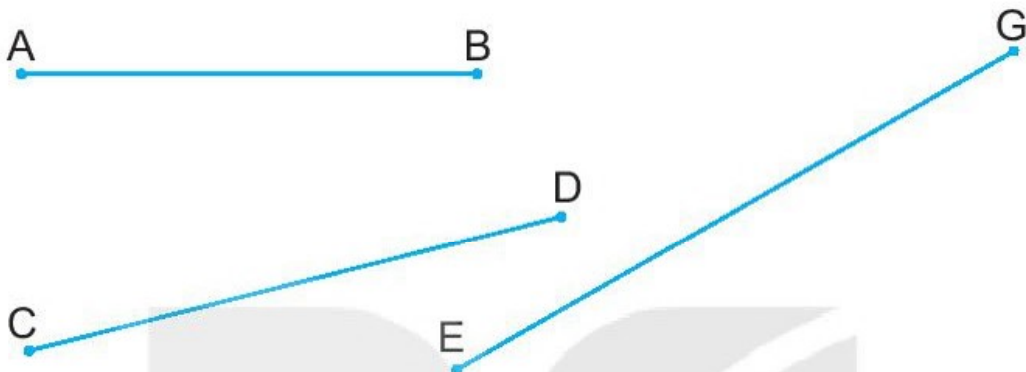
5 ✎ Chấm 7 điểm trên ba đường thẳng (hình A) sao cho mỗi đường thẳng có 3 điểm (theo mẫu).



Tiết 2


1 ✎ Viết tiếp vào chỗ chấm cho thích hợp.

Đo độ dài các đoạn thẳng rồi cho biết đoạn thẳng nào dài nhất, đoạn thẳng nào ngắn nhất.



- Đoạn thẳng dài nhất là
- Đoạn thẳng ngắn nhất là

2 ✎ Vẽ đoạn thẳng MN dài 8 cm.



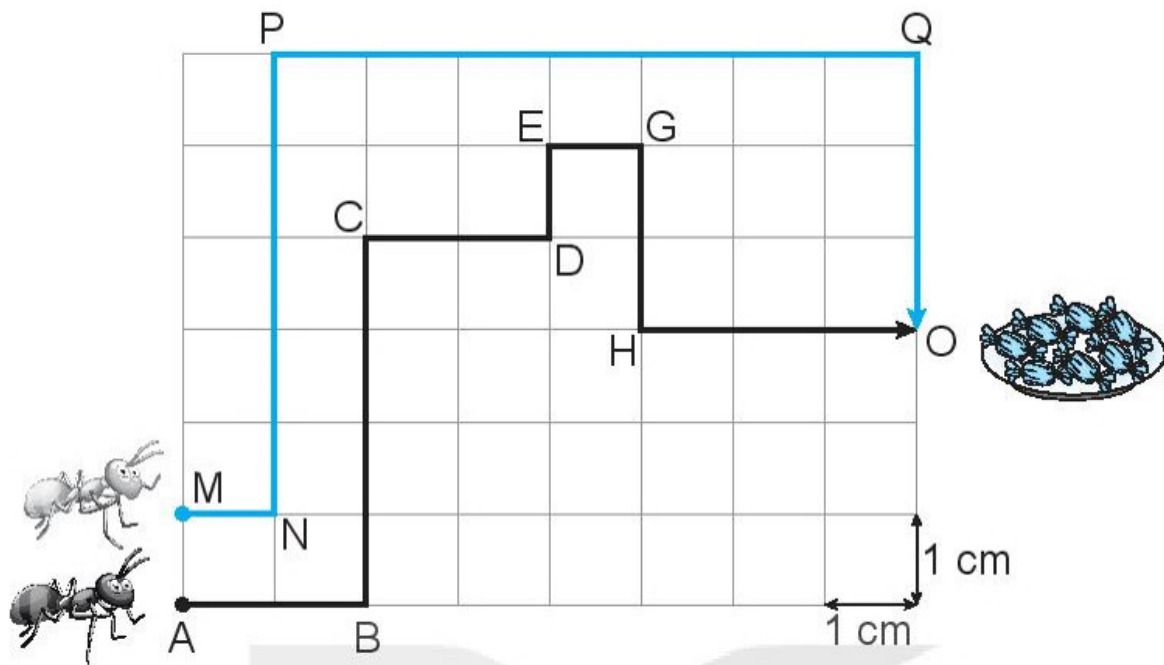
3 ✎ Số ?



- a) Độ dài đường gấp khúc ABC là cm.
- b) Độ dài đường gấp khúc BCD là cm.
- c) Độ dài đường gấp khúc ABCD là cm.

4 ✎ Số ?

Kiểm xám đến đĩa kẹo theo đường MNPQO. Kiểm đen đến đĩa kẹo theo đường ABCDEGHO.

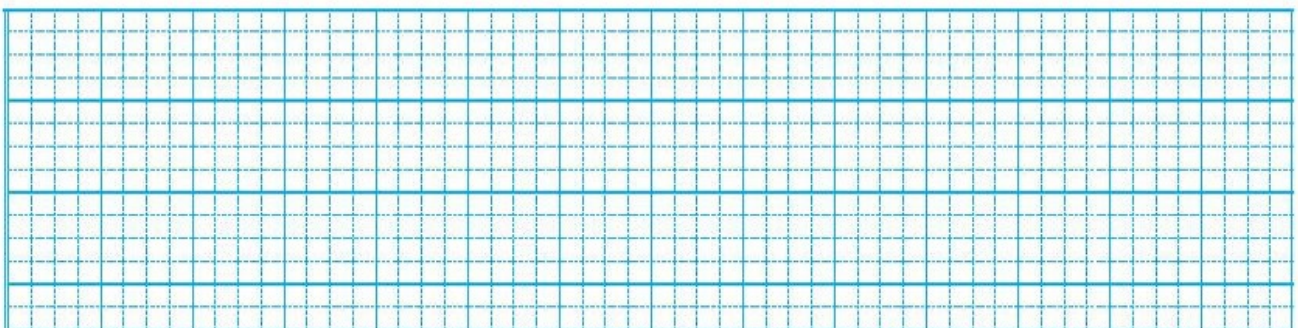


- a) Độ dài đường đi của kiến xám là cm.
- b) Độ dài đường đi của kiến đen là cm.
- c) Tổng độ dài đường đi của hai con kiến là cm.

5 Cây cầu là đường gấp khúc ABCD dài 130 m. Tính độ dài đoạn cầu nằm ngang BC, biết tổng độ dài hai đoạn cầu AB và CD là 80 m.



Bài giải



Tiết 1

1 ✎ Viết số thích hợp vào chỗ chấm.

a) $25 \text{ kg} + 18 \text{ kg} = \dots\dots \text{ kg}$

$43 \text{ kg} - 18 \text{ kg} = \dots\dots \text{ kg}$

$43 \text{ kg} - 25 \text{ kg} = \dots\dots \text{ kg}$

c) $2 \text{ kg} \times 2 = \dots\dots \text{ kg}$

$4 \text{ kg} : 2 = \dots\dots \text{ kg}$

b) $27 \text{ l} + 8 \text{ l} = \dots\dots \text{ l}$

$35 \text{ l} - 8 \text{ l} = \dots\dots \text{ l}$

$35 \text{ l} - 7 \text{ l} = \dots\dots \text{ l}$

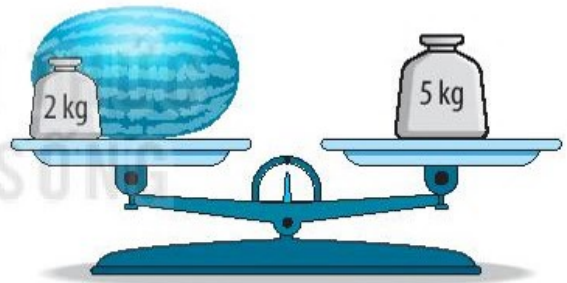
d) $5 \text{ l} \times 5 = \dots\dots \text{ l}$

$25 \text{ l} : 5 = \dots\dots \text{ l}$

2 ✎ Số ?



a) Con mèo cân nặng kg.



b) Quả dưa cân nặng kg.

3 ✎ Giải bài toán theo tóm tắt sau:

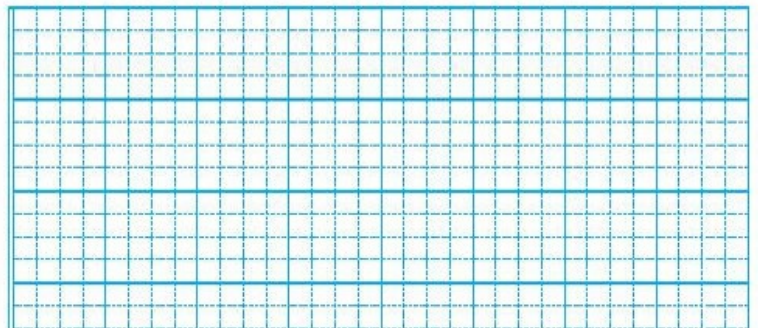
Bài giải

Tóm tắt

Con bò cân nặng : 250 kg

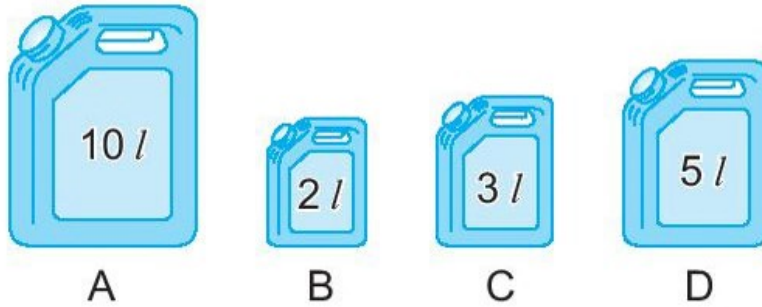
Con trâu
nặng hơn con bò : 92 kg

Con trâu cân nặng : ... kg?



4 ✎ Viết tiếp vào chỗ chấm cho thích hợp.

Các can đựng số lít nước như sau:



- a) Can đựng nhiều nước nhất hơn can đựng ít nước nhất là l nước.
b) Muốn lấy 2 can để được 7 l nước thì cần lấy: can B và can
c) Muốn lấy được 10 l nước thì cần lấy các can:
.....

Tiết 2

1 ✎ Viết *cm*, *dm*, *m*, *km* thích hợp vào chỗ chấm trong các câu sau:

- a) Bút sáp màu dài khoảng 10
b) Cột cờ cao khoảng 10
c) Gang tay của cô Hoa dài khoảng 2
d) Quãng đường từ nhà Mai đến trường dài khoảng 2

2 ✎ Viết số thích hợp vào chỗ chấm.

- | | |
|--|--|
| a) $25\text{ l} + 17\text{ l} = \dots\dots\text{ l}$ | b) $2\text{ kg} \times 5 = \dots\dots\text{ kg}$ |
| $42\text{ l} - 25\text{ l} = \dots\dots\text{ l}$ | $10\text{ kg} : 5 = \dots\dots\text{ kg}$ |
| $42\text{ l} - 17\text{ l} = \dots\dots\text{ l}$ | $10\text{ kg} : 2 = \dots\dots\text{ kg}$ |
| c) $30\text{ m} + 43\text{ m} = \dots\dots\text{ m}$ | d) $5\text{ km} \times 2 = \dots\dots\text{ km}$ |
| $73\text{ m} - 30\text{ m} = \dots\dots\text{ m}$ | $10\text{ km} : 2 = \dots\dots\text{ km}$ |
| $73\text{ m} - 43\text{ m} = \dots\dots\text{ m}$ | $10\text{ km} : 5 = \dots\dots\text{ km}$ |

3 a) Nói (theo mẫu).

Vào buổi chiều hoặc buổi tối, hai đồng hồ nào chỉ cùng giờ?



18:15

14:30

22:00

19:30

b) Khoanh vào chữ đặt trước câu trả lời đúng.

Nếu hôm nay là thứ Năm, ngày 14 tháng 5. Hỏi thứ Năm tuần trước là ngày nào?

A. Ngày 9 tháng 5

B. Ngày 8 tháng 5

C. Ngày 7 tháng 5

4 Khoanh vào chữ đặt trước câu trả lời đúng.

Giờ vào lớp học hát là 7 giờ 15 phút. Giờ đến lớp của các bạn Rùa, Thỏ, Sóc như sau:



Rùa



Thỏ



Sóc

a) Bạn nào đến lớp muộn sau giờ vào học?

A. Rùa

B. Thỏ

C. Sóc

b) Bạn nào đến lớp sớm trước giờ vào học?

A. Rùa

B. Thỏ

C. Sóc

c) Bạn nào đến lớp đúng giờ vào học?

A. Rùa


B. Thỏ

C. Sóc

BÀI 74

ÔN TẬP KIỂM Đếm SỐ LIỆU VÀ LỰA CHỌN KHẢ NĂNG

1 Dưới đây là các hình vuông, hình tròn, hình tam giác mà bạn Nam cắt được:



a) Số ?

Em ước lượng xem cả ba loại (hình tròn, hình vuông, hình tam giác), bạn Nam cắt tất cả được khoảng mấy chục hình rồi đếm lại.

- Em ước lượng có tất cả khoảng chục hình.
- Em đếm được có tất cả hình.

b) Số ?

Hình	Hình vuông	Hình tròn	Hình tam giác
Số hình			

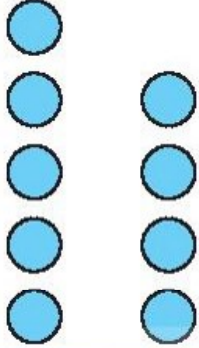
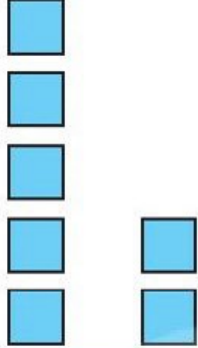
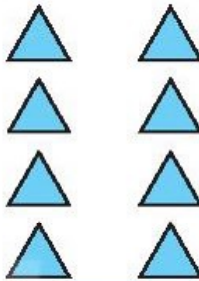



c) Khoanh vào chữ đặt trước câu trả lời đúng.

Hình nào có nhiều nhất?

- A. Hình vuông B. Hình tròn C. Hình tam giác

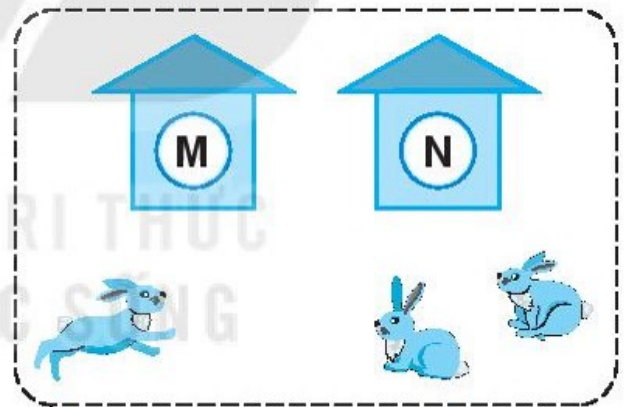
- 2 ✎ Mai đã vẽ được 10 hình tròn, 9 hình vuông và 10 hình tam giác. Em hãy vẽ thêm các hình tròn, hình vuông, hình tam giác vào biểu đồ tranh sau cho thích hợp:

SỐ HÌNH BẠN MAI ĐÃ VẼ ĐƯỢC

		
Hình tròn 	Hình vuông 	Hình tam giác 

- 3 ✎ Khoanh vào chữ đặt trước câu trả lời đúng.

Có 3 con thỏ chạy vào cả hai chuồng **M** và **N**, chuồng nào cũng có thỏ.



Khả năng nào xảy ra trong mỗi trường hợp sau:

a) Chuồng **M** có 2 con thỏ.

A. Có thể B. Không thể C. Chắc chắn

b) Chuồng **N** có 3 con thỏ.

A. Có thể B. Không thể C. Chắc chắn

c) Chuồng **N** có ít nhất 1 con thỏ.

A. Có thể B. Không thể C. Chắc chắn

Tiết 1

1 ✎ Viết số thích hợp vào chỗ chấm.

- a) Số gồm 3 trăm, 6 chục và 7 đơn vị là
- b) Số gồm 2 trăm, 8 chục và 8 đơn vị là
- c) Số gồm 7 trăm, 0 chục và 3 đơn vị là
- d) Số gồm 5 trăm, 9 chục và 0 đơn vị là

2 ✎ Viết số thành tổng các trăm, chục, đơn vị (theo mẫu).

Mẫu: $576 = 500 + 70 + 6.$

786 =

425 =

650 =

902 =

3 ✎ Cho các số 263; 326; 236; 362.

a) Viết các số đã cho theo thứ tự:

- Từ bé đến lớn:
- Từ lớn đến bé:

b) Viết số thích hợp vào chỗ chấm.

Trong bốn số đã cho, số lớn nhất là; số bé nhất là

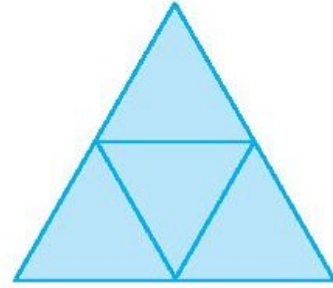
4 ✎ Số ?

a)	Thừa số	2	2	2	2	5	5	5	5
	Thừa số	6	7	8	9	5	4	3	2
	Tích								


3 a) Số ?

Trong hình bên:

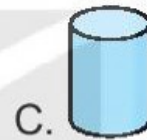
- Có hình tam giác;
- Có hình tứ giác.



b) Khoanh vào chữ đặt trước câu trả lời đúng.



Hình thích hợp đặt vào dấu “?” là:



4 Viết số thích hợp vào chỗ chấm.

Cho đường gấp khúc ABCD như hình vẽ.

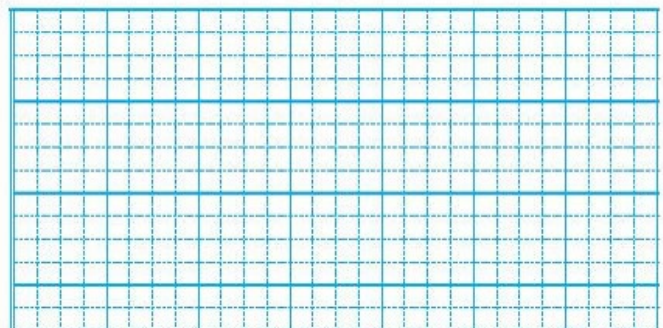


a) Đoạn thẳng AB dài hơn đoạn thẳng BC là m.

b) Độ dài đường gấp khúc ABCD là m.

5 Tàu thứ nhất chở 26 khách du lịch. Tàu thứ hai chở nhiều hơn tàu thứ nhất 4 khách du lịch. Hỏi tàu thứ hai chở bao nhiêu khách du lịch?

Bài giải





HUÂN CHƯƠNG HỒ CHÍ MINH



BỘ VỞ BÀI TẬP LỚP 2 - KẾT NỐI TRI THỨC VỚI CUỘC SỐNG

1. Vở bài tập Tiếng Việt 2, tập một
2. Vở bài tập Tiếng Việt 2, tập hai
3. Tập viết 2, tập một
4. Tập viết 2, tập hai
5. Vở bài tập Toán 2, tập một
6. Vở bài tập Toán 2, tập hai
7. Vở bài tập Tự nhiên và Xã hội 2
8. Vở bài tập Đạo đức 2
9. Vở bài tập Mĩ thuật 2
10. Vở bài tập Âm nhạc 2
11. Vở bài tập Hoạt động trải nghiệm 2
12. Sách bài tập Tiếng Anh 2

Các đơn vị đầu mối phát hành

- **Miền Bắc:** CTCP Đầu tư và Phát triển Giáo dục Hà Nội
CTCP Sách và Thiết bị Giáo dục miền Bắc
- **Miền Trung:** CTCP Đầu tư và Phát triển Giáo dục Đà Nẵng
CTCP Sách và Thiết bị Giáo dục miền Trung
- **Miền Nam:** CTCP Đầu tư và Phát triển Giáo dục Phương Nam
CTCP Sách và Thiết bị Giáo dục miền Nam
- **Cửu Long:** CTCP Sách và Thiết bị Giáo dục Cửu Long

Sách điện tử: <http://hanhtrangso.nxbgd.vn>

Kích hoạt để mở học liệu điện tử: Cào lớp nhũ trên tem để nhận mã số. Truy cập <http://hanhtrangso.nxbgd.vn> và nhập mã số tại biểu tượng chia khoá.



ISBN 978-604-0-25105-3



9 786040 251053

Giá: 19.000 đ